

Computer Proficiency Certification Test

Notations :

- Options shown in green color and with ✓ icon are correct.
- Options shown in red color and with ✗ icon are incorrect.

Question Paper Name:	Computer Proficiency Certification Test 15th June 2019 Shift 1
Subject Name:	Computer Proficiency Certification Test
Creation Date:	2019-06-15 13:45:42
Duration:	95
Total Marks:	75
Display Marks:	Yes
Share Answer Key With Delivery Engine:	Yes
Actual Answer Key:	Yes
Calculator:	None
Magnifying Glass Required?:	No
Ruler Required?:	No
Eraser Required?:	No
Scratch Pad Required?:	No
Rough Sketch/Notepad Required?:	No
Protractor Required?:	No
Show Watermark on Console?:	No
Highlighter:	No
Auto Save on Console?:	No

CPCT

Group Number :	1
Group Id :	75590565
Group Maximum Duration :	75
Group Minimum Duration :	75
Revisit allowed for view? :	No
Revisit allowed for edit? :	No
Break time:	1
Mandatory Break time:	Yes
Group Marks:	75

COMPUTER PROFICIENCY & PROFICIENCY IN GENERAL IT SKILLS AND NETWORKING

Section Id :	755905105
Section Number :	1
Section type :	Online
Mandatory or Optional:	Mandatory
Number of Questions:	52
Number of Questions to be attempted:	52
Section Marks:	52
Display Number Panel:	Yes
Group All Questions:	No

Question Number : 1 Question Id : 755905815 Question Type : MCQ Option Shuffling : Yes Display Question Number : Yes Single Line Question Option : No Option Orientation : Vertical

Correct Marks : 1 Wrong Marks : 0

Which of the following options is NOT available in the header and footer options of MS Word 2013?

Options :

1. ✖ Different first page
2. ✖ Different odd and even pages
3. ✖ Show text document
4. ✔ Varying headers and footers for each paragraph of a document

Question Number : 1 Question Id : 755905815 Question Type : MCQ Option Shuffling : Yes Display Question Number : Yes Single Line Question Option : No Option Orientation : Vertical

Correct Marks : 1 Wrong Marks : 0

Microsoft Word 2013 के शीर्ष लेख और पाद लेख विकल्पों में निम्न में से कौन सा विकल्प उपलब्ध नहीं होता?

Options :

1. ✖ भिन्न प्रथम पृष्ठ (Different first page)
2. ✖ भिन्न विषम और सम पृष्ठ (Different odd & even pages)
3. ✖ पाठ दस्तावेज़ दिखाएँ (Show text document)
4. ✔ किसी दस्तावेज़ के प्रत्येक पैराग्राफ के लिए बदलते शीर्ष लेख और पाद लेख

Question Number : 2 Question Id : 755905816 Question Type : MCQ Option Shuffling : Yes Display Question Number : Yes Single Line Question Option : No Option Orientation : Vertical

Correct Marks : 1 Wrong Marks : 0

Where does the header appear in an MS Word document?

Options :

1. ✔ At the top of every page
2. ✖ At the bottom of every page
3. ✖ Only on the first page
4. ✖ Only on the last page

Question Number : 2 Question Id : 755905816 Question Type : MCQ Option Shuffling : Yes Display Question Number : Yes Single Line Question Option : No Option Orientation : Vertical

Correct Marks : 1 Wrong Marks : 0

MS Word दस्तावेज़ में शीर्ष लेख कहाँ दिखाई देता है?

Options :

1. ☒ प्रत्येक पृष्ठ में सबसे ऊपर
2. ☐ प्रत्येक पृष्ठ में सबसे नीचे
3. ☐ केवल पहले पृष्ठ पर
4. ☐ केवल अंतिम पृष्ठ पर

Question Number : 3 Question Id : 755905817 Question Type : MCQ Option Shuffling : Yes Display Question Number : Yes Single Line Question Option : No Option Orientation : Vertical

Correct Marks : 1 Wrong Marks : 0

A program embedded in the semiconductor chip during the manufacture is called:

Options :

1. ☐ human ware
2. ☒ firmware
3. ☐ live ware
4. ☐ hardware

Question Number : 3 Question Id : 755905817 Question Type : MCQ Option Shuffling : Yes Display Question Number : Yes Single Line Question Option : No Option Orientation : Vertical

Correct Marks : 1 Wrong Marks : 0

निर्माण के दौरान अर्धचालक चिप में सन्निहित प्रोग्राम को क्या कहा जाता है?

Options :

1. ☐ ह्युमन वेयर
2. ☒ फर्मवेयर
3. ☐ लाइव वेयर
4. ☐ हार्डवेयर

Question Number : 4 Question Id : 755905818 Question Type : MCQ Option Shuffling : Yes Display Question Number : Yes Single Line Question Option : No Option Orientation : Vertical

Correct Marks : 1 Wrong Marks : 0

Inverters are referred to as small circuit boards used to convert _____ into _____.

Options :

1. ✖ alternating current (AC); direct current (DC)
2. ✔ direct current (DC); alternating current (AC)
3. ✖ electrical signals; mechanical signals
4. ✖ modulators; demodulators

Question Number : 4 Question Id : 755905818 Question Type : MCQ Option Shuffling : Yes Display Question Number : Yes Single Line Question Option : No Option Orientation : Vertical

Correct Marks : 1 Wrong Marks : 0

इनवर्टर को _____ से _____ में परिवर्तित करने के लिए उपयोग किए जाने वाले छोटे सर्किट बोर्डों के रूप में जाना जाता है।

Options :

1. ✖ प्रत्यावर्ती धारा (ए.सी.); एकदिश धारा (डी.सी.)
2. ✔ एकदिश धारा (डी.सी.); प्रत्यावर्ती धारा (ए.सी.)
3. ✖ विद्युतीय संकेत; यांत्रिक संकेत
4. ✖ माइक्रोलेटर्स; डीमाइक्रोलेटर्स

Question Number : 5 Question Id : 755905819 Question Type : MCQ Option Shuffling : Yes Display Question Number : Yes Single Line Question Option : No Option Orientation : Vertical

Correct Marks : 1 Wrong Marks : 0

The _____ feature allows users to display the devices attached to the system with their drivers.

Options :

1. ✖ drive manager
2. ✖ disk manager
3. ✖ control panel
4. ✔ device manager

Question Number : 5 Question Id : 755905819 Question Type : MCQ Option Shuffling : Yes Display Question Number : Yes Single Line Question Option : No Option Orientation : Vertical

Correct Marks : 1 Wrong Marks : 0

_____ सुविधा से उपयोगकर्ता अपने ड्राइवर द्वारा सिस्टम से जुड़ी डिवाइस को प्रदर्शित कर सकते हैं।

Options :

1. ✖ ड्राइव मैनेजर
2. ✖ डिस्क मैनेजर
3. ✖ कंट्रोल पैनल
4. ✔ डिवाइस मैनेजर

Question Number : 6 Question Id : 755905820 Question Type : MCQ Option Shuffling : Yes Display Question Number : Yes Single Line Question Option : No Option Orientation : Vertical

Correct Marks : 1 Wrong Marks : 0

In a computer system, which of the following is responsible for providing an interface to a user?

Options :

1. ✔ Operating system
2. ✖ Processor
3. ✖ RAM
4. ✖ Hard drive

Question Number : 6 Question Id : 755905820 Question Type : MCQ Option Shuffling : Yes Display Question Number : Yes Single Line Question Option : No Option Orientation : Vertical

Correct Marks : 1 Wrong Marks : 0

निम्न में से किस के कारण कंप्यूटर सिस्टम में उपयोगकर्ता को इंटरफ़ेस उपलब्ध होता है?

Options :

1. ✔ ऑपरेटिंग सिस्टम
2. ✖ प्रोसेसर
3. ✖ यादृच्छिक अभिगम स्मृति (RAM)
4. ✖ हार्ड ड्राइव

Question Number : 7 Question Id : 755905821 Question Type : MCQ Option Shuffling : Yes Display Question Number : Yes Single Line Question Option : No Option Orientation : Vertical

Correct Marks : 1 Wrong Marks : 0

Which of the following is NOT an arithmetic operator in Excel 2016?

Options :

1. ✖ + (Plus)

2. ✖ *(Asterisk)

3. ✖ % (Percent)

4. ✔ = (Equals)

Question Number : 7 Question Id : 755905821 Question Type : MCQ Option Shuffling : Yes Display Question Number : Yes Single Line Question Option : No Option Orientation : Vertical

Correct Marks : 1 Wrong Marks : 0

निम्नलिखित में कौन सा, EXCEL 2016 में अंकगणित ऑपरेटर नहीं है?

Options :

1. ✖ + (प्लस)

2. ✖ * (तारांकन)

3. ✖ % (प्रतिशत)

4. ✔ = (बराबर)

Question Number : 8 Question Id : 755905822 Question Type : MCQ Option Shuffling : Yes Display Question Number : Yes Single Line Question Option : No Option Orientation : Vertical

Correct Marks : 1 Wrong Marks : 0

Which of the following devices is used to connect your computer to the Internet?

Options :

1. ✖ Processor

2. ✖ Motherboard

3. ✖ USB drive

4. ✔ Modem

Question Number : 8 Question Id : 755905822 Question Type : MCQ Option Shuffling : Yes Display Question Number : Yes Single Line Question Option : No Option Orientation : Vertical

Correct Marks : 1 Wrong Marks : 0

निम्नलिखित में से किस डिवाइस का उपयोग आपके कंप्यूटर को इंटरनेट से कनेक्ट करने के लिए किया जाता है?

Options :

1. ✖ प्रोसेसर

2. ✖ मदरबोर्ड

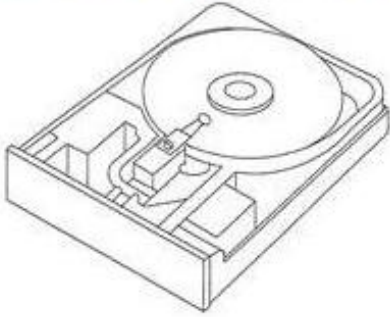
3. ✖ USB ड्राइव

4. ✔ मॉडेम

Question Number : 9 Question Id : 755905823 Question Type : MCQ Option Shuffling : Yes Display Question Number : Yes Single Line Question Option : No Option Orientation : Vertical

Correct Marks : 1 Wrong Marks : 0

Refer to the image shown on the screen. Identify the name of this device.



Options :

1. ✔ Hard Disk

2. ✖ RAM

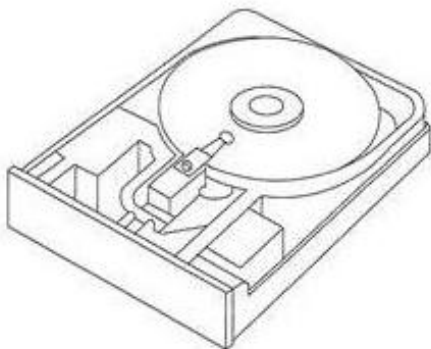
3. ✖ Microphone

4. ✖ Pen Drive

Question Number : 9 Question Id : 755905823 Question Type : MCQ Option Shuffling : Yes Display Question Number : Yes Single Line Question Option : No Option Orientation : Vertical

Correct Marks : 1 Wrong Marks : 0

स्क्रीन पर दिखाए गए चित्र को देखें और इस उपकरण का नाम पहचानें।



Options :

1. ✔ हार्ड डिस्क

2. ✖ यादचिह्नक अभिगम स्मृति(RAM)

3. ✖ माइक्रोफोन

4. ✖ पेन ड्राइव

Question Number : 10 Question Id : 755905824 Question Type : MCQ Option Shuffling : Yes Display Question Number : Yes
Single Line Question Option : No Option Orientation : Vertical

Correct Marks : 1 Wrong Marks : 0

What is the name given to the part of a circle on which data is written in a storage media?

Options :

1. ✖ Spiral

2. ✖ Cylinder

3. ✖ Head

4. ✔ Sector

Question Number : 10 Question Id : 755905824 Question Type : MCQ Option Shuffling : Yes Display Question Number : Yes
Single Line Question Option : No Option Orientation : Vertical

Correct Marks : 1 Wrong Marks : 0

सर्कल के एक हिस्से को दिया जाने वाला नाम क्या है जिस पर स्टोरेज मीडिया में डेटा लिखा जाता है?

Options :

1. ✖ स्पाइरल

2. ✖ सिलेंडर

3. ✖ हेड

4. ✔ सेक्टर

Question Number : 11 Question Id : 755905825 Question Type : MCQ Option Shuffling : Yes Display Question Number : Yes
Single Line Question Option : No Option Orientation : Vertical

Correct Marks : 1 Wrong Marks : 0

In computers, the data and instructions of users are received by _____.

Options :

1. ✔ input unit

2. ✖ output unit

3. ✖ ALU

4. ✖ CPU

Question Number : 11 Question Id : 755905825 Question Type : MCQ Option Shuffling : Yes Display Question Number : Yes
Single Line Question Option : No Option Orientation : Vertical

Correct Marks : 1 Wrong Marks : 0

कंप्यूटरों में, उपयोगकर्ताओं के डेटा और निर्देशों को _____ द्वारा प्राप्त किया जाता है।

Options :

1. ✔ इनपुट यूनिट

2. ✖ आउटपुट यूनिट

3. ✖ ए.एल.यू (ALU)

4. ✖ सी.पी.यू (CPU)

Question Number : 12 Question Id : 755905826 Question Type : MCQ Option Shuffling : Yes Display Question Number : Yes
Single Line Question Option : No Option Orientation : Vertical

Correct Marks : 1 Wrong Marks : 0

Output devices make it possible to _____.

Options :

1. ✔ view and print data

2. ✖ scan data

3. ✖ input data

4. ✖ send data

Question Number : 12 Question Id : 755905826 Question Type : MCQ Option Shuffling : Yes Display Question Number : Yes
Single Line Question Option : No Option Orientation : Vertical

Correct Marks : 1 Wrong Marks : 0

आउटपुट डिवाइस _____ संभव बनाती है।

Options :

1. ✔ डेटा देखना और प्रिंट करना

2. ✖ डेटा स्कैन करना

3. ✖ डेटा इनपुट करना

4. ✖ डेटा भेजना

Question Number : 13 Question Id : 755905827 Question Type : MCQ Option Shuffling : Yes Display Question Number : Yes
Single Line Question Option : No Option Orientation : Vertical

Correct Marks : 1 Wrong Marks : 0

Saving is the process of:

Options :

1. ✔ copying a document from memory to a storage medium.
2. ✖ making changes to a document's existing content.
3. ✖ changing the appearance, or overall look, of a document.
4. ✖ developing a document by entering text using a keyboard.

Question Number : 13 Question Id : 755905827 Question Type : MCQ Option Shuffling : Yes Display Question Number : Yes
Single Line Question Option : No Option Orientation : Vertical

Correct Marks : 1 Wrong Marks : 0

सहेजना निम्न में से किसकी प्रक्रिया है?

Options :

1. ✔ दस्तावेज़ को मेमरी से भंडारण माध्यम में कॉपी करना।
2. ✖ किसी दस्तावेज़ की मौजूदा सामग्री में परिवर्तन करना।
3. ✖ दस्तावेज़ की एपीयरेंस या समग्र रूप में बदलाव करना
4. ✖ कीबोर्ड का उपयोग करके टेक्स्ट दर्ज करके दस्तावेज़ का विकास करना।


Question Number : 14 Question Id : 755905828 Question Type : MCQ Option Shuffling : Yes Display Question Number : Yes
Single Line Question Option : No Option Orientation : Vertical

Correct Marks : 1 Wrong Marks : 0

In MS Excel, text in a column generally has:

Options :

1. ✖ justified alignment
2. ✖ right alignment
3. ✖ center alignment

4.  left alignment


Question Number : 14 Question Id : 755905828 Question Type : MCQ Option Shuffling : Yes Display Question Number : Yes
Single Line Question Option : No Option Orientation : Vertical


Correct Marks : 1 Wrong Marks : 0


MS Excel में, कॉलम में टेक्स्ट सामान्यतः कैसा होता है?

Options :

1.  समायोजित में संरेखित

2.  दाएँ संरेखित

3.  मध्य संरेखित

4.  बाएँ संरेखित


Question Number : 15 Question Id : 755905829 Question Type : MCQ Option Shuffling : Yes Display Question Number : Yes
Single Line Question Option : No Option Orientation : Vertical


Correct Marks : 1 Wrong Marks : 0

In MS Word Ctrl + B is used to make the text _____.

Options :

1.  italic

2.  underlined

3.  italic and underlined


4.  bold


Question Number : 15 Question Id : 755905829 Question Type : MCQ Option Shuffling : Yes Display Question Number : Yes
Single Line Question Option : No Option Orientation : Vertical


Correct Marks : 1 Wrong Marks : 0

MS Word में Ctrl + B का उपयोग टेक्स्ट को _____ करने के लिए होता है।

Options :

1.  इटैलिक

2.  अंडरलाइंड

3.  इटैलिक और अंडरलाइंड

4.  बोल्ड

Question Number : 16 Question Id : 755905830 Question Type : MCQ Option Shuffling : Yes Display Question Number : Yes
Single Line Question Option : No Option Orientation : Vertical

Correct Marks : 1 Wrong Marks : 0

Which of the following options in the file pull down menu is used to close an MS Word document?

Options :

1. ✖ Quit
2. ✔ Close
3. ✖ Exit
4. ✖ New

Question Number : 16 Question Id : 755905830 Question Type : MCQ Option Shuffling : Yes Display Question Number : Yes
Single Line Question Option : No Option Orientation : Vertical

Correct Marks : 1 Wrong Marks : 0

निम्नलिखित में से फाइल पुल डाउन मेनू के कौन से विकल्प का उपयोग एक MS Word डॉक्यूमेंट को बंद करने के लिए होता है?

Options :

1. ✖ Quit
2. ✔ Close
3. ✖ Exit
4. ✖ New

Question Number : 17 Question Id : 755905831 Question Type : MCQ Option Shuffling : Yes Display Question Number : Yes
Single Line Question Option : No Option Orientation : Vertical

Correct Marks : 1 Wrong Marks : 0

Two or more computers are connected to each other for sharing information from a:

Options :

1. ✔ network
2. ✖ router
3. ✖ server
4. ✖ client

Question Number : 17 Question Id : 755905831 Question Type : MCQ Option Shuffling : Yes Display Question Number : Yes
Single Line Question Option : No Option Orientation : Vertical

Correct Marks : 1 Wrong Marks : 0

निम्न में से किस से जानकारी साझा करने के लिए दो या दो से अधिक कंप्यूटर एक दूसरे से कनेक्ट किए जाते हैं?

Options :

1. ✓ नेटवर्क

2. ✗ राऊटर

3. ✗ सर्वर

4. ✗ क्लायंट

Question Number : 18 Question Id : 755905832 Question Type : MCQ Option Shuffling : Yes Display Question Number : Yes
Single Line Question Option : No Option Orientation : Vertical

Correct Marks : 1 Wrong Marks : 0

The shortcut key used for copying selected text is:

Options :

1. ✗ Ctrl + X

2. ✗ Ctrl + V

3. ✓ Ctrl + C

4. ✗ Ctrl + D

Question Number : 18 Question Id : 755905832 Question Type : MCQ Option Shuffling : Yes Display Question Number : Yes
Single Line Question Option : No Option Orientation : Vertical

Correct Marks : 1 Wrong Marks : 0

चयनित पाठ की प्रतिलिपि बनाने के लिए उपयोग में ली जाने वाली शॉर्टकट कुंजी कौन सी है?

Options :

1. ✗ Ctrl + X

2. ✗ Ctrl + V

3. ✓ Ctrl + C

4. ✗ Ctrl + D

Question Number : 19 Question Id : 755905833 Question Type : MCQ Option Shuffling : Yes Display Question Number : Yes
Single Line Question Option : No Option Orientation : Vertical

Correct Marks : 1 Wrong Marks : 0

To display the format cells dialog box you have to press _____ in MS Excel.

Options :

1. ✓ Ctrl + 1

2. ✗ Ctrl + K

3. ✖ Ctrl + 2

4. ✖ Ctrl + D

Question Number : 19 Question Id : 755905833 Question Type : MCQ Option Shuffling : Yes Display Question Number : Yes
Single Line Question Option : No Option Orientation : Vertical

Correct Marks : 1 Wrong Marks : 0

फॉर्मेट सेल डायलॉग बॉक्स को प्रदर्शित करने के लिए आप MS Excel में _____ को दबाएं।

Options :

1. ✔ Ctrl + 1

2. ✖ Ctrl + K

3. ✖ Ctrl + 2

4. ✖ Ctrl + D

Question Number : 20 Question Id : 755905834 Question Type : MCQ Option Shuffling : Yes Display Question Number : Yes
Single Line Question Option : No Option Orientation : Vertical

Correct Marks : 1 Wrong Marks : 0

_____ allocates the largest hole available in the memory.

Options :

1. ✖ Best-Fit

2. ✔ Worst-Fit

3. ✖ First-Fit

4. ✖ Last-Fit

Question Number : 20 Question Id : 755905834 Question Type : MCQ Option Shuffling : Yes Display Question Number : Yes
Single Line Question Option : No Option Orientation : Vertical

Correct Marks : 1 Wrong Marks : 0

_____ स्मृति में उपलब्ध सबसे बड़ा रिक्त स्थान आवंटित करता है।

Options :

1. ✖ बेस्ट -फिट

2. ✔ वर्स्ट-फिट

3. ✖ फर्स्ट-फिट

4. ✖ लास्ट-फिट

Question Number : 21 Question Id : 755905835 Question Type : MCQ Option Shuffling : Yes Display Question Number : Yes
Single Line Question Option : No Option Orientation : Vertical

Correct Marks : 1 Wrong Marks : 0

By using which tab can you translate text in a Microsoft Word document?

Options :

1. ✖ Edit
2. ✖ Format
3. ✔ Review
4. ✖ Page Layout

Question Number : 21 Question Id : 755905835 Question Type : MCQ Option Shuffling : Yes Display Question Number : Yes
Single Line Question Option : No Option Orientation : Vertical

Correct Marks : 1 Wrong Marks : 0

किस टैब का उपयोग करके Microsoft Word दस्तावेज़ में टेक्स्ट का अनुवाद किया जा सकता है?

Options :

1. ✖ Edit
2. ✖ Format
3. ✔ Review
4. ✖ Page Layout

Question Number : 22 Question Id : 755905836 Question Type : MCQ Option Shuffling : Yes Display Question Number : Yes
Single Line Question Option : No Option Orientation : Vertical

Correct Marks : 1 Wrong Marks : 0

What is the margin of a page when the mirrored option is selected for top and bottom while printing a document in MS Word 2013?

Options :

1. ✖ 1 cm; 1.25 cm
2. ✖ 1 cm; .5 cm
3. ✖ .5 cm; .5 cm
4. ✔ 2.54 cm; 2.54 cm

Question Number : 22 Question Id : 755905836 Question Type : MCQ Option Shuffling : Yes Display Question Number : Yes
Single Line Question Option : No Option Orientation : Vertical

Correct Marks : 1 Wrong Marks : 0

MS Word 2013 में एक दस्तावेज़ की छपाई करते समय एक सामान्य पृष्ठ के ऊपर और नीचे के लिए मिरर विकल्प का चयन करते समय पृष्ठ का मार्जिन क्या होता है?

Options :

1. ✖ 1 सेंटीमीटर; 1.25 सेंटीमीटर
2. ✖ 1 सेंटीमीटर; .5 सेंटीमीटर
3. ✖ .5 सेंटीमीटर; .5 सेंटीमीटर
4. ✔ 2.54 सेंटीमीटर; 2.54 सेंटीमीटर

Question Number : 23 Question Id : 755905837 Question Type : MCQ Option Shuffling : Yes Display Question Number : Yes
Single Line Question Option : No Option Orientation : Vertical

Correct Marks : 1 Wrong Marks : 0

What is the key combination to decrease the font size of the selected text in MS PowerPoint?

Options :

1. ✖ CTRL + SHIFT + F
2. ✔ CTRL + SHIFT + <
3. ✖ CTRL + SHIFT + D
4. ✖ CTRL + SHIFT + >

Question Number : 23 Question Id : 755905837 Question Type : MCQ Option Shuffling : Yes Display Question Number : Yes
Single Line Question Option : No Option Orientation : Vertical

Correct Marks : 1 Wrong Marks : 0

MS PowerPoint में चयनित टेक्स्ट के फ्रॉन्ट आकार को घटाने के लिए कुंजी संयोजन क्या है?

Options :

1. ✖ CTRL + SHIFT + F
2. ✔ CTRL + SHIFT + <
3. ✖ CTRL + SHIFT + D
4. ✖ CTRL + SHIFT + >

Question Number : 24 Question Id : 755905838 Question Type : MCQ Option Shuffling : Yes Display Question Number : Yes
Single Line Question Option : No Option Orientation : Vertical

Correct Marks : 1 Wrong Marks : 0

What is the key combination to move to the preceding cell in MS Power Point?

Options :

1. ✖ TAB
2. ✔ SHIFT + TAB
3. ✖ CTRL + TAB
4. ✖ ALT + TAB

Question Number : 24 Question Id : 755905838 Question Type : MCQ Option Shuffling : Yes Display Question Number : Yes
Single Line Question Option : No Option Orientation : Vertical

Correct Marks : 1 Wrong Marks : 0

MS PowerPoint में पूर्ववर्ती सेल में जाने के लिए कुंजी संयोजन क्या है?

Options :

1. ✖ TAB
2. ✔ SHIFT + TAB
3. ✖ CTRL + TAB
4. ✖ ALT + TAB

Question Number : 25 Question Id : 755905839 Question Type : MCQ Option Shuffling : Yes Display Question Number : Yes
Single Line Question Option : No Option Orientation : Vertical

Correct Marks : 1 Wrong Marks : 0

What is the key combination to go to the previous bookmark in MS Power Point?

Options :

1. ✖ ALT + PAGEUP
2. ✖ ALT + ENTER
3. ✔ ALT + HOME
4. ✖ ALT + BACKSPACE

Question Number : 25 Question Id : 755905839 Question Type : MCQ Option Shuffling : Yes Display Question Number : Yes
Single Line Question Option : No Option Orientation : Vertical

Correct Marks : 1 Wrong Marks : 0

MS PowerPoint में पूर्ववर्ती बुकमार्क पर जाने के लिए कुंजी संयोजन क्या है?

Options :

1. ✖ ALT + PAGEUP
2. ✖ ALT + ENTER

3. ✓ ALT + HOME

4. ✗ ALT + BACKSPACE

Question Number : 26 Question Id : 755905840 Question Type : MCQ Option Shuffling : Yes Display Question Number : Yes
Single Line Question Option : No Option Orientation : Vertical

Correct Marks : 1 Wrong Marks : 0

When you press a key using the keyboard, which component will detect the corresponding key code?

Options :

1. ✗ Key chip

2. ✓ Built in processor

3. ✗ Key board controller

4. ✗ Keyboard driver

Question Number : 26 Question Id : 755905840 Question Type : MCQ Option Shuffling : Yes Display Question Number : Yes
Single Line Question Option : No Option Orientation : Vertical

Correct Marks : 1 Wrong Marks : 0

जब आप कीबोर्ड का उपयोग करके कुंजी दबाते हैं तो कौन सा घटक संबंधित कुंजी कोड का पता लगाएगा?

Options :

1. ✗ कुंजी चिप (Key chip)

2. ✓ अंतर्निर्मित (Built-in processor)

3. ✗ कुंजी बोर्ड नियंत्रक (Key board controller)

4. ✗ कीबोर्ड ड्राइवर (Keyboard driver)

Question Number : 27 Question Id : 755905841 Question Type : MCQ Option Shuffling : Yes Display Question Number : Yes
Single Line Question Option : No Option Orientation : Vertical

Correct Marks : 1 Wrong Marks : 0

Monochrome pixels are found in which of the following monitor?

Options :

1. ✓ LCD

2. ✗ Crystal rays tube

3. ✗ Cathode ray tube

4. ✖ Gas plasma display

Question Number : 27 Question Id : 755905841 Question Type : MCQ Option Shuffling : Yes Display Question Number : Yes
Single Line Question Option : No Option Orientation : Vertical

Correct Marks : 1 Wrong Marks : 0

मोनोक्रोम पिक्सल निम्नलिखित में से किस मॉनिटर में पाए जाते हैं?

Options :

1. ✔ एल सी डी (LCD)
2. ✖ क्रिस्टल रेज़ ट्यूब (Crystal rays tube)
3. ✖ कैथोड रे ट्यूब (Cathode ray tube)
4. ✖ गैस प्लाज्मा डिस्प्ले (Gas plasma display)

Question Number : 28 Question Id : 755905842 Question Type : MCQ Option Shuffling : Yes Display Question Number : Yes
Single Line Question Option : No Option Orientation : Vertical

Correct Marks : 1 Wrong Marks : 0

2's complement of $(1000)_2$ is:

Options :

1. ✖ 0111
2. ✖ 0101
3. ✔ 1000
4. ✖ 0001

Question Number : 28 Question Id : 755905842 Question Type : MCQ Option Shuffling : Yes Display Question Number : Yes
Single Line Question Option : No Option Orientation : Vertical

Correct Marks : 1 Wrong Marks : 0

$(1000)_2$ के 2 का पूरकनिम्न में से क्या है?

Options :

1. ✖ 0111
2. ✖ 0101
3. ✔ 1000
4. ✖ 0001

Question Number : 29 Question Id : 755905843 Question Type : MCQ Option Shuffling : Yes Display Question Number : Yes
Single Line Question Option : No Option Orientation : Vertical

Correct Marks : 1 Wrong Marks : 0

In Microsoft Excel which of the following special function keys allows the users to edit the content in a cell?

Options :

1. ✓ F2
2. ✗ Shift
3. ✗ Tab
4. ✗ Enter

Question Number : 29 Question Id : 755905843 Question Type : MCQ Option Shuffling : Yes Display Question Number : Yes
Single Line Question Option : No Option Orientation : Vertical

Correct Marks : 1 Wrong Marks : 0

Microsoft Excel में निम्नलिखित में से कौन सी विशेष फंक्शन की/कुंजी सेल में कंटेंट को संपादित करने की अनुमति देती है?

Options :

1. ✓ F2
2. ✗ Shift
3. ✗ टैब/ Tab
4. ✗ Enter

Question Number : 30 Question Id : 755905844 Question Type : MCQ Option Shuffling : Yes Display Question Number : Yes
Single Line Question Option : No Option Orientation : Vertical

Correct Marks : 1 Wrong Marks : 0

_____ is used in plotting a sequence of equi-angular spokes (called radii) in MS Excel.

Options :

1. ✗ Area chart
2. ✓ Radar chart
3. ✗ Bar chart
4. ✗ Line chart

Question Number : 30 Question Id : 755905844 Question Type : MCQ Option Shuffling : Yes Display Question Number : Yes
Single Line Question Option : No Option Orientation : Vertical

Correct Marks : 1 Wrong Marks : 0

MS Excel में, समानकोणिक(इक्वि-एंगुलर) स्पोक्स(जिसे रेडिआई कहते हैं) के अनुक्रम के आलेखन हेतु _____ का प्रयोग किया जाता है।

Options :

1. ✖ एरिया चार्ट
2. ✔ रडार चार्ट
3. ✖ बार चार्ट
4. ✖ लाइन चार्ट

Question Number : 31 Question Id : 755905845 Question Type : MCQ Option Shuffling : Yes Display Question Number : Yes
Single Line Question Option : No Option Orientation : Vertical

Correct Marks : 1 Wrong Marks : 0

_____ chart is designed specifically for one set of data in MS Excel.

Options :

1. ✖ Line
2. ✔ Pie
3. ✖ Bar
4. ✖ Area

Question Number : 31 Question Id : 755905845 Question Type : MCQ Option Shuffling : Yes Display Question Number : Yes
Single Line Question Option : No Option Orientation : Vertical

Correct Marks : 1 Wrong Marks : 0

MS Excel में डेटा के एक समूह के लिए विशेष रूप से _____ चार्ट की संरचना की जाती है।

Options :

1. ✖ लाइन
2. ✔ पाय
3. ✖ बार
4. ✖ एरिया

Question Number : 32 Question Id : 755905846 Question Type : MCQ Option Shuffling : Yes Display Question Number : Yes
Single Line Question Option : No Option Orientation : Vertical

Correct Marks : 1 Wrong Marks : 0

_____ are set up to help prevent unwanted messages from entering a user's inbox.

Options :

1. ✖ Hacklists

- 2. ✖ Redlists
- 3. ✔ Blacklists
- 4. ✖ Defaulters

Question Number : 32 Question Id : 755905846 Question Type : MCQ Option Shuffling : Yes Display Question Number : Yes
Single Line Question Option : No Option Orientation : Vertical

Correct Marks : 1 Wrong Marks : 0

_____ का सेट अप अवांछित संदेशों को यूजर के इनबॉक्स में प्रवेश करने से रोकने के लिया किया जाता है।

Options :

- 1. ✖ हैकलिस्ट
- 2. ✖ रेडलिस्ट
- 3. ✔ ब्लैकलिस्ट
- 4. ✖ डिफॉल्टर

Question Number : 33 Question Id : 755905847 Question Type : MCQ Option Shuffling : Yes Display Question Number : Yes
Single Line Question Option : No Option Orientation : Vertical

Correct Marks : 1 Wrong Marks : 0

Which of the following user types can set up access rights for various users?

Options :

- 1. ✖ Guest
- 2. ✔ Administrator
- 3. ✖ User
- 4. ✖ Programmer

Question Number : 33 Question Id : 755905847 Question Type : MCQ Option Shuffling : Yes Display Question Number : Yes
Single Line Question Option : No Option Orientation : Vertical

Correct Marks : 1 Wrong Marks : 0

निम्नलिखित में से कौन सा उपयोगकर्ता प्रकार विभिन्न उपयोगकर्ताओं के लिए एक्सेस अधिकार सेट अप कर सकता है?

Options :

- 1. ✖ अतिथि
- 2. ✔ व्यवस्थापक

3. ✖ उपयोगकर्ता

4. ✖ प्रोग्रामर

Question Number : 34 Question Id : 755905848 Question Type : MCQ Option Shuffling : Yes Display Question Number : Yes
Single Line Question Option : No Option Orientation : Vertical

Correct Marks : 1 Wrong Marks : 0

_____ is a chart that is supposed to be placed on a worksheet as opposed to on a separate chart sheet when using a spread sheet software package in MS Excel.

Options :

1. ✖ Bar chart

2. ✖ Column chart

3. ✔ Embedded chart

4. ✖ Stock chart

Question Number : 34 Question Id : 755905848 Question Type : MCQ Option Shuffling : Yes Display Question Number : Yes
Single Line Question Option : No Option Orientation : Vertical

Correct Marks : 1 Wrong Marks : 0

_____ वह चार्ट है जिसे MS Excel में स्प्रेड शीट सॉफ्टवेयर पैकेज के उपयोग के दौरान, अलग चार्ट शीट में रखने से विपरीत, कार्यपुस्तिका(वर्कशीट) पर रखा जाना चाहिए।

Options :

1. ✖ बार चार्ट

2. ✖ कॉलम चार्ट

3. ✔ एम्बडेड चार्ट

4. ✖ स्टॉक चार्ट

Question Number : 35 Question Id : 755905849 Question Type : MCQ Option Shuffling : Yes Display Question Number : Yes
Single Line Question Option : No Option Orientation : Vertical

Correct Marks : 1 Wrong Marks : 0

Different applications and documents are represented by _____ on Windows Desktop.

Options :

1. ✖ label

2. ✔ icon

3. ✖ graph

4. ✖ file

Question Number : 35 Question Id : 755905849 Question Type : MCQ Option Shuffling : Yes Display Question Number : Yes
Single Line Question Option : No Option Orientation : Vertical

Correct Marks : 1 Wrong Marks : 0

Windows डेस्कटॉप पर विभिन्न अनुप्रयोगों और दस्तावेजों को _____ द्वारा दर्शाया जाता है।

Options :

1. ✖ लेबल

2. ✔ आइकन

3. ✖ ग्राफ

4. ✖ फाइल

Question Number : 36 Question Id : 755905850 Question Type : MCQ Option Shuffling : Yes Display Question Number : Yes
Single Line Question Option : No Option Orientation : Vertical

Correct Marks : 1 Wrong Marks : 0

Which of the following is NOT a Windows XP effect?

Options :

1. ✖ Transition effect

2. ✖ Large icon

3. ✖ Shadows under menu

4. ✔ Pixel change

Question Number : 36 Question Id : 755905850 Question Type : MCQ Option Shuffling : Yes Display Question Number : Yes
Single Line Question Option : No Option Orientation : Vertical

Correct Marks : 1 Wrong Marks : 0

इनमें से कौन Windows XP इफेक्ट नहीं है?

Options :

1. ✖ ट्रांजिशन इफेक्ट

2. ✖ बड़ा आइकन

3. ✖ मेनू के नीचे शैडो

4. ✔ पिक्सेल चेंज

Question Number : 37 Question Id : 755905851 Question Type : MCQ Option Shuffling : Yes Display Question Number : Yes
Single Line Question Option : No Option Orientation : Vertical

Correct Marks : 1 Wrong Marks : 0

The basic function of encryption is essentially to translate _____ text into _____.

Options :

1. ☒ normal; ciphertext
2. ☐ ciphertext; normal
3. ☐ English; normal
4. ☐ normal; English

Question Number : 37 Question Id : 755905851 Question Type : MCQ Option Shuffling : Yes Display Question Number : Yes
Single Line Question Option : No Option Orientation : Vertical

Correct Marks : 1 Wrong Marks : 0

कूटलेखन (एन्क्रिप्शन) का मूल आवश्यक कार्य _____ टेक्स्ट का _____ में अनुवाद करना होता है।

Options :

1. ☒ सामान्य; कूटलिखित आँकड़े
2. ☐ कूटलिखित आँकड़े; सामान्य
3. ☐ अंग्रेजी; सामान्य
4. ☐ सामान्य; अंग्रेजी

Question Number : 38 Question Id : 755905852 Question Type : MCQ Option Shuffling : Yes Display Question Number : Yes
Single Line Question Option : No Option Orientation : Vertical

Correct Marks : 1 Wrong Marks : 0

Which of the following Microsoft documents has .doc file format?

Options :

1. ☐ Excel Document
2. ☒ Word Document
3. ☐ PowerPoint Document
4. ☐ Image Document

Question Number : 38 Question Id : 755905852 Question Type : MCQ Option Shuffling : Yes Display Question Number : Yes
Single Line Question Option : No Option Orientation : Vertical

Correct Marks : 1 Wrong Marks : 0

निम्नलिखित में से किस Microsoft डॉक्यूमेंट में .doc फाइल फॉर्मेट होता है?

Options :

1. ✖ Excel डॉक्यूमेंट
2. ✔ Word डॉक्यूमेंट
3. ✖ PowerPoint डॉक्यूमेंट
4. ✖ इमेज डॉक्यूमेंट

Question Number : 39 Question Id : 755905853 Question Type : MCQ Option Shuffling : Yes Display Question Number : Yes
Single Line Question Option : No Option Orientation : Vertical

Correct Marks : 1 Wrong Marks : 0

What does OS stand for?

Options :

1. ✔ Operating System
2. ✖ Operating Source
3. ✖ Operating Session
4. ✖ Operating Startup

Question Number : 39 Question Id : 755905853 Question Type : MCQ Option Shuffling : Yes Display Question Number : Yes
Single Line Question Option : No Option Orientation : Vertical

Correct Marks : 1 Wrong Marks : 0

OS का पूर्ण रूप क्या है?

Options :

1. ✔ Operating System (ऑपरेटिंग सिस्टम)
2. ✖ Operating Source (ऑपरेटिंग सोर्स)
3. ✖ Operating Session (ऑपरेटिंग सेशन)
4. ✖ Operating Startup (ऑपरेटिंग स्टार्टअप)

Question Number : 40 Question Id : 755905854 Question Type : MCQ Option Shuffling : Yes Display Question Number : Yes
Single Line Question Option : No Option Orientation : Vertical

Correct Marks : 1 Wrong Marks : 0

Contract and regulation testing is a part of:

Options :

1. ☒ acceptance testing
2. ☐ system testing
3. ☐ smoke testing
4. ☐ integration testing

Question Number : 40 Question Id : 755905854 Question Type : MCQ Option Shuffling : Yes Display Question Number : Yes
Single Line Question Option : No Option Orientation : Vertical

Correct Marks : 1 Wrong Marks : 0

अनुबंध और विनियमन परीक्षण _____ परीक्षण का एक हिस्सा है।

Options :

1. ☒ स्वीकृति
2. ☐ प्रणाली
3. ☐ स्मोक
4. ☐ एकीकरण

Question Number : 41 Question Id : 755905855 Question Type : MCQ Option Shuffling : Yes Display Question Number : Yes
Single Line Question Option : No Option Orientation : Vertical

Correct Marks : 1 Wrong Marks : 0

Web Browser is a(n) _____ software.

Options :

1. ☐ system
2. ☒ application
3. ☐ scientific
4. ☐ business

Question Number : 41 Question Id : 755905855 Question Type : MCQ Option Shuffling : Yes Display Question Number : Yes
Single Line Question Option : No Option Orientation : Vertical

Correct Marks : 1 Wrong Marks : 0

वेब ब्राउज़र एक _____ सॉफ्टवेयर है।

Options :

1. ✖ सिस्टम
2. ✔ एप्लिकेशन
3. ✖ साइंटिफिक (वैज्ञानिक)
4. ✖ बिज़नेस (व्यवसाय)

Question Number : 42 Question Id : 755905856 Question Type : MCQ Option Shuffling : Yes Display Question Number : Yes
Single Line Question Option : No Option Orientation : Vertical
Correct Marks : 1 Wrong Marks : 0

What are the steps to download a file?

Options :

1. ✖ Start browser > open a page > Ctrl + P
2. ✔ Start browser > select information to download > download/save file from internet (Ctrl + S)
3. ✖ Start browser > open a page > Ctrl + L
4. ✖ Start browser > open a page > bookmark

Question Number : 42 Question Id : 755905856 Question Type : MCQ Option Shuffling : Yes Display Question Number : Yes
Single Line Question Option : No Option Orientation : Vertical
Correct Marks : 1 Wrong Marks : 0

फ़ाइल डाउनलोड करने के लिए चरण क्या-क्या हैं?

Options :

1. ✖ ब्राउज़र शुरू करें > पृष्ठ खोलें > Ctrl + P दबाएँ
2. ✔ ब्राउज़र शुरू करें > डाउनलोड करने के लिए जानकारी का चयन करें > इंटरनेट से फ़ाइल डाउनलोड करें/सहेजें (Ctrl + S)
3. ✖ ब्राउज़र शुरू करें > पृष्ठ खोलें > Ctrl + L दबाएँ
4. ✖ ब्राउज़र शुरू करें > पृष्ठ खोलें > बुकमार्क पर क्लिक करें

Question Number : 43 Question Id : 755905857 Question Type : MCQ Option Shuffling : Yes Display Question Number : Yes
Single Line Question Option : No Option Orientation : Vertical
Correct Marks : 1 Wrong Marks : 0

Which of the following is NOT a feature of Modem type?

Options :

1. ✖ Direction capacity
2. ✖ Connection to the line
3. ✖ Transmission mode
4. ✔ Number of connectors

Question Number : 43 Question Id : 755905857 Question Type : MCQ Option Shuffling : Yes Display Question Number : Yes
Single Line Question Option : No Option Orientation : Vertical

Correct Marks : 1 Wrong Marks : 0

निम्नलिखित में से कौन मॉडम प्रकार की विशेषता नहीं है?

Options :

1. ✖ दिशा क्षमता
2. ✖ लाइन से कनेक्शन
3. ✖ ट्रांसमिशन मोड
4. ✔ कनेक्टर्स की संख्या

Question Number : 44 Question Id : 755905858 Question Type : MCQ Option Shuffling : Yes Display Question Number : Yes
Single Line Question Option : No Option Orientation : Vertical

Correct Marks : 1 Wrong Marks : 0

Broadband term covers all types of internet connections listed as follows EXCEPT:

Options :

1. ✖ cable
2. ✔ dial-up
3. ✖ satellite
4. ✖ DSL

Question Number : 44 Question Id : 755905858 Question Type : MCQ Option Shuffling : Yes Display Question Number : Yes
Single Line Question Option : No Option Orientation : Vertical

Correct Marks : 1 Wrong Marks : 0

ब्रॉडबैंड शब्द निम्नलिखित में से किसे छोड़कर सभी प्रकार के इंटरनेट कनेक्शन को समाविष्ट करता है?

Options :

1. ✖ केबल

2. ✓ डायल-अप

3. ✗ सैटेलाइट (उपग्रह)

4. ✗ DSL

Question Number : 45 Question Id : 755905859 Question Type : MCQ Option Shuffling : Yes Display Question Number : Yes
Single Line Question Option : No Option Orientation : Vertical
Correct Marks : 1 Wrong Marks : 0

Since DSL is “on” all the time, it:

Options :

1. ✗ gives 24/7 service.

2. ✓ can be easy for external hackers to attack.

3. ✗ supports unlimited number of users.

4. ✗ is charged more.

Question Number : 45 Question Id : 755905859 Question Type : MCQ Option Shuffling : Yes Display Question Number : Yes
Single Line Question Option : No Option Orientation : Vertical
Correct Marks : 1 Wrong Marks : 0

DSL के हर समय चालू (ऑन) रहने से क्या होता है, अथवा हो सकता है?

Options :

1. ✗ यह 24/7 सेवा प्रदान करता है।

2. ✓ बाहरी हैकरों द्वारा हमला करना आसान हो सकता है।

3. ✗ यह उपयोगकर्ताओं की असीमित संख्या को सपोर्ट करता है।

4. ✗ यह अधिक प्रभारित होता है।

Question Number : 46 Question Id : 755905860 Question Type : MCQ Option Shuffling : Yes Display Question Number : Yes
Single Line Question Option : No Option Orientation : Vertical
Correct Marks : 1 Wrong Marks : 0

Which of the following is NOT a high-speed internet service?

Options :

1. ✗ Fiber optic otherwise known as FiOS

2. ✗ Cable

3. ✓ Pager

4. ✗ Satellite

Question Number : 46 Question Id : 755905860 Question Type : MCQ Option Shuffling : Yes Display Question Number : Yes
Single Line Question Option : No Option Orientation : Vertical

Correct Marks : 1 Wrong Marks : 0

निम्नलिखित में से कौन सी, तीव्र गति की इंटरनेट सेवा नहीं है?

Options :

1. ✗ फाइबर ऑप्टिक जिसे FiOS के नाम से जाना जाता है

2. ✗ केबल

3. ✓ पेजर

4. ✗ सैटेलाइट (उपग्रह)

Question Number : 47 Question Id : 755905861 Question Type : MCQ Option Shuffling : Yes Display Question Number : Yes
Single Line Question Option : No Option Orientation : Vertical

Correct Marks : 1 Wrong Marks : 0

Which of the following internet service is NOT available in all locations?

Options :

1. ✓ Cable broadband

2. ✗ Fiber optic service

3. ✗ ADSL

4. ✗ Satellite

Question Number : 47 Question Id : 755905861 Question Type : MCQ Option Shuffling : Yes Display Question Number : Yes
Single Line Question Option : No Option Orientation : Vertical

Correct Marks : 1 Wrong Marks : 0

निम्नलिखित में से कौन सी इंटरनेट सेवा सभी स्थानों पर उपलब्ध नहीं है?

Options :

1. ✓ केबल ब्रॉडबैंड

2. ✗ फाइबर ऑप्टिक सेवा

3. ✗ ADSL

4. ✖ सॉटेलाइट (उपग्रह)

Question Number : 48 Question Id : 755905862 Question Type : MCQ Option Shuffling : Yes Display Question Number : Yes
Single Line Question Option : No Option Orientation : Vertical

Correct Marks : 1 Wrong Marks : 0

Symmetric DSL is quite an obvious option to select if you use VPN on a regular basis to:

Options :

1. ✖ have a secure transaction
2. ✔ backup large files to the cloud
3. ✖ accommodate a high number of users
4. ✖ accommodate limited number of users

Question Number : 48 Question Id : 755905862 Question Type : MCQ Option Shuffling : Yes Display Question Number : Yes
Single Line Question Option : No Option Orientation : Vertical

Correct Marks : 1 Wrong Marks : 0

यदि आप नियमित आधार पर VPN का उपयोग _____ के लिए करते हैं तो चयन हेतु सममित DSL काफी स्पष्ट विकल्प है।

Options :

1. ✖ सुरक्षित लेनदेन
2. ✔ क्लाउड पर बड़ी फ़ाइलों का बैकअप लेने
3. ✖ अधिक संख्या में उपयोगकर्ताओं को समायोजित करने
4. ✖ सीमित संख्या में उपयोगकर्ताओं को समायोजित करने

Question Number : 49 Question Id : 755905863 Question Type : MCQ Option Shuffling : Yes Display Question Number : Yes
Single Line Question Option : No Option Orientation : Vertical

Correct Marks : 1 Wrong Marks : 0

The process of transforming URLs to assign importance to web pages and to reduce indexing of duplicate pages is called:

Options :

1. ✖ URL modification
2. ✖ URL support
3. ✖ URL balancing
4. ✔ URL normalization

Question Number : 49 Question Id : 755905863 Question Type : MCQ Option Shuffling : Yes Display Question Number : Yes
Single Line Question Option : No Option Orientation : Vertical

Correct Marks : 1 Wrong Marks : 0

वेब पेजों को महत्व देने और प्रतिरूप पेजों के अनुक्रमण को कम करने के लिए URL को बदलने की प्रक्रिया को क्या कहा जाता है?

Options :

1. ✖ URL संशोधन

2. ✖ URL समर्थन

3. ✖ URL संतुलन

4. ✔ URL सामान्यीकरण

Question Number : 50 Question Id : 755905864 Question Type : MCQ Option Shuffling : Yes Display Question Number : Yes
Single Line Question Option : No Option Orientation : Vertical

Correct Marks : 1 Wrong Marks : 0

How many alignments are available?

Options :

1. ✖ Three

2. ✖ Five

3. ✔ Four

4. ✖ Two

Question Number : 50 Question Id : 755905864 Question Type : MCQ Option Shuffling : Yes Display Question Number : Yes
Single Line Question Option : No Option Orientation : Vertical

Correct Marks : 1 Wrong Marks : 0

कितने प्रकार के संरेखण उपलब्ध हैं?

Options :

1. ✖ तीन

2. ✖ पाँच

3. ✔ चार

4. ✖ दो

Question Number : 51 Question Id : 755905865 Question Type : MCQ Option Shuffling : Yes Display Question Number : Yes
Single Line Question Option : No Option Orientation : Vertical

Correct Marks : 1 Wrong Marks : 0

The basic building block of a CPU is:

Options :

1. ☒ ALU
2. ☐ RAM
3. ☐ ROM
4. ☐ Timer

Question Number : 51 Question Id : 755905865 Question Type : MCQ Option Shuffling : Yes Display Question Number : Yes
Single Line Question Option : No Option Orientation : Vertical

Correct Marks : 1 Wrong Marks : 0

CPU का बेसिक बिल्डिंग ब्लॉक है:

Options :

1. ☒ ALU
2. ☐ RAM
3. ☐ ROM
4. ☐ Timer

Question Number : 52 Question Id : 755905866 Question Type : MCQ Option Shuffling : Yes Display Question Number : Yes
Single Line Question Option : No Option Orientation : Vertical

Correct Marks : 1 Wrong Marks : 0

Which keys are used to switch from the current window to the previous window?

Options :

1. ☐ ALT + TAB
2. ☒ ALT + SHIFT + TAB
3. ☐ CTRL KEY
4. ☐ ALT + F1

Question Number : 52 Question Id : 755905866 Question Type : MCQ Option Shuffling : Yes Display Question Number : Yes
Single Line Question Option : No Option Orientation : Vertical

Correct Marks : 1 Wrong Marks : 0

वर्तमान विंडो से पिछली विंडो पर स्विच करने के लिए कौन सी कुंजी का उपयोग किया जाता है?

Options :

1. ☐ ALT + TAB

2. ✓ ALT + SHIFT + TAB

3. ✖ CTRL KEY

4. ✖ ALT + F1

READING COMPREHENSION

Section Id :	755905106
Section Number :	2
Section type :	Online
Mandatory or Optional:	Mandatory
Number of Questions:	1
Number of Questions to be attempted:	1
Section Marks:	5
Display Number Panel:	Yes
Group All Questions:	No

Sub-Section Number:	1
Sub-Section Id:	755905106
Question Shuffling Allowed :	Yes

Question Id : 755905867 Question Type : COMPREHENSION Sub Question Shuffling Allowed : Yes Group Comprehension Questions : No

Question Numbers : (53 to 57)

Question Label : Comprehension

Read the following passage and answer the questions that follow.

Climbing Everest

On May 29, 1953, Tenzing Norgay and Edmund Hillary created history. They had scaled Mount Everest, the highest peak in the world. From the peak, they looked at the scene below. It looked grand! Distant peaks covered with white snow looked simply charming.

After spending fifteen minutes they decided to return.

The return journey was altogether different from the upward journey. They had gone as ordinary climbers, but were now heroes. The whole world was waiting to greet them.

For Tenzing the difference was going to be much greater.

He had struggled hard to see this day.

As a young boy he lived with his family in Solo Khumbu, a small village in Nepal. He had to help his father in the farm. But he was least interested in this work. His heart lay somewhere else. He wanted to climb the Himalayas. One day he ran away and settled in Darjeeling. It was from here that climbers used to go up the mountain peaks.

His first big breakthrough came in 1935 when he accompanied Frank Smythe's team as a porter. Tenzing was excited. But the party could not make it. After scaling 23,000 feet most climbers felt so tired that Smythe had to abandon the expedition.

In 1953 he accompanied the expedition led by John Hunt. The team successfully reached the base camp before the last stage. The last part of the climb was going to be treacherous. Hunt selected four persons for the final ascent. Evans and Tom would go first. Hillary and Tenzing would make the second attempt.

Tom and Evans returned unsuccessful because the weather turned foul. So next day Hillary and Tenzing had to try their luck. They were lucky. The weather was pleasant. The climb was very steep. One slip and they could have a fatal fall. But the brave climbers kept moving.

At one stage they could not see anything. They were confused. But then they realised that they were standing on top of the world. They made a dream come true.

Sub questions

Question Number : 53 Question Id : 755905868 Question Type : MCQ Option Shuffling : Yes Display Question Number : Yes
Single Line Question Option : No Option Orientation : Vertical

Correct Marks : 1 Wrong Marks : 0

The 1935 expedition failed because...

Options :

1. ✖ of ill health of all the climbers

- 2. ✖ of bad weather and Smythe's inability to lead
- 3. ✔ the climbers were too tired to continue
- 4. ✖ Smythe was unwell and gave up the expedition

Question Number : 54 Question Id : 755905869 Question Type : MCQ Option Shuffling : Yes Display Question Number : Yes
Single Line Question Option : No Option Orientation : Vertical
Correct Marks : 1 Wrong Marks : 0

When the author says, "They had created history", he means:

Options :

- 1. ✔ the climbers had done something remarkable
- 2. ✖ the world was waiting to greet them.
- 3. ✖ the climbers looked at the scene below.
- 4. ✖ the climbers stood on the peak for fifteen minutes

Question Number : 55 Question Id : 755905870 Question Type : MCQ Option Shuffling : Yes Display Question Number : Yes
Single Line Question Option : No Option Orientation : Vertical
Correct Marks : 1 Wrong Marks : 0

The return journey for the two climbers was different from the upward journey because:

Options :

- 1. ✖ the return journey was more arduous
- 2. ✖ they had conquered their fear.
- 3. ✔ they were feeling on top of the world
- 4. ✖ they were thinking about the upward journey.

Question Number : 56 Question Id : 755905871 Question Type : MCQ Option Shuffling : Yes Display Question Number : Yes
Single Line Question Option : No Option Orientation : Vertical
Correct Marks : 1 Wrong Marks : 0

Which of the following statements is NOT true about Tenzing?

Options :

- 1. ✖ He was greatly inspired by the mountains.
- 2. ✔ He was medically unfit to climb heights.

3. ✖ He ran away from home to settle in Darjeeling.
4. ✖ He did not want to pursue farming for livelihood.

Question Number : 57 Question Id : 755905872 Question Type : MCQ Option Shuffling : Yes Display Question Number : Yes
Single Line Question Option : No Option Orientation : Vertical

Correct Marks : 1 Wrong Marks : 0

John Hunt had great leadership qualities. This can be proven by the fact that he:

Options :

1. ✖ sent Hillary and Tenzing to climb the Everest
2. ✖ was loved and respected by his team members.
3. ✖ selected the most experienced climbers for his team.
4. ✔ planned a strategy and formed two teams to ensure success

Question Id : 755905867 Question Type : COMPREHENSION Sub Question Shuffling Allowed : Yes Group Comprehension Questions : No

Question Numbers : (53 to 57)

Question Label : Comprehension

निम्नलिखित गद्यांश पढ़िए और प्रश्नों के उत्तर दीजिए।

एवरेस्ट की चढ़ाई

29 मई, 1953 को, तेंजिंग नोर्गे और एडमंड हिलेरी ने इतिहास रच दिया। उन्होंने दुनिया में सबसे ऊँची चोटी माउंट एवरेस्ट पर चढ़ाई की। चोटी से, उन्होंने नीचे के दृश्य को देखा। यह भव्य लग रहा था। सफेद बर्फ से ढँकी दूरस्थ चोटियाँ बहुत आकर्षक लग रही थीं।

पंद्रह मिनट बिताने के बाद उन्होंने वापस लौटने का निर्णय किया।

वापसी यात्रा ऊपर जाने की यात्रा से पूरी तरह अलग थी। वे साधारण पर्वतारोही के रूप में गए थे, लेकिन अब नायक थे। पूरी दुनिया उन्हें बधाई देने की प्रतीक्षा कर रही थी।

तेंजिंग के लिए अंतर बहुत अधिक होने जा रहा था।

उन्होंने इस दिन को देखने के लिए कड़ी मेहनत की थी।

एक युवा लड़के के रूप में वे नेपाल में एक छोटे से गाँव सोलो खुंबू में अपने परिवार के साथ रहते थे। उन्हें खेत में अपने पिता की मदद करनी पड़ती थी। लेकिन वे इस काम में बहुत कम रुचि रखते थे। उनका दिल कहीं और था। वे हिमालय पर चढ़ना चाहते थे। एक दिन वे भाग गए और दार्जिलिंग में बस गए। यहाँ से पर्वतारोही पर्वत शिखरों तक चढ़ते थे।

उन्हें पहली बड़ी सफलता 1935 में मिली जब उन्होंने फ्रैंक स्माइथ की टीम का पोर्टर के रूप में साथ दिया। तेंजिंग उत्साहित थे। लेकिन पार्टी इसे पूरा नहीं कर सकी। 23,000 फीट चढ़ने के बाद अधिकांश पर्वतारोही इतने थक गए कि स्माइथ को अभियान छोड़ना पड़ा।

1953 में वे जॉन हंट के नेतृत्व वाले अभियान के साथ जुड़े। टीम अंतिम चरण से पहले आधार शिविर तक सफलतापूर्वक पहुँची। चढ़ाई का आखिरी हिस्सा संकटमय होने वाला था। हंट ने अंतिम चढ़ाई के लिए चार लोगों का चयन किया। इवांस और टॉम पहले जानेवाले थे। हिलेरी और तेंजिंग दूसरा प्रयास करनेवाले थे। टॉम और इवांस असफल रहे क्योंकि मौसम खराब हो गया।

इसलिए अगले दिन हिलेरी और तेंजिंग को अपनी किस्मत आजमाने का प्रयास करना था। वे भाग्यशाली थे। मौसम सुखद था। चढ़ाई बहुत तीव्र ढलान वाली थी। एक फिसलन और उन का गिरना घातक हो सकता था। लेकिन बहादुर पर्वतारोही चलते रहे।

एक स्तर पर वे कुछ भी नहीं देख सके। वे उलझन में थे। लेकिन फिर उन्होंने अनुभव किया कि वे दुनिया के शीर्ष पर खड़े थे। उन्होंने एक सपना सच किया।

Sub questions

Question Number : 53 Question Id : 755905868 Question Type : MCQ Option Shuffling : Yes Display Question Number : Yes
Single Line Question Option : No Option Orientation : Vertical

Correct Marks : 1 Wrong Marks : 0

1935 का अभियान असफल रहने का कारण क्या था?

Options :

1. ✖ सभी पर्वतारोहियों का खराब स्वास्थ्य
2. ✖ खराब मौसम और स्माइथ की अगुवाई करने में असमर्थता।
3. ✔ पर्वतारोही अभियान को जारी रखने के लिए बहुत थके हुए हैं
4. ✖ स्माइथ अस्वस्थ था और उसने अभियान को छोड़ दिया।

Question Number : 54 Question Id : 755905869 Question Type : MCQ Option Shuffling : Yes Display Question Number : Yes
Single Line Question Option : No Option Orientation : Vertical

Correct Marks : 1 Wrong Marks : 0

जब लेखक कहता है, “उन्होंने इतिहास रच दिया था”,
उसका क्या अर्थ है?

Options :

1. ✔ पर्वतारोहियों ने कुछ उल्लेखनीय किया था।
2. ✖ दुनिया उन्हें बधाई देने की प्रतीक्षा कर रही थी।
3. ✖ पर्वतारोहियों ने नीचे का दृश्य देखा।
4. ✖ पर्वतारोही पंद्रह मिनट के लिए चोटी पर खड़े रहे।

Question Number : 55 Question Id : 755905870 Question Type : MCQ Option Shuffling : Yes Display Question Number : Yes
Single Line Question Option : No Option Orientation : Vertical

Correct Marks : 1 Wrong Marks : 0

दो पर्वतारोहियों के लिए वापसी यात्रा ऊपर की
ओर की यात्रा से अलग क्यों थी?

Options :

1. ✖ वापसी यात्रा अधिक कठिन थी।
2. ✖ उन्होंने अपने डर को जीत लिया था।

3. ✓ उन्हें दुनिया के शीर्ष पर होने की अनुभूति हो रही थी।

4. ✗ वे ऊपर जाने की यात्रा के बारे में सोच रहे थे।

Question Number : 56 Question Id : 755905871 Question Type : MCQ Option Shuffling : Yes Display Question Number : Yes
Single Line Question Option : No Option Orientation : Vertical

Correct Marks : 1 Wrong Marks : 0

निम्नलिखित में से कौन सा कथन तेंजिंग के बारे में सच नहीं है?

Options :

1. ✗ वे पहाड़ों से बहुत प्रेरित थे।

2. ✓ वे ऊँचाई पर चढ़ने के लिए चिकित्सकीय रूप से अनुपयुक्त थे।

3. ✗ वे दार्जिलिंग में बसने के लिए घर से भाग गये।

4. ✗ वे आजीविका के लिए खेती करना नहीं चाहते थे।

Question Number : 57 Question Id : 755905872 Question Type : MCQ Option Shuffling : Yes Display Question Number : Yes
Single Line Question Option : No Option Orientation : Vertical

Correct Marks : 1 Wrong Marks : 0

जॉन हंट में महान नेतृत्व गुण थे। यह इस तथ्य से सिद्ध किया जा सकता है कि उन्होंने:

Options :

1. ✗ एवरेस्ट पर चढ़ने के लिए हिलेरी और तेंजिंग को भेजा।

2. ✗ उनकी टीम के सदस्यों द्वारा प्यार और सम्मान पाया।

3. ✗ अपनी टीम के लिए सबसे अनुभवी पर्वतारोहियों का चयन किया।

4. ✓ एक रणनीति की योजना बनाई और सफलता सुनिश्चित करने के लिए दो टीमों का गठन किया।

Section type :	Online
Mandatory or Optional:	Mandatory
Number of Questions:	6
Number of Questions to be attempted:	6
Section Marks:	6
Display Number Panel:	Yes
Group All Questions:	No

Sub-Section Number:	1
Sub-Section Id:	755905107
Question Shuffling Allowed :	Yes

Question Number : 58 Question Id : 755905873 Question Type : MCQ Option Shuffling : Yes Display Question Number : Yes
Single Line Question Option : No Option Orientation : Vertical

Correct Marks : 1 Wrong Marks : 0

What approximate value should come in place of the question mark (?) in the following question? (You are not expected to find out the exact value.)

$$6\frac{2}{5} \text{ of } 248.65 = ? \text{ of } 2398.59$$

Options :

1.  $\frac{2}{5}$

2.  $\frac{1}{4}$

3.  $\frac{1}{2}$

4.  $\frac{2}{3}$

Question Number : 58 Question Id : 755905873 Question Type : MCQ Option Shuffling : Yes Display Question Number : Yes
Single Line Question Option : No Option Orientation : Vertical

Correct Marks : 1 Wrong Marks : 0

निम्नलिखित प्रश्न में प्रश्न चिह्न (?) के स्थान पर अनुमानित मान क्या होना चाहिए? (आपको सटीक मान की गणना नहीं करनी है।)

$$248.65 \text{ का } 6\frac{2}{5} = 2398.59 \text{ का ?}$$

Options :

1.  $\frac{2}{5}$

2.  $\frac{1}{4}$

3.  $\frac{1}{2}$

4.  $\frac{2}{3}$

Question Number : 59 Question Id : 755905874 Question Type : MCQ Option Shuffling : Yes Display Question Number : Yes
Single Line Question Option : No Option Orientation : Vertical

Correct Marks : 1 Wrong Marks : 0

In how many different ways can the letters of the word 'BANKING' be arranged?

Options :

1.  5040

2.  2540

3.  5080

4.  2520

Question Number : 59 Question Id : 755905874 Question Type : MCQ Option Shuffling : Yes Display Question Number : Yes
Single Line Question Option : No Option Orientation : Vertical

Correct Marks : 1 Wrong Marks : 0

'BANKING' शब्द के अक्षरों को कितने अलग तरीके से व्यवस्थित किया जा सकता है?

Options :

1.  5040

2.  2540

3.  5080

4.  2520

Question Number : 60 Question Id : 755905875 Question Type : MCQ Option Shuffling : Yes Display Question Number : Yes
Single Line Question Option : No Option Orientation : Vertical

Correct Marks : 1 Wrong Marks : 0

There are two numbers such that the sum of twice the first number and thrice the second number is 100 and the sum of thrice the first number and twice the second number is 120. Which is the larger number?

Options :

1.  32

2.  12

3.  14

4.  35

Question Number : 60 Question Id : 755905875 Question Type : MCQ Option Shuffling : Yes Display Question Number : Yes
Single Line Question Option : No Option Orientation : Vertical

Correct Marks : 1 Wrong Marks : 0

दो संख्याएँ इस प्रकार हैं कि पहली संख्या के दोगुने और दूसरी संख्या के तीन गुने का योगफल 100 है और पहली संख्या के तीन गुने और दूसरी संख्या के दोगुने का योगफल 120 है। दोनों में से बड़ी संख्या कौन सी है?

Options :

1. ✓ 32

2. ✗ 12

3. ✗ 14

4. ✗ 35

Question Number : 61 Question Id : 755905876 Question Type : MCQ Option Shuffling : Yes Display Question Number : Yes
Single Line Question Option : No Option Orientation : Vertical

Correct Marks : 1 Wrong Marks : 0

The angles of a quadrilateral are in the ratio of 2 : 4 : 7 : 5. The smallest angle of the quadrilateral is equal to the smallest angle of a triangle. One of the angles of the triangle is twice the smallest angle of the triangle. What is the measurement of second largest angle of the triangle?

Options :

1. ✗ 80°

2. ✓ 60°

3. ✗ 120°

4. ✗ Cannot be determined

Question Number : 61 Question Id : 755905876 Question Type : MCQ Option Shuffling : Yes Display Question Number : Yes
Single Line Question Option : No Option Orientation : Vertical

Correct Marks : 1 Wrong Marks : 0

एक चतुर्भुज के कोण 2 : 4 : 7 : 5 के अनुपात में हैं। चतुर्भुज का सबसे छोटा कोण एक त्रिभुज के सबसे छोटे कोण के बराबर है। त्रिभुज के कोणों में से एक त्रिकोण के सबसे छोटे कोण का दोगुना है। त्रिकोण का दूसरे सबसे बड़े कोण का माप कितना है?

Options :

1. ✗ 80°

2. ✓ 60°

3. ✗ 120°

4. ✗ निर्धारित नहीं किया जा सकता है

Question Number : 62 Question Id : 755905877 Question Type : MCQ Option Shuffling : Yes Display Question Number : Yes
Single Line Question Option : No Option Orientation : Vertical

Correct Marks : 1 Wrong Marks : 0

Fifty-three percent of a number is 358 less than the square of 26. What is the value of three-fourths of 23 percent of that number?

Options :

1. ✓ 103.5
2. ✗ 109.5
3. ✗ 113
4. ✗ 101

Question Number : 62 Question Id : 755905877 Question Type : MCQ Option Shuffling : Yes Display Question Number : Yes
Single Line Question Option : No Option Orientation : Vertical

Correct Marks : 1 Wrong Marks : 0

किसी संख्या का 53 प्रतिशत 26 के वर्ग से 358 कम है। इस संख्या के 23 प्रतिशत का तीन-चौथाई मान क्या होगा?

Options :

1. ✓ 103.5
2. ✗ 109.5
3. ✗ 113
4. ✗ 101

Question Number : 63 Question Id : 755905878 Question Type : MCQ Option Shuffling : Yes Display Question Number : Yes
Single Line Question Option : No Option Orientation : Vertical

Correct Marks : 1 Wrong Marks : 0

The side of a square is half the diameter of a circle. The area of the square is 1225 cm^2 . What is the area of the circle?

Options :

1. ✗ 962.5 cm^2
2. ✓ 3850 cm^2
3. ✗ 15400 cm^2
4. ✗ 15600 cm^2

Question Number : 63 Question Id : 755905878 Question Type : MCQ Option Shuffling : Yes Display Question Number : Yes
Single Line Question Option : No Option Orientation : Vertical

Correct Marks : 1 Wrong Marks : 0

एक वर्ग का पक्ष (साइड) एक वृत्त के व्यास से आधा है। वर्ग का क्षेत्रफल 1225 cm^2 है। वृत्त का क्षेत्रफल कितना है?

Options :

1. ✖ 962.5 cm²
2. ✔ 3850 cm²
3. ✖ 15400 cm²
4. ✖ 15600 cm²

GENERAL MENTAL ABILITY AND REASONING

Section Id :	755905108
Section Number :	4
Section type :	Online
Mandatory or Optional:	Mandatory
Number of Questions:	6
Number of Questions to be attempted:	6
Section Marks:	6
Display Number Panel:	Yes
Group All Questions:	No

Sub-Section Number:	1
Sub-Section Id:	755905108
Question Shuffling Allowed :	Yes

Question Number : 64 Question Id : 755905879 Question Type : MCQ Option Shuffling : Yes Display Question Number : Yes
Single Line Question Option : No Option Orientation : Vertical
Correct Marks : 1 Wrong Marks : 0

Study the following arrangement carefully and answer the question given below:

W 1 R % 4 J E # 7 M T 2 1 9 B H 3 A \$ 9 F Q 5 D G 6 U S P

Three of the following four are alike in a certain way on the basis of above arrangement and hence form a group. Which of the following does NOT belong to that group?

Options :

1. ✖ R W 4
2. ✖ 5 F G
3. ✔ 9 Q A
4. ✖ 3 B S

Question Number : 64 Question Id : 755905879 Question Type : MCQ Option Shuffling : Yes Display Question Number : Yes
Single Line Question Option : No Option Orientation : Vertical
Correct Marks : 1 Wrong Marks : 0

निम्नलिखित व्यवस्था को ध्यानपूर्वक पढ़ें और इसके नीचे दिये गये प्रश्न का उत्तर दें।

W 1 R % 4 J E # 7 M T 2 1 9 B H 3 A \$ 9 F Q 5 D G 6 U S P

उपरोक्त व्यवस्था के आधार पर नीचे दिए गए चार विकल्पों में से तीन एक निश्चित तरीके से समान हैं और एक समूह का निर्माण करते हैं। निम्नलिखित में से कौन सा, समूह से संबंधित नहीं है?

Options :

1. ✖ R W 4

2. ✖ 5 F G

3. ✔ 9 Q A

4. ✖ 3 B \$

Question Number : 65 Question Id : 755905880 Question Type : MCQ Option Shuffling : Yes Display Question Number : Yes
Single Line Question Option : No Option Orientation : Vertical

Correct Marks : 1 Wrong Marks : 0

Study the following series of alpha-numeric-symbol combination and answer the question that follows:

S K 6 £ Q 2 R * C F 8 E \$ G 2 # 4 9 L N 3 U V 5 Y α B 7 W 9

Three of the following four are alike in respect of their positions in the above series. Which is the one that does NOT belong to that group?

Options :

1. ✖ Q * 8

2. ✖ £ R F

3. ✖ 6 2 C

4. ✔ 2 * 8

Question Number : 65 Question Id : 755905880 Question Type : MCQ Option Shuffling : Yes Display Question Number : Yes
Single Line Question Option : No Option Orientation : Vertical

Correct Marks : 1 Wrong Marks : 0

निम्नलिखित वर्ण-संख्या-प्रतीक संयोजन की श्रृंखला का अध्ययन करें और उसके बाद दिये गये प्रश्न का उत्तर दें।

S K 6 £ Q 2 R * C F 8 E \$ G 2 # 4 9 L N 3 U V 5 Y α B 7 W 9

उपरोक्त व्यवस्था के आधार पर नीचे दिए गए चार वर्ण-संख्या-प्रतीक संयोजनों में से तीन एक निश्चित तरीके से समान हैं। निम्नलिखित में से कौन सा, समूह से संबंधित नहीं है?

Options :

1. ✖ Q * 8

2. ✖ £ R F

3. ✖ 6 2 C

4. ✔ 2 * 8

Question Number : 66 Question Id : 755905881 Question Type : MCQ Option Shuffling : Yes Display Question Number : Yes
Single Line Question Option : No Option Orientation : Vertical

Correct Marks : 1 Wrong Marks : 0

Study the following series of alpha-numeric-symbol combination and answer the question that follows:

S K 6 £ Q 2 R * C F 8 E \$ G 2 # 4 9 L N 3 U V 5 Y α B 7 W 9

S K £ is related to 9 W B in the same way as Q 2 * is related to:

Options :

1. ✖ α V U

2. ✖ α Y 5

3. ✖ 7 B Y

4. ✔ α Y V

Question Number : 66 Question Id : 755905881 Question Type : MCQ Option Shuffling : Yes Display Question Number : Yes
Single Line Question Option : No Option Orientation : Vertical

Correct Marks : 1 Wrong Marks : 0

निम्नलिखित वर्ण-संख्या-प्रतीक संयोजन की श्रृंखला का अध्ययन करें और उसके बाद दिये गये प्रश्न का उत्तर दें।

S K 6 £ Q 2 R * C F 8 E \$ G 2 # 4 9 L N 3 U V 5 Y α B 7 W 9

जिस प्रकार S K £ से 9 W B संबंधित है, उसी प्रकार Q 2 * से क्या संबंधित है?

Options :

1. ✖ α V U

2. ✖ α Y 5

3. ✖ 7 B Y

4. ✔ α Y V

Question Number : 67 Question Id : 755905882 Question Type : MCQ Option Shuffling : Yes Display Question Number : Yes
Single Line Question Option : No Option Orientation : Vertical

Correct Marks : 1 Wrong Marks : 0

Among the following words, which one will come third when they are arranged in an order as they would appear in an English dictionary?

Options :

1. ✖ Rigour
2. ✖ Remove
3. ✖ Retrospect
4. ✔ Revive

Question Number : 67 Question Id : 755905882 Question Type : MCQ Option Shuffling : Yes Display Question Number : Yes
Single Line Question Option : No Option Orientation : Vertical

Correct Marks : 1 Wrong Marks : 0

यदि निम्नलिखित सभी शब्दों को एक अंग्रेजी शब्दकोश के अनुसार वर्णानुक्रम में व्यवस्थित किया जाता है, तो तीसरे स्थान पर कौन सा शब्द आयेगा?

Options :

1. ✖ Rigour
2. ✖ Remove
3. ✖ Retrospect
4. ✔ Revive

Question Number : 68 Question Id : 755905883 Question Type : MCQ Option Shuffling : Yes Display Question Number : Yes
Single Line Question Option : No Option Orientation : Vertical

Correct Marks : 1 Wrong Marks : 0

If letters from A to M were written, leaving space for one letter between every two letters, and then the remaining letters were inserted, beginning with N and ending the series with Z after M.

Which letter would be exactly between D and K?

Options :

1. ✖ S
2. ✔ T
3. ✖ V
4. ✖ W

Question Number : 68 Question Id : 755905883 Question Type : MCQ Option Shuffling : Yes Display Question Number : Yes
Single Line Question Option : No Option Orientation : Vertical

Correct Marks : 1 Wrong Marks : 0

यदि A से M के अक्षरों को प्रत्येक दो अक्षरों के बीच एक अक्षर के लिए जगह छोड़कर लिखा जाता है, और शेष अक्षरों को N से प्रारंभ करके M के बाद Z पर श्रृंखला को समाप्त करके सम्मिलित किया जाता है, तो D और K के बिल्कुल मध्य में कौन सा अक्षर होगा?

Options :

1. ✖ S
2. ✔ T
3. ✖ V
4. ✖ W

Question Number : 69 Question Id : 755905884 Question Type : MCQ Option Shuffling : Yes Display Question Number : Yes
Single Line Question Option : No Option Orientation : Vertical

Correct Marks : 1 Wrong Marks : 0

Select the option with the most appropriate description about these three celebrities.

Devika Rani : Sohrab Modi : Raj Kapoor

Options :

1. ✖ They were great directors.
2. ✖ They have largest number of films to their credit.
3. ✔ They received the Dadasaheb Phalke award.
4. ✖ They were honoured with the much coveted award 'Padma Shri'.

Question Number : 69 Question Id : 755905884 Question Type : MCQ Option Shuffling : Yes Display Question Number : Yes
Single Line Question Option : No Option Orientation : Vertical

Correct Marks : 1 Wrong Marks : 0

इन तीन मशहूर हस्तियों के संबंध में सबसे उचित विवरण वाले विकल्प का चयन करें।

देविका रानी : सोहराब मोदी : राज कपूर

Options :

1. ✖ ये महान निर्देशक थे।
2. ✖ उन्हें सबसे अधिक फिल्म करने का श्रेय प्राप्त हुआ है।
3. ✔ उन्हें दादासाहेब फाल्के पुरस्कार मिला।
4. ✖ उन्हें बहुत प्रतिष्ठित पुरस्कार 'पद्मश्री' से सम्मानित किया गया।

GENERAL AWARENESS

Section Id :	755905109
Section Number :	5
Section type :	Online
Mandatory or Optional:	Mandatory
Number of Questions:	6
Number of Questions to be attempted:	6
Section Marks:	6
Display Number Panel:	Yes
Group All Questions:	No

Sub-Section Number:	1
Sub-Section Id:	755905109
Question Shuffling Allowed :	Yes

Question Number : 70 Question Id : 755905885 Question Type : MCQ Option Shuffling : Yes Display Question Number : Yes
Single Line Question Option : No Option Orientation : Vertical

Correct Marks : 1 Wrong Marks : 0

National Institute of Nutrition is a institute located in the state of:

Options :

1. ✓ Andhra Pradesh
2. ✗ Himachal Pradesh
3. ✗ Madhya Pradesh
4. ✗ Uttar Pradesh

Question Number : 70 Question Id : 755905885 Question Type : MCQ Option Shuffling : Yes Display Question Number : Yes
Single Line Question Option : No Option Orientation : Vertical

Correct Marks : 1 Wrong Marks : 0

राष्ट्रीय पोषण संस्थान किस राज्य में स्थित है।

Options :

1. ✓ आंध्र प्रदेश
2. ✗ हिमाचल प्रदेश
3. ✗ मध्य प्रदेश
4. ✗ उत्तर प्रदेश

Question Number : 71 Question Id : 755905886 Question Type : MCQ Option Shuffling : Yes Display Question Number : Yes
Single Line Question Option : No Option Orientation : Vertical

Correct Marks : 1 Wrong Marks : 0

Which of the following is NOT the colour of five intertwined Olympic rings?

Options :

1. ✖ Yellow
2. ✖ Black
3. ✔ Violet
4. ✖ Blue

Question Number : 71 Question Id : 755905886 Question Type : MCQ Option Shuffling : Yes Display Question Number : Yes
Single Line Question Option : No Option Orientation : Vertical

Correct Marks : 1 Wrong Marks : 0

ओलंपिक के प्रतीक चिन्ह का निर्माण करने वाले पाँच रिंग पाँच भिन्न-भिन्न रंगों से बने हैं। निम्न में से कौनसा रंग उन पाँच रंगों में से एक नहीं है?

Options :

1. ✖ पीला
2. ✖ काला
3. ✔ बैंगनी
4. ✖ नीला

Question Number : 72 Question Id : 755905887 Question Type : MCQ Option Shuffling : Yes Display Question Number : Yes
Single Line Question Option : No Option Orientation : Vertical

Correct Marks : 1 Wrong Marks : 0

Which type of lake is formed by volcanic activities?

Options :

1. ✖ Lagoon
2. ✔ Cladera lake
3. ✖ Fresh water lake
4. ✖ Karst lake

Question Number : 72 Question Id : 755905887 Question Type : MCQ Option Shuffling : Yes Display Question Number : Yes
Single Line Question Option : No Option Orientation : Vertical

Correct Marks : 1 Wrong Marks : 0

ज्वालामुखी गतिविधियों के द्वारा किस प्रकार की झील का निर्माण होता है?

Options :

1. ✖ खाड़ी
2. ✔ कलैडेरा झील
3. ✖ मीठे पानी की झील
4. ✖ करस्ट झील

Question Number : 73 Question Id : 755905888 Question Type : MCQ Option Shuffling : Yes Display Question Number : Yes
Single Line Question Option : No Option Orientation : Vertical
Correct Marks : 1 Wrong Marks : 0

Veliconda group of low hills is a structural part of:

Options :

1. ✔ Eastern Ghats
2. ✖ Western Ghats
3. ✖ Gardamom Hills
4. ✖ Nilgiri Hills

Question Number : 73 Question Id : 755905888 Question Type : MCQ Option Shuffling : Yes Display Question Number : Yes
Single Line Question Option : No Option Orientation : Vertical
Correct Marks : 1 Wrong Marks : 0

निम्न पहाड़ियों का वेलिकोडा समूह एक संरचनात्मक हिस्सा है?

Options :

1. ✔ पूर्वी घाट
2. ✖ पश्चिमी घाट
3. ✖ गार्डमोम हिल्स
4. ✖ नीलगिरि पहाड़ियों

Question Number : 74 Question Id : 755905889 Question Type : MCQ Option Shuffling : Yes Display Question Number : Yes
Single Line Question Option : No Option Orientation : Vertical
Correct Marks : 1 Wrong Marks : 0

In which year were the provisions regarding Municipalities and Panchayats made in the Indian Constitution?

Options :

1. ✖ 1991

2. ✓ 1993

3. ✗ 1995

4. ✗ 2000

Question Number : 74 Question Id : 755905889 Question Type : MCQ Option Shuffling : Yes Display Question Number : Yes
Single Line Question Option : No Option Orientation : Vertical

Correct Marks : 1 Wrong Marks : 0

भारतीय संविधान में नगर पालिकाओं और पंचायतों के संबंध में प्रावधान किस वर्ष किए गए थे?

Options :

1. ✗ 1991

2. ✓ 1993

3. ✗ 1995

4. ✗ 2000

Question Number : 75 Question Id : 755905890 Question Type : MCQ Option Shuffling : Yes Display Question Number : Yes
Single Line Question Option : No Option Orientation : Vertical

Correct Marks : 1 Wrong Marks : 0

Despotism is possible in a:

Options :

1. ✓ one party state

2. ✗ two party state

3. ✗ multi-party state

4. ✗ two and multi-party state

Question Number : 75 Question Id : 755905890 Question Type : MCQ Option Shuffling : Yes Display Question Number : Yes
Single Line Question Option : No Option Orientation : Vertical

Correct Marks : 1 Wrong Marks : 0

तानाशाही किस में संभव है?

Options :

1. ✓ एक पार्टी राज्य

2. ✗ दो पार्टी राज्य

3. ❌ बहुदलीय राज्य

4. ❌ दो और बहुदलीय राज्य

	Mock
Group Number :	2
Group Id :	75590566
Group Maximum Duration :	5
Group Minimum Duration :	5
Revisit allowed for view? :	No
Revisit allowed for edit? :	No
Break time:	1
Mandatory Break time:	Yes
Group Marks:	0

	English Typing Test
Section Id :	755905110
Section Number :	1
Section type :	Typing Test
Mandatory or Optional:	Mandatory
Number of Questions:	1
Number of Questions to be attempted:	1
Section Marks:	0
Display Number Panel:	Yes
Group All Questions:	No

Sub-Section Number:	1
Sub-Section Id:	755905110
Question Shuffling Allowed :	No

Question Number : 76 Question Id : 755905891 Question Type : TYPING TEST Display Question Number : Yes

Summer camps are supervised camps conducted to entertain as well as equip students with various life skills such as teamwork, socializing, decision making, independent and responsible living and more. It aids the overall development of a child and children have fun during this process as they get to explore new arenas.

Restricted/ Unrestricted: Unrestricted

Paragraph Display: Yes

Evaluation Mode: Non Standard

Keyboard Layout: Inscript

Show Details Panel: Yes

Show Error Count: Yes

Highlight Correct or Incorrect Words: Yes

Allow Back Space: Yes

Show Back Space Count: Yes

Actual

Group Number :	3
Group Id :	75590567
Group Maximum Duration :	15
Group Minimum Duration :	15
Revisit allowed for view? :	No
Revisit allowed for edit? :	No
Break time:	0
Group Marks:	0

English Typing Test

Section Id :	755905111
Section Number :	1
Section type :	Typing Test
Mandatory or Optional:	Mandatory
Number of Questions:	1
Number of Questions to be attempted:	1
Section Marks:	0
Display Number Panel:	Yes
Group All Questions:	No

Sub-Section Number:	1
Sub-Section Id:	755905111
Question Shuffling Allowed :	No

Question Number : 77 Question Id : 755905892 Question Type : TYPING TEST Display Question Number : Yes

The capability of an individual to translate knowledge into action is known as skill. It is not necessarily inborn. It can be developed through practice and through relating learning to one's own personal experience and background. Skills of manager-Technical skills. Technical skills refer to the ability to carry out a specific activity, which may involve the use of tools, equipment, procedures, and knowledge of a specialized field. It is concerned with the ways of doing the things. Technical skills are most important for the first level managers as much of their time is devoted in training and clarifying the doubts of subordinates. Effective supervision and coordination depends on the technical skill possessed by the lower level manager. Any supervisor without a sound knowledge of technical skills cannot be an effective supervisor. Human Skills. Human skills or interpersonal skills are primarily concerned with persons. It is the ability of a person to work well with others in a group. It is concerned with the understanding and awareness of own attitudes, assumptions, and beliefs. As the viewpoints and feelings are different from each other, these skills involve understanding why people behave as they do. Conceptual Skills. It is the understanding of various components of an organization that relate to one another and associate the organization with external environment. It involves the ability to understand how the various parts and functions of an organization mesh together and how changes in any one of these may affect all the others. A high degree of conceptual skill helps in analyzing the environment and in identifying the opportunities and threats. Management job always requires all the three skills, but in different proportions depending upon the level of management. Technical skills and human skills are always in great demand at the lower level of management. The need for conceptual skill is greatest at the top level of management. Further, management development programmes help in acquiring and developing different types of managerial skills and knowledge, such as the ones given below. Decision-making skills. The main job of a manager is to make both strategic and routine decisions. His ability to take effective decisions can be enhanced by developing decision-making skills through various techniques, for example case study method. This is a training method that employs simulated business problems for trainees to solve. The individual is expected to study the information given in the case and make decisions based on the situation. If the student is provided a case involving an actual company, he is expected to research the firm to gain a better appreciation of its financial condition and corporate culture. Typically, the case method is used in the class room with an instructor who serves as a facilitator.

Restricted/ Unrestricted: Unrestricted

Paragraph Display: Yes

Evaluation Mode: Non Standard

Keyboard Layout: Inscript

Show Details Panel: Yes

Show Error Count: Yes

Highlight Correct or Incorrect Words: Yes

Allow Back Space: Yes

Show Back Space Count: Yes