

Computer Proficiency Certification Test

Notations :

- Options shown in green color and with ✓ icon are correct.
- Options shown in red color and with ✗ icon are incorrect.

| | |
|---|--|
| Question Paper Name: | Scribe Computer Proficiency Certification Test |
| Subject Name: | Scribe Computer Proficiency Certification Test |
| Creation Date: | 2018-12-23 13:11:24 |
| Duration: | 125 |
| Total Marks: | 75 |
| Display Marks: | Yes |
| Share Answer Key With Delivery Engine: | Yes |
| Actual Answer Key: | Yes |
| Calculator: | None |
| Magnifying Glass Required?: | No |
| Ruler Required?: | No |
| Eraser Required?: | No |
| Scratch Pad Required?: | No |
| Rough Sketch/Notepad Required?: | No |
| Protractor Required?: | No |
| Show Watermark on Console?: | Yes |
| Highlighter: | No |
| Auto Save on Console?: | No |

CPCT

| | |
|------------------------------------|----------|
| Group Number : | 1 |
| Group Id : | 20129843 |
| Group Maximum Duration : | 100 |
| Group Minimum Duration : | 100 |
| Revisit allowed for view? : | No |
| Revisit allowed for edit? : | No |
| Break time: | 1 |
| Mandatory Break time: | Yes |
| Group Marks: | 75 |

COMPUTER PROFICIENCY & PROFICIENCY IN GENERAL IT SKILLS AND NETWORKING

| | |
|---|-----------|
| Section Id : | 20129899 |
| Section Number : | 1 |
| Section type : | Online |
| Mandatory or Optional: | Mandatory |
| Number of Questions: | 52 |
| Number of Questions to be attempted: | 52 |
| Section Marks: | 52 |
| Display Number Panel: | Yes |
| Group All Questions: | No |

Sub-Section Number: 1
Sub-Section Id: 20129899
Question Shuffling Allowed : Yes

Question Number : 1 Question Id : 2012981093 Question Type : MCQ Option Shuffling : Yes Display Question Number : Yes
Single Line Question Option : No Option Orientation : Vertical
Correct Marks : 1 Wrong Marks : 0

In which of the following file formats are desktop icons found?

Options :

1. ✖ .ico, .exe and .jpeg
2. ✔ .ico, .exe and .dll
3. ✖ .dll, .ico and .docx
4. ✖ .dll, .jpeg and .docx

Question Number : 1 Question Id : 2012981093 Question Type : MCQ Option Shuffling : Yes Display Question Number : Yes
Single Line Question Option : No Option Orientation : Vertical
Correct Marks : 1 Wrong Marks : 0

डेस्कटॉप आइकन इन तीन फाइल फॉर्मेट में से किस फॉर्मेट में पाए जाते हैं?

Options :

1. ✖ .ico, .exe और .jpeg
2. ✔ .ico, .exe और .dll
3. ✖ .dll, .ico और .docx
4. ✖ .dll, .jpeg और .docx

Question Number : 2 Question Id : 2012981094 Question Type : MCQ Option Shuffling : Yes Display Question Number : Yes
Single Line Question Option : No Option Orientation : Vertical
Correct Marks : 1 Wrong Marks : 0

Resource management can be done by the operating system via:

Options :

1. ✖ time division multiplexing
2. ✖ space division multiplexing
3. ✔ both time and space division multiplexing

4. ✖ frequency division multiplexing

Question Number : 2 Question Id : 2012981094 Question Type : MCQ Option Shuffling : Yes Display Question Number : Yes
Single Line Question Option : No Option Orientation : Vertical
Correct Marks : 1 Wrong Marks : 0

_____ के माध्यम से ऑपरेटिंग सिस्टम के द्वारा संसाधन प्रबंधन किया जा सकता है।

Options :

1. ✖ टाइम डिवीजन मल्टीप्लेक्सिंग
2. ✖ स्पेस डिवीजन मल्टीप्लेक्सिंग
3. ✔ दोनों टाइम और स्पेस डिवीजन मल्टीप्लेक्सिंग
4. ✖ फ्रिक्वेन्सी डिवीजन मल्टीप्लेक्सिंग

Question Number : 3 Question Id : 2012981095 Question Type : MCQ Option Shuffling : Yes Display Question Number : Yes
Single Line Question Option : No Option Orientation : Vertical
Correct Marks : 1 Wrong Marks : 0

Which command can be used to get the IP addresses of all the network routes?

Options :

1. ✖ netstatic -r
2. ✖ netstatic -p
3. ✖ netstat -p
4. ✔ netstat -r

Question Number : 3 Question Id : 2012981095 Question Type : MCQ Option Shuffling : Yes Display Question Number : Yes
Single Line Question Option : No Option Orientation : Vertical
Correct Marks : 1 Wrong Marks : 0

सभी नेटवर्क रूट का आईपी एड्रेस प्राप्त करने के लिए किस कमांड का उपयोग किया जा सकता है?

Options :

1. ✖ netstatic -r
2. ✖ netstatic -p
3. ✖ netstat -p

4. ✓ netstat -r

Question Number : 4 Question Id : 2012981096 Question Type : MCQ Option Shuffling : Yes Display Question Number : Yes
Single Line Question Option : No Option Orientation : Vertical

Correct Marks : 1 Wrong Marks : 0

_____ tool has been designed for logging, capturing and displaying HTTP traffic.

Options :

1. ✓ httprry
2. ✗ Justniffer
3. ✗ ngrep
4. ✗ Passivedns

Question Number : 4 Question Id : 2012981096 Question Type : MCQ Option Shuffling : Yes Display Question Number : Yes
Single Line Question Option : No Option Orientation : Vertical

Correct Marks : 1 Wrong Marks : 0

_____ टूल को एच.टी.टी.पी. (HTTP) ट्रैफिक को लॉग करने, कैप्चर करने और प्रदर्शित करने के लिए बनाया गया है।

Options :

1. ✓ httprry
2. ✗ Justniffer
3. ✗ ngrep
4. ✗ Passivedns

Question Number : 5 Question Id : 2012981097 Question Type : MCQ Option Shuffling : Yes Display Question Number : Yes
Single Line Question Option : No Option Orientation : Vertical

Correct Marks : 1 Wrong Marks : 0

Embedded software is used in:

Options :

1. ✗ online railway information systems
2. ✓ mobile phones
3. ✗ e-Learning software
4. ✗ multimedia movies

Question Number : 5 Question Id : 2012981097 Question Type : MCQ Option Shuffling : Yes Display Question Number : Yes
Single Line Question Option : No Option Orientation : Vertical

Correct Marks : 1 Wrong Marks : 0

एम्बेडेड सॉफ्टवेयर का उपयोग _____ में किया जाता है।

Options :

1. ✖ ऑनलाइन रेलवे सूचना प्रणाली
2. ✔ मोबाइल फोन
3. ✖ ई-लर्निंग सॉफ्टवेयर
4. ✖ मल्टीमीडिया मूवी

Question Number : 6 Question Id : 2012981098 Question Type : MCQ Option Shuffling : Yes Display Question Number : Yes
Single Line Question Option : No Option Orientation : Vertical

Correct Marks : 1 Wrong Marks : 0

In Microsoft Excel, if you press _____, the cell accepts your typing as its contents.

Options :

1. ✔ Enter
2. ✖ Ctrl + Enter
3. ✖ Shift
4. ✖ Insert

Question Number : 6 Question Id : 2012981098 Question Type : MCQ Option Shuffling : Yes Display Question Number : Yes
Single Line Question Option : No Option Orientation : Vertical

Correct Marks : 1 Wrong Marks : 0

माइक्रोसॉफ्ट एक्सेल में, यदि आप _____ कुंजी दबाते हैं तो सेल आपके द्वारा टाइप की गई सामग्री को अपने कंटेंट के रूप में स्वीकार करता है।

Options :

1. ✔ Enter
2. ✖ Ctrl + Enter
3. ✖ Shift
4. ✖ Insert

Question Number : 7 Question Id : 2012981099 Question Type : MCQ Option Shuffling : Yes Display Question Number : Yes
Single Line Question Option : No Option Orientation : Vertical

Correct Marks : 1 Wrong Marks : 0

Which of the following is the odd one?

Options :

1. ✖ Applications
2. ✔ Peripherals
3. ✖ Programs
4. ✖ Software

Question Number : 7 Question Id : 2012981099 Question Type : MCQ Option Shuffling : Yes Display Question Number : Yes
Single Line Question Option : No Option Orientation : Vertical

Correct Marks : 1 Wrong Marks : 0

निम्नलिखित में से बेमेल की पहचान करें।

Options :

1. ✖ एप्लिकेशंस
2. ✔ पेरिफेरल्स
3. ✖ प्रोग्राम्स
4. ✖ सॉफ्टवेयर

Question Number : 8 Question Id : 2012981100 Question Type : MCQ Option Shuffling : Yes Display Question Number : Yes
Single Line Question Option : No Option Orientation : Vertical

Correct Marks : 1 Wrong Marks : 0

A handheld device that allows you to control your computer without having to type instructions from a keyboard is called:

Options :

1. ✖ Tablet
2. ✖ PDA
3. ✔ Mouse
4. ✖ Mike

Question Number : 8 Question Id : 2012981100 Question Type : MCQ Option Shuffling : Yes Display Question Number : Yes
Single Line Question Option : No Option Orientation : Vertical

Correct Marks : 1 Wrong Marks : 0

एक हस्त नियंत्रित डिवाइस जो आपको कीबोर्ड से निर्देश टाइप किए बिना अपने कंप्यूटर को नियंत्रित करने देता है, उसे _____ कहते हैं।

Options :

1. ✖ टैबलेट
2. ✖ पीडीए
3. ✔ माउस
4. ✖ माइक

Question Number : 9 Question Id : 2012981101 Question Type : MCQ Option Shuffling : Yes Display Question Number : Yes
Single Line Question Option : No Option Orientation : Vertical

Correct Marks : 1 Wrong Marks : 0

Which type of device is a computer printer?

Options :

1. ✖ Input
2. ✖ Input/output
3. ✖ Software
4. ✔ Output

Question Number : 9 Question Id : 2012981101 Question Type : MCQ Option Shuffling : Yes Display Question Number : Yes
Single Line Question Option : No Option Orientation : Vertical

Correct Marks : 1 Wrong Marks : 0

कंप्यूटर प्रिंटर किस प्रकार का उपकरण (डिवाइस) है?

Options :

1. ✖ इनपुट
2. ✖ इनपुट/आउटपुट
3. ✖ सॉफ्टवेयर
4. ✔ आउटपुट

Question Number : 10 Question Id : 2012981102 Question Type : MCQ Option Shuffling : Yes Display Question Number : Yes
Single Line Question Option : No Option Orientation : Vertical

Correct Marks : 1 Wrong Marks : 0

MB stands for:

Options :

1. ✖ Microbytes

2. ✓ Megabytes

3. ✗ Minibytes

4. ✗ Milibytes

Question Number : 10 Question Id : 2012981102 Question Type : MCQ Option Shuffling : Yes Display Question Number : Yes
Single Line Question Option : No Option Orientation : Vertical

Correct Marks : 1 Wrong Marks : 0

एम.बी. का अर्थ _____ है।

Options :

1. ✗ माइक्रोबाइट्स

2. ✓ मेगाबाइट्स

3. ✗ मिनीबाइट्स

4. ✗ मिलीबाइट्स

Question Number : 11 Question Id : 2012981103 Question Type : MCQ Option Shuffling : Yes Display Question Number : Yes
Single Line Question Option : No Option Orientation : Vertical

Correct Marks : 1 Wrong Marks : 0

What is the name of the program that controls a computer?

Options :

1. ✓ Operating system

2. ✗ Application program

3. ✗ Browser

4. ✗ File Manager

Question Number : 11 Question Id : 2012981103 Question Type : MCQ Option Shuffling : Yes Display Question Number : Yes
Single Line Question Option : No Option Orientation : Vertical

Correct Marks : 1 Wrong Marks : 0

कंप्यूटर को नियंत्रित करने वाले प्रोग्राम का नाम क्या है?

Options :

1. ✓ ऑपरेटिंग सिस्टम

2. ✗ एक एप्लिकेशन प्रोग्राम

3. ✖ ब्राउज़र

4. ✖ फ़ाइल मैनेजर

Question Number : 12 Question Id : 2012981104 Question Type : MCQ Option Shuffling : Yes Display Question Number : Yes
Single Line Question Option : No Option Orientation : Vertical

Correct Marks : 1 Wrong Marks : 0

Which of the following contains components such as ROM, USB ports and PCI ports?

Options :

1. ✖ CD-ROM

2. ✔ Motherboard

3. ✖ Microprocessor

4. ✖ Hard disc drive

Question Number : 12 Question Id : 2012981104 Question Type : MCQ Option Shuffling : Yes Display Question Number : Yes
Single Line Question Option : No Option Orientation : Vertical

Correct Marks : 1 Wrong Marks : 0

निम्नलिखित में से किसमें ROM, USB पोर्ट और PCI पोर्ट जैसे घटक शामिल रहते हैं?

Options :

1. ✖ सीडी रोम (CD-ROM)

2. ✔ मदरबोर्ड

3. ✖ माइक्रोप्रोसेसर

4. ✖ हार्ड डिस्क ड्राइव

Question Number : 13 Question Id : 2012981105 Question Type : MCQ Option Shuffling : Yes Display Question Number : Yes
Single Line Question Option : No Option Orientation : Vertical

Correct Marks : 1 Wrong Marks : 0

Which of the following cards is responsible for displaying images on a computer screen?

Options :

1. ✖ Modem card

2. ✔ Video/graphics card

3. ✖ Sound card

4. ✖ Network interface card

Question Number : 13 Question Id : 2012981105 Question Type : MCQ Option Shuffling : Yes Display Question Number : Yes
Single Line Question Option : No Option Orientation : Vertical

Correct Marks : 1 Wrong Marks : 0

कंप्यूटर स्क्रीन पर चित्रों को प्रदर्शित करने के लिए निम्न में से किस कार्ड का उपयोग किया जाता है?

Options :

1. ✖ मोडेम कार्ड

2. ✔ वीडियो/ग्राफिक्स कार्ड

3. ✖ साउंड कार्ड

4. ✖ नेटवर्क इंटरफेस कार्ड

Question Number : 14 Question Id : 2012981106 Question Type : MCQ Option Shuffling : Yes Display Question Number : Yes
Single Line Question Option : No Option Orientation : Vertical

Correct Marks : 1 Wrong Marks : 0

For successful data communication, each computer follows a set of rules known as:

Options :

1. ✖ Principle

2. ✖ Custom

3. ✖ Backbone

4. ✔ Protocol

Question Number : 14 Question Id : 2012981106 Question Type : MCQ Option Shuffling : Yes Display Question Number : Yes
Single Line Question Option : No Option Orientation : Vertical

Correct Marks : 1 Wrong Marks : 0

सफल डाटा संचार के लिए, प्रत्येक कंप्यूटर द्वारा पालन किए जाने वाले नियमों के समूह को क्या कहा जाता है?

Options :

1. ✖ प्रिन्सिपल

2. ✖ कस्टम

3. ✖ बैकबोन

4. ✔ प्रोटोकॉल

Question Number : 15 Question Id : 2012981107 Question Type : MCQ Option Shuffling : Yes Display Question Number : Yes
Single Line Question Option : No Option Orientation : Vertical

Correct Marks : 1 Wrong Marks : 0

Connecting to the Internet by using a phone line and a modem is called as _____ connection.

Options :

1. ✖ digital
2. ✔ dial-up
3. ✖ broadband
4. ✖ dish

Question Number : 15 Question Id : 2012981107 Question Type : MCQ Option Shuffling : Yes Display Question Number : Yes
Single Line Question Option : No Option Orientation : Vertical

Correct Marks : 1 Wrong Marks : 0

फोन लाइन और मॉडेम का उपयोग करके इंटरनेट से कनेक्ट करने को _____ कनेक्शन कहा जाता है।

Options :

1. ✖ डिजिटल
2. ✔ डायल-अप
3. ✖ ब्रॉडबैंड
4. ✖ डिश

Question Number : 16 Question Id : 2012981108 Question Type : MCQ Option Shuffling : Yes Display Question Number : Yes
Single Line Question Option : No Option Orientation : Vertical

Correct Marks : 1 Wrong Marks : 0

Booting the system means _____.

Options :

1. ✔ loading the operating system
2. ✖ running an application program called 'booting'
3. ✖ physically kicking the computer
4. ✖ dismissing the computer

Question Number : 16 Question Id : 2012981108 Question Type : MCQ Option Shuffling : Yes Display Question Number : Yes
Single Line Question Option : No Option Orientation : Vertical

Correct Marks : 1 Wrong Marks : 0

सिस्टम को बूट करने का क्या अर्थ है?

Options :

1. ☒ ऑपरेटिंग सिस्टम का लोड होना
2. ☐ बूटिंग नामक एक एप्लिकेशन प्रोग्राम चलाना
3. ☐ शारीरिक रूप से कंप्यूटर को लात मारना
4. ☐ कंप्यूटर को खारिज करना

Question Number : 17 Question Id : 2012981109 Question Type : MCQ Option Shuffling : Yes Display Question Number : Yes
Single Line Question Option : No Option Orientation : Vertical

Correct Marks : 1 Wrong Marks : 0

Which of the following is NOT an example of a Web browser?

Options :

1. ☐ Microsoft Internet Explorer
2. ☐ Mozilla Firefox
3. ☐ Netscape Navigator
4. ☒ Google

Question Number : 17 Question Id : 2012981109 Question Type : MCQ Option Shuffling : Yes Display Question Number : Yes
Single Line Question Option : No Option Orientation : Vertical

Correct Marks : 1 Wrong Marks : 0

निम्न में से कौन सा वेब ब्राउज़र का उदाहरण नहीं है?

Options :

1. ☐ माइक्रोसॉफ्ट इन्टरनेट एक्स्प्लोरर
2. ☐ मोज़िला फ़ायरफ़ॉक्स
3. ☐ नेटस्केप नेविगेटर
4. ☒ गूगल

Question Number : 18 Question Id : 2012981110 Question Type : MCQ Option Shuffling : Yes Display Question Number : Yes
Single Line Question Option : No Option Orientation : Vertical

Correct Marks : 1 Wrong Marks : 0

‘.com’ indicates which type of website?

Options :

1. ✓ Commercial

2. ✗ Complex

3. ✗ Casual

4. ✗ Contract

Question Number : 18 Question Id : 2012981110 Question Type : MCQ Option Shuffling : Yes Display Question Number : Yes
Single Line Question Option : No Option Orientation : Vertical

Correct Marks : 1 Wrong Marks : 0

‘.com’ किस प्रकार के वेबसाइट को सूचित करता है?

Options :

1. ✓ व्यावसायिक

2. ✗ जटिल

3. ✗ अनौपचारिक

4. ✗ अनुबंध

Question Number : 19 Question Id : 2012981111 Question Type : MCQ Option Shuffling : Yes Display Question Number : Yes
Single Line Question Option : No Option Orientation : Vertical

Correct Marks : 1 Wrong Marks : 0

With respect to memory, CD-R stands for:

Options :

1. ✓ CD-Recordable

2. ✗ CD-Runner

3. ✗ CD-Receiver

4. ✗ CD-Rewritable

Question Number : 19 Question Id : 2012981111 Question Type : MCQ Option Shuffling : Yes Display Question Number : Yes
Single Line Question Option : No Option Orientation : Vertical

Correct Marks : 1 Wrong Marks : 0

मेमोरी के संबंध में CD-R का पूर्ण रूप क्या है?

Options :

1. ✓ CD-Recordable(सीडी-रिकॉर्डेबल)

- 2. ✖ CD-Runner(सीडी-रनर)
- 3. ✖ CD-Receiver(सीडी रिसीवर)
- 4. ✖ CD- Rewritable(सीडी-रीराइटेबल)

Question Number : 20 Question Id : 2012981112 Question Type : MCQ Option Shuffling : Yes Display Question Number : Yes
Single Line Question Option : No Option Orientation : Vertical

Correct Marks : 1 Wrong Marks : 0

Which of the following is also known as a Service Program?

Options :

- 1. ✖ OS
- 2. ✖ Device driver
- 3. ✔ Utility software
- 4. ✖ Application program

Question Number : 20 Question Id : 2012981112 Question Type : MCQ Option Shuffling : Yes Display Question Number : Yes
Single Line Question Option : No Option Orientation : Vertical

Correct Marks : 1 Wrong Marks : 0

निम्नलिखित में से कौन एक सर्विस प्रोग्राम के रूप में भी जाना जाता है?

Options :

- 1. ✖ ओ.एस. (OS)
- 2. ✖ डिवाइस ड्राइवर
- 3. ✔ उपयोगिता/यूटिलिटी सॉफ्टवेयर
- 4. ✖ एप्लीकेशन प्रोग्राम

Question Number : 21 Question Id : 2012981113 Question Type : MCQ Option Shuffling : Yes Display Question Number : Yes
Single Line Question Option : No Option Orientation : Vertical

Correct Marks : 1 Wrong Marks : 0

The work done by operating system to bring the computer in full working condition is called _____.

Options :

- 1. ✖ activation
- 2. ✔ boot

3. ✖ cache

4. ✖ back up

Question Number : 21 Question Id : 2012981113 Question Type : MCQ Option Shuffling : Yes Display Question Number : Yes
Single Line Question Option : No Option Orientation : Vertical

Correct Marks : 1 Wrong Marks : 0

कंप्यूटर को पूर्ण काम करने की स्थिति में लाने के लिए ऑपरेटिंग सिस्टम द्वारा किया गया काम _____ कहलाता है।

Options :

1. ✖ सक्रियण

2. ✔ बूट

3. ✖ कैश

4. ✖ बैक अप

Question Number : 22 Question Id : 2012981114 Question Type : MCQ Option Shuffling : Yes Display Question Number : Yes
Single Line Question Option : No Option Orientation : Vertical

Correct Marks : 1 Wrong Marks : 0

_____ software can impair a computer's performance.

Options :

1. ✔ Antivirus

2. ✖ System

3. ✖ Application

4. ✖ Desktop

Question Number : 22 Question Id : 2012981114 Question Type : MCQ Option Shuffling : Yes Display Question Number : Yes
Single Line Question Option : No Option Orientation : Vertical

Correct Marks : 1 Wrong Marks : 0

_____ सॉफ्टवेयर कंप्यूटर के प्रदर्शन को खराब कर सकता है।

Options :

1. ✔ एंटीवायरस

2. ✖ सिस्टम

3. ✖ एप्लीकेशन

4. ✖ डेस्कटॉप

Question Number : 23 Question Id : 2012981115 Question Type : MCQ Option Shuffling : Yes Display Question Number : Yes
Single Line Question Option : No Option Orientation : Vertical

Correct Marks : 1 Wrong Marks : 0

A code of webpage is written using _____.

Options :

1. ✔ Hypertext Markup Language
2. ✖ 5th generation language
3. ✖ WinZip
4. ✖ Perl

Question Number : 23 Question Id : 2012981115 Question Type : MCQ Option Shuffling : Yes Display Question Number : Yes
Single Line Question Option : No Option Orientation : Vertical

Correct Marks : 1 Wrong Marks : 0

वेबपेज के कोड को _____ का इस्तेमाल करके लिखा जाता है।

Options :

1. ✔ हाइपरटेक्स्ट मार्कअप लैंग्वेज (HTML)
2. ✖ 5th जेनरेशन लैंग्वेज
3. ✖ विनज़िप (WinZip)
4. ✖ पर्ल (Perl)

Question Number : 24 Question Id : 2012981116 Question Type : MCQ Option Shuffling : Yes Display Question Number : Yes
Single Line Question Option : No Option Orientation : Vertical

Correct Marks : 1 Wrong Marks : 0

What is an e-mail attachment?

Options :

1. ✖ A receipt sent by the recipient.
2. ✔ A separate document from another program sent along with an e-mail message.
3. ✖ A malicious parasite that feeds off messages and destroys the contents.
4. ✖ A linked list

Question Number : 24 Question Id : 2012981116 Question Type : MCQ Option Shuffling : Yes Display Question Number : Yes
Single Line Question Option : No Option Orientation : Vertical

Correct Marks : 1 Wrong Marks : 0

ई-मेल अटैचमेंट क्या होता है?

Options :

1. ✖ प्राप्तकर्ता द्वारा भेजी गयी प्राप्ति की सूचना
2. ✔ ई-मेल संदेश के साथ अलग से भेजा गया किसी अन्य प्रोग्राम का डॉक्यूमेंट (दस्तावेज़)
3. ✖ एक ऐसा तत्व, जो संदेश को प्रभावित कर सकता है और उसका कॉन्टेन्ट नष्ट कर सकता है
4. ✖ एक संबद्ध सूची

Question Number : 25 Question Id : 2012981117 Question Type : MCQ Option Shuffling : Yes Display Question Number : Yes
Single Line Question Option : No Option Orientation : Vertical

Correct Marks : 1 Wrong Marks : 0

DOS CANNOT retrieve any data from a disk if a computer virus corrupts the _____ of the computer.

Options :

1. ✔ file allocation table
2. ✖ BAT files
3. ✖ root directory area
4. ✖ directory area

Question Number : 25 Question Id : 2012981117 Question Type : MCQ Option Shuffling : Yes Display Question Number : Yes
Single Line Question Option : No Option Orientation : Vertical

Correct Marks : 1 Wrong Marks : 0

अगर किसी कंप्यूटर वायरस ने आपके कंप्यूटर की _____ को करप्ट (नष्ट) कर दिया है, तो डीओएस (DOS) डिस्क से कोई भी डेटा रिट्रीव (पुनः प्राप्त) नहीं कर सकता।

Options :

1. ✔ फाइल अलोकेशन टेबल
2. ✖ बीएटी (BAT) फाइल्स
3. ✖ रूट डायरेक्टरी एरिया
4. ✖ डायरेक्टरी एरिया

Question Number : 26 Question Id : 2012981118 Question Type : MCQ Option Shuffling : Yes Display Question Number : Yes
Single Line Question Option : No Option Orientation : Vertical

Correct Marks : 1 Wrong Marks : 0

Which application is commonly used to prepare a presentation/slide show?

Options :

1. ✖ Adobe Photoshop
2. ✔ Microsoft PowerPoint
3. ✖ Outlook Express
4. ✖ Internet Explorer

Question Number : 26 Question Id : 2012981118 Question Type : MCQ Option Shuffling : Yes Display Question Number : Yes
Single Line Question Option : No Option Orientation : Vertical

Correct Marks : 1 Wrong Marks : 0

एक प्रेजेंटेशन / स्लाइड शो बनाने के लिए सामान्यतः किस एप्लीकेशन का उपयोग किया जाता है?

Options :

1. ✖ Adobe Photoshop (एडोब फोटोशोप)
2. ✔ Microsoft PowerPoint (माइक्रोसॉफ्ट पावरपॉइंट)
3. ✖ Outlook Express (आउटलुक एक्सप्रेस)
4. ✖ Internet Explorer (इन्टरनेट एक्स्प्लोरर)

Question Number : 27 Question Id : 2012981119 Question Type : MCQ Option Shuffling : Yes Display Question Number : Yes
Single Line Question Option : No Option Orientation : Vertical

Correct Marks : 1 Wrong Marks : 0

What will be the output if you format the cell containing 5436.8 as '#,##0.00' in MS Excel 2016?

Options :

1. ✖ 5,430.00
2. ✔ 5,436.80
3. ✖ 5,436.60
4. ✖ 6.8

Question Number : 27 Question Id : 2012981119 Question Type : MCQ Option Shuffling : Yes Display Question Number : Yes
Single Line Question Option : No Option Orientation : Vertical

Correct Marks : 1 Wrong Marks : 0

MS Excel 2016 में वह सेल जिसमें 5436.8 स्थित है, उसको '#,##0.00' के रूप में फॉर्मेट करे, तो आउटपुट क्या होगा?

Options :

1. ✖ 5,430.00
2. ✔ 5,436.80
3. ✖ 5,436.60
4. ✖ 6.8

Question Number : 28 Question Id : 2012981120 Question Type : MCQ Option Shuffling : Yes Display Question Number : Yes
Single Line Question Option : No Option Orientation : Vertical

Correct Marks : 1 Wrong Marks : 0

Pressing _____ is a quick way to center-align a paragraph.

Options :

1. ✖ Ctrl + L
2. ✔ Ctrl + E
3. ✖ Ctrl + R
4. ✖ Ctrl + J

Question Number : 28 Question Id : 2012981120 Question Type : MCQ Option Shuffling : Yes Display Question Number : Yes
Single Line Question Option : No Option Orientation : Vertical

Correct Marks : 1 Wrong Marks : 0

_____ दबाना पैराग्राफ को केन्द्रित (center-align) करने का एक त्वरित तरीका है।

Options :

1. ✖ Ctrl + L
2. ✔ Ctrl + E
3. ✖ Ctrl + R
4. ✖ Ctrl + J

Question Number : 29 Question Id : 2012981121 Question Type : MCQ Option Shuffling : Yes Display Question Number : Yes
Single Line Question Option : No Option Orientation : Vertical

Correct Marks : 1 Wrong Marks : 0

Which of the following shortcuts is used to insert a new slide in MS PowerPoint?

Options :

1. ☒ Ctrl + M

2. ☐ Ctrl + N

3. ☐ Ctrl + O

4. ☐ Ctrl + P

Question Number : 29 Question Id : 2012981121 Question Type : MCQ Option Shuffling : Yes Display Question Number : Yes
Single Line Question Option : No Option Orientation : Vertical

Correct Marks : 1 Wrong Marks : 0

MS PowerPoint में नई स्लाइड डालने के लिए निम्न में से किस शार्टकट का उपयोग किया जाता है?

Options :

1. ☒ Ctrl + M

2. ☐ Ctrl + N

3. ☐ Ctrl + O

4. ☐ Ctrl + P

Question Number : 30 Question Id : 2012981122 Question Type : MCQ Option Shuffling : Yes Display Question Number : Yes
Single Line Question Option : No Option Orientation : Vertical

Correct Marks : 1 Wrong Marks : 0

What is the minimum number of rows and columns that a Word 2007 table can have?

Options :

1. ☐ 15 rows and 10 columns

2. ☐ 2 rows and 1 column

3. ☐ 2 rows and 2 columns

4. ☒ 1 row and 1 column

Question Number : 30 Question Id : 2012981122 Question Type : MCQ Option Shuffling : Yes Display Question Number : Yes
Single Line Question Option : No Option Orientation : Vertical

Correct Marks : 1 Wrong Marks : 0

वर्ड 2007 तालिका में पंक्तियों और कॉलमों की न्यूनतम संख्या क्या हो सकती है?

Options :

1. ☐ 15 पंक्ति और 10 कॉलम

2. ☐ 2 पंक्ति और 1 कॉलम

3. ✖ 2 पंक्ति और 2 कॉलम

4. ✔ 1 पंक्ति और 1 कॉलम

Question Number : 31 Question Id : 2012981123 Question Type : MCQ Option Shuffling : Yes Display Question Number : Yes
Single Line Question Option : No Option Orientation : Vertical

Correct Marks : 1 Wrong Marks : 0

=MOD(-3,2) entered in a cell displays:

Options :

1. ✖ -1

2. ✔ 1

3. ✖ -1.5

4. ✖ 0

Question Number : 31 Question Id : 2012981123 Question Type : MCQ Option Shuffling : Yes Display Question Number : Yes
Single Line Question Option : No Option Orientation : Vertical

Correct Marks : 1 Wrong Marks : 0

सेल में दर्ज =MOD(-3,2) क्या दर्शाता है?

Options :

1. ✖ -1

2. ✔ 1

3. ✖ -1.5

4. ✖ 0

Question Number : 32 Question Id : 2012981124 Question Type : MCQ Option Shuffling : Yes Display Question Number : Yes
Single Line Question Option : No Option Orientation : Vertical

Correct Marks : 1 Wrong Marks : 0

Which device allows your computer to talk to other computers over a telephone line as well as access the internet?

Options :

1. ✖ RQAM

2. ✖ Drivers

3. ✖ Hard Disk

4. ✔ Modem

Question Number : 32 Question Id : 2012981124 Question Type : MCQ Option Shuffling : Yes Display Question Number : Yes
Single Line Question Option : No Option Orientation : Vertical

Correct Marks : 1 Wrong Marks : 0

कौन-सी डिवाइस आपके कंप्यूटर को अन्य कंप्यूटर से टेलीफोन लाइन पर बात करने और साथ ही इंटरनेट तक पहुँचने की अनुमति देती है?

Options :

1. ✖ RQAM
2. ✖ ड्राइवर्स
3. ✖ हार्ड डिस्क
4. ✔ मॉडेम

Question Number : 33 Question Id : 2012981125 Question Type : MCQ Option Shuffling : Yes Display Question Number : Yes
Single Line Question Option : No Option Orientation : Vertical

Correct Marks : 1 Wrong Marks : 0

Computers which are connected to the internet are identified by:

Options :

1. ✔ IP address
2. ✖ Street address
3. ✖ Residential address
4. ✖ E-mail address

Question Number : 33 Question Id : 2012981125 Question Type : MCQ Option Shuffling : Yes Display Question Number : Yes
Single Line Question Option : No Option Orientation : Vertical

Correct Marks : 1 Wrong Marks : 0

वे कंप्यूटर जो इंटरनेट से जुड़े हुए हैं, उन्हें कैसे पहचाना जाता है?

Options :

1. ✔ IP एड्रेस के जरिये
2. ✖ सड़क पते के जरिये
3. ✖ आवासीय पते के माध्यम से
4. ✖ ई-मेल एड्रेस से

Question Number : 34 Question Id : 2012981126 Question Type : MCQ Option Shuffling : Yes Display Question Number : Yes
Single Line Question Option : No Option Orientation : Vertical

Correct Marks : 1 Wrong Marks : 0

Times New Roman, Comic Sans and Calibri are different types of:

Options :

1. ✖ shapes
2. ✖ objects
3. ✔ fonts
4. ✖ variations

Question Number : 34 Question Id : 2012981126 Question Type : MCQ Option Shuffling : Yes Display Question Number : Yes
Single Line Question Option : No Option Orientation : Vertical

Correct Marks : 1 Wrong Marks : 0

टाइम्स न्यू रोमन, कॉमिक सैंस और कैलीबरी _____ के उदाहरण है।

Options :

1. ✖ आकार
2. ✖ वस्तुओं
3. ✔ फॉन्ट
4. ✖ परिवर्तन

Question Number : 35 Question Id : 2012981127 Question Type : MCQ Option Shuffling : Yes Display Question Number : Yes
Single Line Question Option : No Option Orientation : Vertical

Correct Marks : 1 Wrong Marks : 0

Which of the following Excel functions will give you the current date and time?

Options :

1. ✖ Today()
2. ✔ Now()
3. ✖ Day()
4. ✖ Date Time()

Question Number : 35 Question Id : 2012981127 Question Type : MCQ Option Shuffling : Yes Display Question Number : Yes
Single Line Question Option : No Option Orientation : Vertical

Correct Marks : 1 Wrong Marks : 0

निम्न में से कौन सा एक्सेल फ़ंक्शन आपको वर्तमान दिनांक और समय बताएगा?

Options :

1. ✖ Today()
2. ✔ Now()
3. ✖ Day()
4. ✖ Date Time()

Question Number : 36 Question Id : 2012981128 Question Type : MCQ Option Shuffling : Yes Display Question Number : Yes
Single Line Question Option : No Option Orientation : Vertical

Correct Marks : 1 Wrong Marks : 0

To apply or remove underline in MS Excel 2013, press _____ keys together.

Options :

1. ✖ Ctrl + 1
2. ✖ Ctrl + 2
3. ✖ Ctrl + 3
4. ✔ Ctrl + 4

Question Number : 36 Question Id : 2012981128 Question Type : MCQ Option Shuffling : Yes Display Question Number : Yes
Single Line Question Option : No Option Orientation : Vertical

Correct Marks : 1 Wrong Marks : 0

MS Excel 2013 में अंडरलाइन को लागू या निकालने के लिए, एक साथ _____ कुंजी दबाएं।

Options :

1. ✖ Ctrl + 1
2. ✖ Ctrl + 2
3. ✖ Ctrl + 3
4. ✔ Ctrl + 4


Question Number : 37 Question Id : 2012981129 Question Type : MCQ Option Shuffling : Yes Display Question Number : Yes
Single Line Question Option : No Option Orientation : Vertical


Correct Marks : 1 Wrong Marks : 0

What is the key combination to make hidden rows visible within a selection in MS Excel?

Options :

1. ✖ CTRL + PgUp
2. ✖ CTRL + PgDn

3.  CTRL + SHIFT + (

4.  CTRL + SHIFT + &

Question Number : 37 Question Id : 2012981129 Question Type : MCQ Option Shuffling : Yes Display Question Number : Yes
Single Line Question Option : No Option Orientation : Vertical


Correct Marks : 1 Wrong Marks : 0


MS Excel में, चयनित हिस्से में छिपी हुई पंक्ति को प्रकट करने के लिए कुंजी संयोजन क्या है?

Options :

1.  CTRL + PgUp

2.  CTRL + PgDn

3.  CTRL + SHIFT + (

4.  CTRL + SHIFT + &

Question Number : 38 Question Id : 2012981130 Question Type : MCQ Option Shuffling : Yes Display Question Number : Yes
Single Line Question Option : No Option Orientation : Vertical

Correct Marks : 1 Wrong Marks : 0


Which file format is used to save Windows Media Audio?

Options :

1.  mp3

2.  wma

3.  mp4

4.  wma.a

Question Number : 38 Question Id : 2012981130 Question Type : MCQ Option Shuffling : Yes Display Question Number : Yes
Single Line Question Option : No Option Orientation : Vertical

Correct Marks : 1 Wrong Marks : 0


Windows Media Audio को सहेजने के लिए कौन से फ़ाइल फॉर्मेट का उपयोग किया जाता है?

Options :

1.  mp3

2.  wma

3.  mp4

4.  wma.a

Question Number : 39 Question Id : 2012981131 Question Type : MCQ Option Shuffling : Yes Display Question Number : Yes
Single Line Question Option : No Option Orientation : Vertical

Correct Marks : 1 Wrong Marks : 0

What is the key combination to increase font size by 1 point?

Options :

1. ✖ CTRL + [
2. ✔ CTRL +]
3. ✖ CTRL + I
4. ✖ CTRL + +

Question Number : 39 Question Id : 2012981131 Question Type : MCQ Option Shuffling : Yes Display Question Number : Yes
Single Line Question Option : No Option Orientation : Vertical

Correct Marks : 1 Wrong Marks : 0

फॉन्ट का आकार एक पॉइंट बढ़ाने के लिए कुंजी संयोजन क्या है?

Options :

1. ✖ CTRL + [
2. ✔ CTRL +]
3. ✖ CTRL + I
4. ✖ CTRL + +

Question Number : 40 Question Id : 2012981132 Question Type : MCQ Option Shuffling : Yes Display Question Number : Yes
Single Line Question Option : No Option Orientation : Vertical

Correct Marks : 1 Wrong Marks : 0

You can make a hyperlink in Word document by using which of the following tabs?

Options :

1. ✖ Layout
2. ✖ Format
3. ✔ Insert
4. ✖ Design

Question Number : 40 Question Id : 2012981132 Question Type : MCQ Option Shuffling : Yes Display Question Number : Yes
Single Line Question Option : No Option Orientation : Vertical

Correct Marks : 1 Wrong Marks : 0

आप निम्न में से किस टैब का उपयोग कर WORD दस्तावेज़ में हाइपरलिंक बना सकते हैं?

Options :

1. ✖ लेआउट
2. ✖ फॉर्मेट
3. ✔ इन्सर्ट
4. ✖ डिज़ाइन

Question Number : 41 Question Id : 2012981133 Question Type : MCQ Option Shuffling : Yes Display Question Number : Yes
Single Line Question Option : No Option Orientation : Vertical

Correct Marks : 1 Wrong Marks : 0

What is the key combination to select the preceding cell's contents?

Options :

1. ✖ CTRL + M
2. ✔ SHIFT + TAB
3. ✖ CTRL + E
4. ✖ CTRL + J

Question Number : 41 Question Id : 2012981133 Question Type : MCQ Option Shuffling : Yes Display Question Number : Yes
Single Line Question Option : No Option Orientation : Vertical

Correct Marks : 1 Wrong Marks : 0

पिछली सेल की सामग्री का चयन करने के लिए किस कुंजी का उपयोग किया जाता है?

Options :

1. ✖ CTRL + M
2. ✔ SHIFT + TAB
3. ✖ CTRL + E
4. ✖ CTRL + J

Question Number : 42 Question Id : 2012981134 Question Type : MCQ Option Shuffling : Yes Display Question Number : Yes
Single Line Question Option : No Option Orientation : Vertical

Correct Marks : 1 Wrong Marks : 0

Surface wave screen is categorised under which type of monitor?

Options :

1. ✖ Gas plasma display
2. ✖ Liquid crystal display
3. ✔ Touch screen
4. ✖ Resistive screen

Question Number : 42 Question Id : 2012981134 Question Type : MCQ Option Shuffling : Yes Display Question Number : Yes
Single Line Question Option : No Option Orientation : Vertical

Correct Marks : 1 Wrong Marks : 0

सरफेस वेव स्क्रीन किस प्रकार की मॉनिटर के तहत वर्गीकृत है?

Options :

1. ✖ गैस प्लाज्मा डिस्प्ले
2. ✖ लिक्विड क्रिस्टल डिस्प्ले
3. ✔ टच स्क्रीन
4. ✖ रजिस्टिव स्क्रीन

Question Number : 43 Question Id : 2012981135 Question Type : MCQ Option Shuffling : Yes Display Question Number : Yes
Single Line Question Option : No Option Orientation : Vertical

Correct Marks : 1 Wrong Marks : 0

Which technology enables you to convert different types of documents or images captured by a digital camera into editable and searchable data?

Options :

1. ✔ Optical Character Recognition
2. ✖ Optical Code Recognition
3. ✖ OMR
4. ✖ Optical Code Reader

Question Number : 43 Question Id : 2012981135 Question Type : MCQ Option Shuffling : Yes Display Question Number : Yes
Single Line Question Option : No Option Orientation : Vertical

Correct Marks : 1 Wrong Marks : 0

कौन सी तकनीक आपको विभिन्न प्रकार के दस्तावेजों और डिजिटल कैमरे द्वारा कैप्चर किए गए छवि को संपादन योग्य और खोजने योग्य डेटा में परिवर्तित करने में सक्षम बनाती है?

Options :

1. ✔ ऑप्टिकल कैरेक्टर रिकग्निशन

2. ✖ ऑप्टिकल कोड रिकग्निशन

3. ✖ ओएमआर

4. ✖ ऑप्टिकल कोड रीडर

Question Number : 44 Question Id : 2012981136 Question Type : MCQ Option Shuffling : Yes Display Question Number : Yes
Single Line Question Option : No Option Orientation : Vertical

Correct Marks : 1 Wrong Marks : 0

What is the max data transfer rate for IEEE 1394?

Options :

1. ✔ 400-800 MB/S

2. ✖ 100-150 MB/S

3. ✖ 100-250 MB/S

4. ✖ 50-100 MB/S

Question Number : 44 Question Id : 2012981136 Question Type : MCQ Option Shuffling : Yes Display Question Number : Yes
Single Line Question Option : No Option Orientation : Vertical

Correct Marks : 1 Wrong Marks : 0

IEEE 1394 के लिए अधिकतम डेटा स्थानांतरण दर क्या है?

Options :

1. ✔ 400-800 MB/S

2. ✖ 100-150 MB/S

3. ✖ 100-250 MB/S

4. ✖ 50-100 MB/S

Question Number : 45 Question Id : 2012981137 Question Type : MCQ Option Shuffling : Yes Display Question Number : Yes
Single Line Question Option : No Option Orientation : Vertical

Correct Marks : 1 Wrong Marks : 0

Which of the following is a commonly used unit for measuring the speed of data transmission?

Options :

1. ✔ Bits per second

2. ✖ Character per second

3. ✖ Hertz

4. ✖ Nano seconds

Question Number : 45 Question Id : 2012981137 Question Type : MCQ Option Shuffling : Yes Display Question Number : Yes
Single Line Question Option : No Option Orientation : Vertical

Correct Marks : 1 Wrong Marks : 0

डेटा ट्रांसमिशन की गति को मापने के लिए आमतौर पर उपयोग की जाने वाली इकाई क्या है?

Options :

1. ✔ बिट प्रति सेकंड

2. ✖ कैरेक्टर प्रति सेकंड

3. ✖ हर्टज़

4. ✖ नैनो सेकंड्स

Question Number : 46 Question Id : 2012981138 Question Type : MCQ Option Shuffling : Yes Display Question Number : Yes
Single Line Question Option : No Option Orientation : Vertical

Correct Marks : 1 Wrong Marks : 0

A _____ is a communication device that enables computers to communicate via telephone lines or other means.

Options :

1. ✔ Modem card

2. ✖ Network interface card

3. ✖ Data card

4. ✖ Video card

Question Number : 46 Question Id : 2012981138 Question Type : MCQ Option Shuffling : Yes Display Question Number : Yes
Single Line Question Option : No Option Orientation : Vertical

Correct Marks : 1 Wrong Marks : 0

_____ एक संचार उपकरण है जो कंप्यूटर को टेलीफोन लाइनों या अन्य माध्यमों (साधनों) के ज़रिये संवाद करने में सक्षम बनाता है।

Options :

1. ✔ मोडेम कार्ड

2. ✖ नेटवर्क इंटरफेस कार्ड

3. ✖ डेटा कार्ड

4. ✖ वीडियो कार्ड

Question Number : 47 Question Id : 2012981139 Question Type : MCQ Option Shuffling : Yes Display Question Number : Yes
Single Line Question Option : No Option Orientation : Vertical

Correct Marks : 1 Wrong Marks : 0

_____ are sneaky computer programs that can erase your data and even your whole system.

Options :

1. ☒ Computer virus
2. ☐ Spyware
3. ☐ Spy bot
4. ☐ Sniffers

Question Number : 47 Question Id : 2012981139 Question Type : MCQ Option Shuffling : Yes Display Question Number : Yes
Single Line Question Option : No Option Orientation : Vertical

Correct Marks : 1 Wrong Marks : 0

_____ चुपके से कंप्यूटर में प्रवेश करने वाले प्रोग्राम हैं जो आपके डेटा और यहां तक कि आपकी पूरी प्रणाली को नष्ट कर सकते हैं।

Options :

1. ☒ कंप्यूटर वायरस
2. ☐ स्पाइवेयर
3. ☐ स्पाइ बॉट
4. ☐ स्निफर्स

Question Number : 48 Question Id : 2012981140 Question Type : MCQ Option Shuffling : Yes Display Question Number : Yes
Single Line Question Option : No Option Orientation : Vertical

Correct Marks : 1 Wrong Marks : 0

Which of the following verifies the merchant and their payment information?

Options :

1. ☒ Dual signature
2. ☐ Digital certificate
3. ☐ Certificate authority
4. ☐ Certified signature

Question Number : 48 Question Id : 2012981140 Question Type : MCQ Option Shuffling : Yes Display Question Number : Yes
Single Line Question Option : No Option Orientation : Vertical

Correct Marks : 1 Wrong Marks : 0

_____ व्यापारी और उनकी भुगतान जानकारी सुनिश्चित करता है।

Options :

1. ✓ दोहरा हस्ताक्षर (Dual signature)
2. ✗ डिजिटल प्रमाणपत्र (Digital certificate)
3. ✗ प्रमाणपत्र प्राधिकारी (Certificate authority)
4. ✗ प्रमाणित हस्ताक्षर (Certified signature)

Question Number : 49 Question Id : 2012981141 Question Type : MCQ Option Shuffling : Yes Display Question Number : Yes
Single Line Question Option : No Option Orientation : Vertical

Correct Marks : 1 Wrong Marks : 0

_____ can be used when there are two or more data series and where you can point up the contributions to the whole in MS Excel.

Options :

1. ✗ Pie chart
2. ✓ 100% stacked column chart
3. ✗ Line chart
4. ✗ Radar chart

Question Number : 49 Question Id : 2012981141 Question Type : MCQ Option Shuffling : Yes Display Question Number : Yes
Single Line Question Option : No Option Orientation : Vertical

Correct Marks : 1 Wrong Marks : 0

दो अथवा दो से अधिक डेटा श्रृंखला में _____ का प्रयोग किया जा सकता है तथा जहाँ आप MS Excel में संपूर्णतः अंशदान, इंगित कर सकते हैं।

Options :

1. ✗ पाई चार्ट
2. ✓ 100% स्टैक्ड कॉलम चार्ट
3. ✗ लाइन चार्ट
4. ✗ रडार चार्ट

Question Number : 50 Question Id : 2012981142 Question Type : MCQ Option Shuffling : Yes Display Question Number : Yes
Single Line Question Option : No Option Orientation : Vertical

Correct Marks : 1 Wrong Marks : 0

_____ is responsible for converting higher level protocol address to physical network address.

Options :

1. ✖ IP
2. ✔ ARP
3. ✖ ICMP
4. ✖ BOOTP

Question Number : 50 Question Id : 2012981142 Question Type : MCQ Option Shuffling : Yes Display Question Number : Yes
Single Line Question Option : No Option Orientation : Vertical

Correct Marks : 1 Wrong Marks : 0

_____ उच्च स्तर प्रोटोकॉल एड्रेस को भौतिक नेटवर्क एड्रेस में परिवर्तित करने के लिए जिम्मेदार है।

Options :

1. ✖ IP
2. ✔ ARP
3. ✖ ICMP
4. ✖ BOOTP

Question Number : 51 Question Id : 2012981143 Question Type : MCQ Option Shuffling : Yes Display Question Number : Yes
Single Line Question Option : No Option Orientation : Vertical

Correct Marks : 1 Wrong Marks : 0

Out of the following, which option will you use to create a document which looks like newspaper?

Options :

1. ✖ Tables
2. ✖ Bullets and Numbering
3. ✔ Columns
4. ✖ Tab Stops

Question Number : 51 Question Id : 2012981143 Question Type : MCQ Option Shuffling : Yes Display Question Number : Yes
Single Line Question Option : No Option Orientation : Vertical

Correct Marks : 1 Wrong Marks : 0

निम्न में से, अखबार की तरह दिखने वाला दस्तावेज़ बनाने के लिए, आप किस विकल्प का उपयोग करेंगे?

Options :

1. ✖ टेबल

2. ✖ बूलेटस और नंबरिंग

3. ✔ कॉलम

4. ✖ टैब स्टॉप्स

Question Number : 52 Question Id : 2012981144 Question Type : MCQ Option Shuffling : Yes Display Question Number : Yes
Single Line Question Option : No Option Orientation : Vertical

Correct Marks : 1 Wrong Marks : 0

Pivot table is useful for quickly creating unweighted:

Options :

1. ✔ cross tabulations

2. ✖ charts

3. ✖ images

4. ✖ logs

Question Number : 52 Question Id : 2012981144 Question Type : MCQ Option Shuffling : Yes Display Question Number : Yes
Single Line Question Option : No Option Orientation : Vertical

Correct Marks : 1 Wrong Marks : 0

पिवोट टेबल जल्दी से वजन रहित _____ बनाने के लिए उपयोगी है:

Options :

1. ✔ क्रॉस सारणी (क्रॉस टेबलेशन)

2. ✖ चार्ट

3. ✖ छवियाँ

4. ✖ लॉग

READING COMPREHENSION

| | |
|--------------------------------------|-----------|
| Section Id : | 201298100 |
| Section Number : | 2 |
| Section type : | Online |
| Mandatory or Optional: | Mandatory |
| Number of Questions: | 1 |
| Number of Questions to be attempted: | 1 |
| Section Marks: | 5 |
| Display Number Panel: | Yes |
| Group All Questions: | No |

Sub-Section Number: 1
Sub-Section Id: 201298100
Question Shuffling Allowed : Yes

Question Id : 2012981145 Question Type : COMPREHENSION Sub Question Shuffling Allowed : Yes Group Comprehension Questions : No

Question Numbers : (53 to 57)

Question Label : Comprehension

Akbar and Birbal

Emperor Akbar was known for his generosity, good nature and love for the arts. He patronised artists irrespective of their religious background. Akbar wanted to test the artist in Birbal. One day he asked Birbal if he could draw a portrait of the Emperor. Modestly Birbal agreed and drew a reasonably good portrait of Akbar.

Akbar called a few ministers and asked them to review the portrait. The first one saw the picture from various angles and different distances. He took the artist's brush and put a dot at a particular spot.

"Hey, this does not look like the Emperor!" he said.

Another followed suit. He looked at it up and down and majestically put another dot. "Oh, this spot certainly is the one not resembling the Emperor," he declared with authority.

A few other ministers were also waiting for an opportunity to pull Birbal's leg. This was a golden opportunity for each of them. They all put dots here and there.

Emperor Akbar said, "Birbal, how come there are so many dots these people have put on it? But the whole picture looks like me, no doubt!"

"Yes, Your Majesty! I have done a reasonable job. Let me see if these persons can draw a neat one without these blemishes, or at least correct the spot they marked. Kindly call them to do this job," Birbal requested.

When the ministers heard this, they began excusing themselves. "Oh no! The picture was good anyway, but I meant that it could be improved."

"I lost touch with the brush long ago," said another. Each one had some excuse or the other and withdrew from the offer in embarrassment.

Sub questions

Question Number : 53 Question Id : 2012981146 Question Type : MCQ Option Shuffling : Yes Display Question Number : Yes
Single Line Question Option : No Option Orientation : Vertical

Correct Marks : 1 Wrong Marks : 0

Why did Akbar ask Birbal to draw his portrait?

Options :

1. ✖ There were no such portraits.
2. ✔ He wanted to judge Birbal's skill.
3. ✖ He liked getting portraits made.

4. ✖ His other portraits were not good.

Question Number : 54 Question Id : 2012981147 Question Type : MCQ Option Shuffling : Yes Display Question Number : Yes
Single Line Question Option : No Option Orientation : Vertical

Correct Marks : 1 Wrong Marks : 0

What was the first minister's foremost action on being called to review the portrait?

Options :

1. ✖ He took a brush and put a dot on the portrait.
2. ✖ He called the other ministers to praise the work.
3. ✖ He majestically put the brush to the portrait.
4. ✔ He looked at it from all angles and distances.

Question Number : 55 Question Id : 2012981148 Question Type : MCQ Option Shuffling : Yes Display Question Number : Yes
Single Line Question Option : No Option Orientation : Vertical

Correct Marks : 1 Wrong Marks : 0

What was the Emperor's reaction to the ministers' comments?

Options :

1. ✖ Anger
2. ✖ Amusement
3. ✖ Pleasure
4. ✔ Confusion

Question Number : 56 Question Id : 2012981149 Question Type : MCQ Option Shuffling : Yes Display Question Number : Yes
Single Line Question Option : No Option Orientation : Vertical

Correct Marks : 1 Wrong Marks : 0

Who was called to correct the errors in the portrait?

Options :

1. ✖ The best artists
2. ✔ The ministers
3. ✖ Birbal
4. ✖ The Emperor

Question Number : 57 Question Id : 2012981150 Question Type : MCQ Option Shuffling : Yes Display Question Number : Yes
Single Line Question Option : No Option Orientation : Vertical

Correct Marks : 1 Wrong Marks : 0

Which one of the following was NOT one of the responses from the ministers?

Options :

1. ✓ “But the whole picture looks like the Emperor.”
2. ✗ “Oh, this spot certainly is not resembling the Emperor.”
3. ✗ “I lost touch with the brush long ago.”
4. ✗ “I meant that it could be improved.”

Question Id : 2012981145 Question Type : COMPREHENSION Sub Question Shuffling Allowed : Yes Group Comprehension Questions : No

Question Numbers : (53 to 57)

Question Label : Comprehension

सम्राट अकबर अपनी उदारता, अच्छी प्रकृति और कला के प्रति प्यार के लिए जाने जाते थे। उन्होंने धार्मिक पृष्ठभूमि का ध्यान किये बिना कलाकारों को संरक्षित किया। अकबर बीरबल के अंदर के कलाकार का परीक्षण करना चाहते थे। एक दिन उन्होंने बीरबल से पूछा कि क्या वह सम्राट का चित्र बना सकता है? संकोच से बीरबल सहमत हुए और अकबर का एक ठीकठाक सा चित्र बना दिया।

अकबर ने अपने कुछ मंत्रियों को बुलाया और उन्हें चित्र की समीक्षा करने के लिए कहा। पहले व्यक्ति ने विभिन्न कोणों और विभिन्न दूरी से तस्वीर देखी। उन्होंने कलाकार से ब्रश को लिया और एक विशेष स्थान पर एक बिंदु डाला।

"अरे, यह सम्राट की तरह नहीं दिखता है!" उसने कहा।

दूसरे ने भी ऐसा ही किया। उसने चित्र को ऊपर और नीचे देखा और शानदार रूप से एक और बिंदु डाला। "ओह, यह जगह निश्चित रूप से सम्राट जैसी नहीं है," उसने घोषित किया।

कुछ अन्य मंत्री भी बीरबल को नीचा दिखाने का अवसर तलाश रहे थे। यह उनमें से प्रत्येक के लिए एक सुनहरा अवसर था। उन सभी ने यहां-वहां बिंदु डाल दिए।

सम्राट अकबर ने कहा, "बीरबल, इन लोगों ने इतने सारे बिंदु कैसे लगाए हैं? पूरी तस्वीर तो मेरे जैसा ही दिखती है, इसमें कोई संदेह नहीं है!"

"बिलकुल, मेरे आका! मैंने ठीकठाक काम किया है। मुझे देखने दें कि क्या ये लोग इन दोषों के बिना एक साफ-सुथरा चित्र बना सकते हैं, या कम से कम उस स्थान को सही कर सकते हैं जिसे उन्होंने चिह्नित किया है। कृपया उन्हें यह काम करने के लिए बुलाएं," बीरबल ने अनुरोध किया।

जब मंत्रियों ने यह सुना, तो उन्होंने बहाना बनाना शुरू कर दिया।

"अरे नहीं! तस्वीर वैसे भी अच्छी थी, लेकिन मेरा मतलब था कि इसे बेहतर किया जा सकता है।"

एक और ने कहा, "मैंने तो बहुत पहले ब्रश छोड़ दिया था।" प्रत्येक के पास कुछ ना कुछ बहाना था और वे शर्मिंदगी में प्रस्ताव से हट गए।

Correct Marks : 1 Wrong Marks : 0

अकबर ने बीरबल को अपना चित्र बनाने के लिए क्यों कहा?

Options :

1. ✖ ऐसे कोई चित्र नहीं थे।
2. ✔ वह बीरबल के कौशल को परखना चाहते थे।
3. ✖ उन्हें चित्र बनवाना पसंद था।
4. ✖ उनके अन्य चित्र अच्छे नहीं थे।

Correct Marks : 1 Wrong Marks : 0

पहले मंत्री ने चित्र की समीक्षा करने के लिए
बुलाए जाने पर सबसे पहले क्या किया?

Options :

1. ✖ उसने एक ब्रश लिया और चित्र पर एक बिंदु डाला।
2. ✖ उसने अन्य मंत्रियों को चित्र की प्रशंसा करने के लिए बुलाया।
3. ✖ उसने शानदार रूप से ब्रश को चित्र पर रखा।
4. ✔ उसने सभी कोणों और दूरी से चित्र को देखा।

Correct Marks : 1 Wrong Marks : 0

मंत्रियों की टिप्पणियों के बाद सम्राट की प्रतिक्रिया
क्या थी?

Options :

1. ✖ गुस्सा
2. ✖ कौतुक

3. ✖ खुशी

4. ✔ उलझन

Question Number : 56 Question Id : 2012981149 Question Type : MCQ Option Shuffling : Yes Display Question Number : Yes
Single Line Question Option : No Option Orientation : Vertical
Correct Marks : 1 Wrong Marks : 0

चित्र के त्रुटियों को सही करने के लिए किसको बुलाया गया?

Options :

1. ✖ सर्वश्रेष्ठ कलाकारों को

2. ✔ मंत्रियों को

3. ✖ बीरबल को

4. ✖ सम्राट को

Question Number : 57 Question Id : 2012981150 Question Type : MCQ Option Shuffling : Yes Display Question Number : Yes
Single Line Question Option : No Option Orientation : Vertical
Correct Marks : 1 Wrong Marks : 0

निम्नलिखित में से कौन सा कथन मंत्रियों की प्रतिक्रियाओं में से एक नहीं था?

Options :

1. ✔ “लेकिन पूरी तस्वीर सम्राट की तरह दिखती है।”

2. ✖ “ओह, यह बिंदु निश्चित रूप से सम्राट जैसा नहीं है।”

3. ✖ “मैंने तो बहुत पहले ब्रश छोड़ दिया था।”

4. ✖ “मेरा मतलब था कि इसे बेहतर किया जा सकता है।”

QUANTITATIVE APTITUDE

| | |
|--------------------------------------|-----------|
| Section Id : | 201298101 |
| Section Number : | 3 |
| Section type : | Online |
| Mandatory or Optional: | Mandatory |
| Number of Questions: | 6 |
| Number of Questions to be attempted: | 6 |

Section Marks: 6
Display Number Panel: Yes
Group All Questions: No

Sub-Section Number: 1
Sub-Section Id: 201298101
Question Shuffling Allowed : Yes

Question Number : 58 Question Id : 2012981151 Question Type : MCQ Option Shuffling : Yes Display Question Number : Yes
Single Line Question Option : No Option Orientation : Vertical

Correct Marks : 1 Wrong Marks : 0

If the numerator of a fraction is increased by 150% and the denominator of the fraction is increased by 350%, the resultant fraction is $\frac{25}{51}$. What is the original fraction?

Options :

1. ✖ $\frac{11}{17}$

2. ✖ $\frac{11}{15}$

3. ✔ $\frac{15}{17}$

4. ✖ $\frac{13}{15}$

Question Number : 58 Question Id : 2012981151 Question Type : MCQ Option Shuffling : Yes Display Question Number : Yes
Single Line Question Option : No Option Orientation : Vertical

Correct Marks : 1 Wrong Marks : 0

यदि एक भिन्न का अंश 150% और हर 350% बढ़ा दिया जाए तो परिणामी भिन्न $\frac{25}{51}$ है। मूल भिन्न क्या है?

Options :

1. ✖ $\frac{11}{17}$

2. ✖ $\frac{11}{15}$

3. ✔ $\frac{15}{17}$

4. ✖ $\frac{13}{15}$

Question Number : 59 Question Id : 2012981152 Question Type : MCQ Option Shuffling : Yes Display Question Number : Yes
Single Line Question Option : No Option Orientation : Vertical

Correct Marks : 1 Wrong Marks : 0

The perimeter of a square is double the perimeter of a rectangle. The area of the rectangle is 240 cm^2 , what is the area of the square?

Options :

1. ✖ 100 cm^2
2. ✖ 36 cm^2
3. ✖ 81 cm^2
4. ✔ Cannot be determined

Question Number : 59 Question Id : 2012981152 Question Type : MCQ Option Shuffling : Yes Display Question Number : Yes
Single Line Question Option : No Option Orientation : Vertical

Correct Marks : 1 Wrong Marks : 0

एक वर्ग की परिधि एक आयत की परिधि की दोगुनी है। आयत का क्षेत्रफल 240 cm^2 है। वर्ग का क्षेत्रफल क्या है?

Options :

1. ✖ 100 cm^2
2. ✖ 36 cm^2
3. ✖ 81 cm^2
4. ✔ निर्धारित नहीं किया जा सकता है

Question Number : 60 Question Id : 2012981153 Question Type : MCQ Option Shuffling : Yes Display Question Number : Yes
Single Line Question Option : No Option Orientation : Vertical

Correct Marks : 1 Wrong Marks : 0

What should come in place of the question mark (?) in the following number series?

9 19 40 83 ? 345 696

Options :

1. ✖ 162
2. ✔ 170
3. ✖ 175
4. ✖ 166

Question Number : 60 Question Id : 2012981153 Question Type : MCQ Option Shuffling : Yes Display Question Number : Yes
Single Line Question Option : No Option Orientation : Vertical

Correct Marks : 1 Wrong Marks : 0

निम्नलिखित श्रृंखला में प्रश्न चिह्न (?) के स्थान पर कौन सी संख्या आएगी?

9 19 40 83 ? 345 696

Options :

1. ✖ 162

2. ✔ 170

3. ✖ 175

4. ✖ 166

Question Number : 61 Question Id : 2012981154 Question Type : MCQ Option Shuffling : Yes Display Question Number : Yes
Single Line Question Option : No Option Orientation : Vertical

Correct Marks : 1 Wrong Marks : 0

Train A crosses a stationary Train B in 50 seconds and a pole in 20 seconds with the same speed. The length of Train A is 240 m. What is the length of the stationary train B?

Options :

1. ✔ 360 m

2. ✖ 260 m

3. ✖ 300 m

4. ✖ Cannot be determined

Question Number : 61 Question Id : 2012981154 Question Type : MCQ Option Shuffling : Yes Display Question Number : Yes
Single Line Question Option : No Option Orientation : Vertical

Correct Marks : 1 Wrong Marks : 0

ट्रेन 'A' एक ही गति से 50 सेकंड में एक स्थिर ट्रेन 'B' को और 20 सेकंड में एक खंभे को पार करती है। ट्रेन 'A' की लंबाई 240 m है। स्थिर ट्रेन 'B' की लंबाई कितनी है?

Options :

1. ✔ 360 m

2. ✖ 260 m

3. ✖ 300 m

4. ✖ निर्धारित नहीं किया जा सकता है

Question Number : 62 Question Id : 2012981155 Question Type : MCQ Option Shuffling : Yes Display Question Number : Yes
Single Line Question Option : No Option Orientation : Vertical

Correct Marks : 1 Wrong Marks : 0

Calculate the approximate value. (Note: You are NOT expected to calculate the exact value.)

$$(18.001)^3 = ?$$

Options :

1. ☒ 5830

2. ☐ 5500

3. ☐ 6000

4. ☐ 6480

Question Number : 62 Question Id : 2012981155 Question Type : MCQ Option Shuffling : Yes Display Question Number : Yes
Single Line Question Option : No Option Orientation : Vertical

Correct Marks : 1 Wrong Marks : 0

अनुमानित मान ज्ञात करें। (आपको सटीक मान की गणना करने की आवश्यकता नहीं है।)

$$(18.001)^3 = ?$$

Options :

1. ☒ 5830

2. ☐ 5500

3. ☐ 6000

4. ☐ 6480

Question Number : 63 Question Id : 2012981156 Question Type : MCQ Option Shuffling : Yes Display Question Number : Yes
Single Line Question Option : No Option Orientation : Vertical

Correct Marks : 1 Wrong Marks : 0

A 280 m long train moving with an average speed of 108 km/h crosses a platform in 12 seconds. A man crosses the same platform in 10 seconds. What is the speed of the man?

Options :

1. ☐ 5 m/s

2. ☒ 8 m/s

3. ☐ 12 m/s

4. ☐ Cannot be determined

Question Number : 63 Question Id : 2012981156 Question Type : MCQ Option Shuffling : Yes Display Question Number : Yes
Single Line Question Option : No Option Orientation : Vertical

Correct Marks : 1 Wrong Marks : 0

108 km/h की औसत गति से चलने वाली एक 280 m लंबी ट्रेन 12 सेकंड में एक प्लेटफार्म को पार करती है। एक आदमी उसी प्लेटफार्म को 10 सेकंड में पार करता है। आदमी की गति क्या है?

Options :

1. ✖ 5 m/s
2. ✔ 8 m/s
3. ✖ 12 m/s
4. ✖ निर्धारित नहीं किया जा सकता है

GENERAL MENTAL ABILITY AND REASONING

| | |
|--------------------------------------|-----------|
| Section Id : | 201298102 |
| Section Number : | 4 |
| Section type : | Online |
| Mandatory or Optional: | Mandatory |
| Number of Questions: | 6 |
| Number of Questions to be attempted: | 6 |
| Section Marks: | 6 |
| Display Number Panel: | Yes |
| Group All Questions: | No |

| | |
|------------------------------|-----------|
| Sub-Section Number: | 1 |
| Sub-Section Id: | 201298102 |
| Question Shuffling Allowed : | Yes |

Question Number : 64 Question Id : 2012981157 Question Type : MCQ Option Shuffling : Yes Display Question Number : Yes
Single Line Question Option : No Option Orientation : Vertical

Correct Marks : 1 Wrong Marks : 0

Answer the following question based on the arrangement given below:

Y W @ 1 & C N 3 P L B 9 ↑ - D * E 2 £ M V S 7 # 4 F G 5

If (A) denotes the number of symbols immediately preceded by a number, (B) denotes the number of letters immediately followed by a symbol and (C) denotes the number of letters either NOT immediately followed by a number or NOT immediately preceded by a letter, then which of the following is the ascending order of the numbers denoted by (A), (B) and (C)?

Options :

1. ✖ (C), (A), (B)
2. ✖ (C), (B), (A)
3. ✖ (B), (C), (A)

4. ✓ (B), (A), (C)

Question Number : 64 Question Id : 2012981157 Question Type : MCQ Option Shuffling : Yes Display Question Number : Yes
Single Line Question Option : No Option Orientation : Vertical

Correct Marks : 1 Wrong Marks : 0

नीचे दी गई व्यवस्था के आधार पर निम्नलिखित प्रश्न का उत्तर दें:

Y W @ 1 & C N 3 P L B 9 ↑ = D + E 2 £ M V \$ 7 # 4 F G 5

यदि (A) ऐसे प्रतीकों की संख्या को दर्शाता है जिसके तुरंत पहले एक संख्या है, (B) ऐसे अक्षरों की संख्या को दर्शाता है जिसके तुरंत बाद एक प्रतीक है, और (C) ऐसी संख्याओं को दर्शाता है जिनके तुरंत बाद न तो एक संख्या है और न ही तुरंत पहले एक अक्षर है, तो निम्नलिखित में से कौन सा संख्याओं के उस आरोही क्रम को दर्शाता है जो (A), (B) और (C) को निर्दिष्ट करता है?

Options :

1. ✗ (C), (A), (B)

2. ✗ (C), (B), (A)

3. ✗ (B), (C), (A)

4. ✓ (B), (A), (C)

Question Number : 65 Question Id : 2012981158 Question Type : MCQ Option Shuffling : Yes Display Question Number : Yes
Single Line Question Option : No Option Orientation : Vertical

Correct Marks : 1 Wrong Marks : 0

Which of the following words will come second if all of them are arranged alphabetically as in a dictionary?

Options :

1. ✗ Butterfly

2. ✓ Butler

3. ✗ Butcher

4. ✗ Butter

Question Number : 65 Question Id : 2012981158 Question Type : MCQ Option Shuffling : Yes Display Question Number : Yes
Single Line Question Option : No Option Orientation : Vertical

Correct Marks : 1 Wrong Marks : 0

चार शब्द दिये गये हैं। यदि सभी शब्दों को एक शब्दकोश के अनुसार वर्णानुक्रम में व्यवस्थित किया जाता है, तो दूसरे स्थान पर कौन सा शब्द आयेगा?

Options :

1. ✗ Butterfly

2. ✓ Butler

3. ✗ Butcher

4. ✗ Butter

Question Number : 66 Question Id : 2012981159 Question Type : MCQ Option Shuffling : Yes Display Question Number : Yes
Single Line Question Option : No Option Orientation : Vertical

Correct Marks : 1 Wrong Marks : 0

How many such pairs of letters are there in the given word each of which has as many letters between them in the word as in the English alphabet?

CREATIVE

Options :

1. ✗ One

2. ✗ Two

3. ✓ Three

4. ✗ Four

Question Number : 66 Question Id : 2012981159 Question Type : MCQ Option Shuffling : Yes Display Question Number : Yes
Single Line Question Option : No Option Orientation : Vertical

Correct Marks : 1 Wrong Marks : 0

दिये गये शब्द में अक्षरों के ऐसे कितने जोड़े हैं, जिनमें से प्रत्येक के बीच उतने ही अक्षर हैं जितने अंग्रेजी वर्णमाला में उनके बीच हैं?

CREATIVE

Options :

1. ✗ एक

2. ✗ दो

3. ✓ तीन

4. ✗ चार

Question Number : 67 Question Id : 2012981160 Question Type : MCQ Option Shuffling : Yes Display Question Number : Yes
Single Line Question Option : No Option Orientation : Vertical

Correct Marks : 1 Wrong Marks : 0

The following question consists of two words that have a certain relationship to each other. Select that pair from the options that has the same relationship as the original pair of words.

Marathon : Stamina

Options :

1. ✖ Relay : Independence
2. ✖ Jog : Weariness
3. ✔ Sprint : Celerity
4. ✖ Hurdle : Perseverance

Question Number : 67 Question Id : 2012981160 Question Type : MCQ Option Shuffling : Yes Display Question Number : Yes
Single Line Question Option : No Option Orientation : Vertical

Correct Marks : 1 Wrong Marks : 0

निम्नलिखित प्रश्न में दो शब्द हैं जिनका एक-दूसरे के साथ एक निश्चित संबंध है। विकल्पों में से उस युग्म का चयन करें जिसमें शब्द उसी प्रकार से आपस में संबंधित हैं जिस प्रकार मूल शब्दों के युग्म आपस में संबंधित हैं।

मैराथन : ताकत

Options :

1. ✖ रिले : स्वतंत्रता
2. ✖ जॉग : शिथिलता
3. ✔ स्प्रिंट : फुर्ती
4. ✖ हर्डल : धीरज

Question Number : 68 Question Id : 2012981161 Question Type : MCQ Option Shuffling : Yes Display Question Number : Yes
Single Line Question Option : No Option Orientation : Vertical

Correct Marks : 1 Wrong Marks : 0

For the following pair, find two words, that will come in place of I and II, related to the words already given – one word for each of two related pairs.

I : Inert :: Active : II

(1) Static (2) Statics (3) Helium (4) Air

(A) Gymnast (B) Dynamic (C) Participation (D) Smart

Options :

1. ✔ 1 and B
2. ✖ 2 and A
3. ✖ 3 and C
4. ✖ 4 and D

Question Number : 68 Question Id : 2012981161 Question Type : MCQ Option Shuffling : Yes Display Question Number : Yes
Single Line Question Option : No Option Orientation : Vertical

Correct Marks : 1 Wrong Marks : 0

निम्नलिखित युग्मों में, पहले से दिए गए शब्दों से संबंधित दो शब्द खोजें जो I और II के स्थान पर आयेंगे - दो संबंधित युग्मों में से प्रत्येक के लिए एक शब्द।

I : Inert :: Active : II

- (1) Static (2) Statics (3) Helium (4) Air
(A) Gymnast (B) Dynamic (C) Participation (D) Smart

Options :

1. ✓ 1 और B

2. ✗ 2 और A

3. ✗ 3 और C

4. ✗ 4 और D

Question Number : 69 Question Id : 2012981162 Question Type : MCQ Option Shuffling : Yes Display Question Number : Yes
Single Line Question Option : No Option Orientation : Vertical

Correct Marks : 1 Wrong Marks : 0

A group of three inter-related words are given. Choose a word from the given alternatives that is similar to the given words and hence belongs to the same group.

Marble : Slate : Gneiss

Options :

1. ✓ Quartzite

2. ✗ Limestone

3. ✗ Coal

4. ✗ Sandstone

Question Number : 69 Question Id : 2012981162 Question Type : MCQ Option Shuffling : Yes Display Question Number : Yes
Single Line Question Option : No Option Orientation : Vertical

Correct Marks : 1 Wrong Marks : 0

तीन अंतर-संबंधित शब्दों का एक समूह दिया गया है। विकल्पों से दिए गए शब्दों के समान एक शब्द चुनें जो कि उसी समूह से संबंधित है।

संगमरमर : स्लेट : शैल : ?

Options :

1. ✓ क्वार्टजाइट

2. ✖ चूना पत्थर

3. ✖ कोयला

4. ✖ बलुआ पत्थर

GENERAL AWARENESS

| | |
|--------------------------------------|-----------|
| Section Id : | 201298103 |
| Section Number : | 5 |
| Section type : | Online |
| Mandatory or Optional: | Mandatory |
| Number of Questions: | 6 |
| Number of Questions to be attempted: | 6 |
| Section Marks: | 6 |
| Display Number Panel: | Yes |
| Group All Questions: | No |

| | |
|------------------------------|-----------|
| Sub-Section Number: | 1 |
| Sub-Section Id: | 201298103 |
| Question Shuffling Allowed : | Yes |

Question Number : 70 Question Id : 2012981163 Question Type : MCQ Option Shuffling : Yes Display Question Number : Yes
Single Line Question Option : No Option Orientation : Vertical
Correct Marks : 1 Wrong Marks : 0

The first Hindu-American to enter in the US House of Representatives as a senator is:

Options :

1. ✔ Tulsi Gabbard

2. ✖ Sunita Williams

3. ✖ Jyoti Sengupta

4. ✖ Ami Bera

Question Number : 70 Question Id : 2012981163 Question Type : MCQ Option Shuffling : Yes Display Question Number : Yes
Single Line Question Option : No Option Orientation : Vertical
Correct Marks : 1 Wrong Marks : 0

सेनेटर के रूप में यूएस हाउस ऑफ रिप्रेजेंटेटिव में प्रवेश करने वाली पहली हिंदू-अमेरिकी हैं:

Options :

1. ✔ तुलसी गैबार्ड

2. ✖ सुनीता विलियम्स

3. ✖ ज्योति सेनगुप्ता

4. ✖ अमी बेरा

Question Number : 71 Question Id : 2012981164 Question Type : MCQ Option Shuffling : Yes Display Question Number : Yes
Single Line Question Option : No Option Orientation : Vertical

Correct Marks : 1 Wrong Marks : 0

Given below are two statements labelled as Assertion (A) and Reason (R).

Mark your answer as per the codes provided below:

Assertion (A): Graben is a major relief feature resulting from the faulting activities. It is, in fact, a valley or narrow trough bounded by one more parallel faults.

Reason (R): Block of the earth's crust may be relatively raised or lowered between more or less parallel faults. The lower part known as graben is formed due to the subsidence of middle part between two normal faults.

Options :

1. ✔ Both A and R are individually true and R is the correct explanation of A.
2. ✖ Both A and R are individually true but R is not the correct explanation of A.
3. ✖ A is true but R is false.
4. ✖ A is false but R is true.

Question Number : 71 Question Id : 2012981164 Question Type : MCQ Option Shuffling : Yes Display Question Number : Yes
Single Line Question Option : No Option Orientation : Vertical

Correct Marks : 1 Wrong Marks : 0

नीचे कथन (A) और कारण (R) के रूप में लेबल किए गए दो वाक्य हैं।

नीचे दिए गए कोड के अनुसार अपना उत्तर चिह्नित करें।

कथन (A): ग्रेबन, फाल्ट गतिविधियों के परिणामस्वरूप एक प्रमुख राहत व्यवस्था है, वास्तव में, एक घाटी या संकीर्ण गड्ढा एक और समानांतर फाल्ट से घिरा हुआ है।

कारण (R): पृथ्वी की परत का ब्लॉक कम या अधिक समानांतर फाल्ट के बीच अपेक्षाकृत उठाया या गिराया जा सकता है, जिसमें निचले भाग को ग्रेबन कहा जाता है जो दो सामान्य फाल्ट के बीच मध्य भाग की कमी के कारण बनता है।

Options :

1. ✔ A और R दोनों सत्य हैं और R, A के सही स्पष्टीकरण हैं
2. ✖ A और आर दोनों सत्य हैं और R, A के सही स्पष्टीकरण नहीं हैं
3. ✖ A सत्य है लेकिन R असत्य है

4. ✖ A असत्य है लेकिन R सत्य है

Question Number : 72 Question Id : 2012981165 Question Type : MCQ Option Shuffling : Yes Display Question Number : Yes
Single Line Question Option : No Option Orientation : Vertical

Correct Marks : 1 Wrong Marks : 0

Which of the following rate is NOT decided by the Reserve Bank of India?

Options :

1. ✖ Bank Rate
2. ✖ Repo Rate
3. ✖ Reverse Repo Rate
4. ✔ Income Tax Rates

Question Number : 72 Question Id : 2012981165 Question Type : MCQ Option Shuffling : Yes Display Question Number : Yes
Single Line Question Option : No Option Orientation : Vertical

Correct Marks : 1 Wrong Marks : 0

भारतीय रिजर्व बैंक द्वारा निम्नलिखित में से कौन सी दर तय नहीं की जाती है?

Options :

1. ✖ बैंक दर
2. ✖ रेपो दर
3. ✖ रिवर्स रेपो दर
4. ✔ आयकर दर

Question Number : 73 Question Id : 2012981166 Question Type : MCQ Option Shuffling : Yes Display Question Number : Yes
Single Line Question Option : No Option Orientation : Vertical

Correct Marks : 1 Wrong Marks : 0

Ligament connects _____.

Options :

1. ✖ muscles to bone
2. ✔ bone to bone
3. ✖ nerve to bone
4. ✖ muscles to skin

Question Number : 73 Question Id : 2012981166 Question Type : MCQ Option Shuffling : Yes Display Question Number : Yes
Single Line Question Option : No Option Orientation : Vertical

Correct Marks : 1 Wrong Marks : 0

लिगामेंट _____ को जोड़ता है।

Options :

1. ✖ हड्डी से मांसपेशियों
2. ✔ हड्डी से हड्डी
3. ✖ हड्डी से तंत्रिका
4. ✖ त्वचा से मांसपेशियों

Question Number : 74 Question Id : 2012981167 Question Type : MCQ Option Shuffling : Yes Display Question Number : Yes
Single Line Question Option : No Option Orientation : Vertical

Correct Marks : 1 Wrong Marks : 0

Who painted the masterpiece 'Hamsa Damayanti'?

Options :

1. ✖ Ajolie Ela Menon
2. ✖ Rabindranath Tagore
3. ✖ Amrita Sher-Gil
4. ✔ Raja Ravi Varma

Question Number : 74 Question Id : 2012981167 Question Type : MCQ Option Shuffling : Yes Display Question Number : Yes
Single Line Question Option : No Option Orientation : Vertical

Correct Marks : 1 Wrong Marks : 0

'हंस दमयंती' की कृति को किसने चित्रित किया था?

Options :

1. ✖ अजॉली एला मेनन
2. ✖ रविंद्रनाथ टैगोर
3. ✖ अमृता शेर-गिल
4. ✔ राजा रवि वर्मा

Question Number : 75 Question Id : 2012981168 Question Type : MCQ Option Shuffling : Yes Display Question Number : Yes
Single Line Question Option : No Option Orientation : Vertical

Correct Marks : 1 Wrong Marks : 0

Match List-I and List-II to select the correct answer using the code given below the lists:

| List-I (Acts) | List-II (Purpose) |
|----------------------------------|------------------------|
| A. Government of India Act, 1919 | 1.Provincial autonomy |
| B. Government of India Act, 1935 | 2.Separate electorates |
| C. Morley-Minto Reforms | 3.Partition of India |
| D. Mountbatten Plan | 4.Dyarchy |

Options :

- ✖ A-2, B-1, C-4, D-3
- ✖ A-4, B-3, C-2, D-1
- ✖ A-2, B-3, C-4, D-1
- ✔ A-4, B-1, C-2, D-3

Question Number : 75 Question Id : 2012981168 Question Type : MCQ Option Shuffling : Yes Display Question Number : Yes
Single Line Question Option : No Option Orientation : Vertical

Correct Marks : 1 Wrong Marks : 0

सूची-I का सूची-II से मिलान करें और सूची के नीचे दिए गए कोड का उपयोग करके सही उत्तर का चयन करें:

| सूची-I (अधिनियम) | सूची-II (उद्देश्य) |
|-----------------------------|------------------------|
| A. भारत सरकार अधिनियम, 1919 | 1. प्रांतीयस्वायत्तता |
| B. भारत सरकार अधिनियम, 1935 | 2. पृथक निर्वाचन मण्डल |
| C. मॉर्ले-मिंटो सुधार | 3. भारत का विभाजन |
| D. माउंटबेटन प्लान | 4. द्विशासन |

Options :

- ✖ A-2, B-1, C-4, D-3
- ✖ A-4, B-3, C-2, D-1
- ✖ A-2, B-3, C-4, D-1
- ✔ A-4, B-1, C-2, D-3

Mock

Group Number : 2
Group Id : 20129844
Group Maximum Duration : 5
Group Minimum Duration : 5
Revisit allowed for view? : No
Revisit allowed for edit? : No
Break time: 1

| | |
|------------------------------|-----|
| Mandatory Break time: | Yes |
| Group Marks: | 0 |

English typing test

| | |
|---|-------------|
| Section Id : | 201298104 |
| Section Number : | 1 |
| Section type : | Typing Test |
| Mandatory or Optional: | Mandatory |
| Number of Questions: | 1 |
| Number of Questions to be attempted: | 1 |
| Section Marks: | 0 |
| Display Number Panel: | Yes |
| Group All Questions: | No |

| | |
|-------------------------------------|-----------|
| Sub-Section Number: | 1 |
| Sub-Section Id: | 201298104 |
| Question Shuffling Allowed : | No |

Question Number : 76 Question Id : 2012981169 Question Type : TYPING TEST Display Question Number : Yes

The power of concentration manifests as focused attention and as a one pointed mind. When you focus your mind on something, you conserve your energies and do not dissipate them on irrelevant thoughts. This is why, developing concentration is vital for anyone, who is aspiring to be more efficient in life. Without it, your efforts get cattered, but with it, you can accomplish great things. Concentration has many uses and benefits. It assists in studying, enables faster comprehension, improves the memory and helps in focusing on a task. Therefore, it can be rightly referred to as a powerful tool that helps you use creative visualization and develop psychic powers. When this ability is strong, the mind obeys you more readily and does not engage in futile or negative thoughts. This ability plays an important role in meditation, gaining mental mastery, and attaining peace of mind. A person, who does not concentrate or meditate often, finds himself irritated, restless and annoyed. Such a person is often found to be occupied with restless thoughts claim his attention constantly, thereby wasting his time and energy on useless matters. These thoughts actually rule their life. They become so used to such conditions that they regard it as natural. However, it is one of the most dangerous situations that a human being can encounter in his life. So, develop this power. You only need to train and exercise it. Forget all your excuses about not having the time or being too busy. Do not say that the circumstances are not appropriate, or that you cannot find a quiet place to exercise. With a little planning, desire and motivation, you can always find the time to exercise each day, no matter how busy you are. Just make sure that you do not inner resistance to concentration. For example, telling a child often, that he or she is not concentrating well enough, creates a subconscious aversion to concentration and study. These become associated with coercion, lack of freedom, and doing something they do not like to do. Hence, when children grow up, it is no wonder that their power of concentration is too weak. One needs to understand that concentration can be a real fun, if approached in the right way. It should be practiced with joy, positive attitude, optimism, and understanding of its great possibilities. Once you understand the importance and benefits of developing the power of concentration, you will certainly grow as a mature human being. Some of the major benefits include, complete control on your thoughts, ability to focus your mind, freedom from futile and annoying thoughts, better memory, peace of mind, improved self-confidence, inner strength, inner happiness, more powerful and efficient use of creative visualization, deeper and more successful meditation.

Restricted/ Unrestricted: Unrestricted

Paragraph Display: Yes

Evaluation Mode: Non Standard

Keyboard Layout: Inscript

Show Details Panel: Yes

Show Error Count: Yes

Highlight Correct or Incorrect Words: Yes

Allow Back Space: Yes

Show Back Space Count: Yes

Actual

| | |
|------------------------------------|----------|
| Group Number : | 3 |
| Group Id : | 20129845 |
| Group Maximum Duration : | 20 |
| Group Minimum Duration : | 20 |
| Revisit allowed for view? : | No |
| Revisit allowed for edit? : | No |
| Break time: | 0 |
| Group Marks: | 0 |

English typing test

| | |
|---|-------------|
| Section Id : | 201298105 |
| Section Number : | 1 |
| Section type : | Typing Test |
| Mandatory or Optional: | Mandatory |
| Number of Questions: | 1 |
| Number of Questions to be attempted: | 1 |
| Section Marks: | 0 |
| Display Number Panel: | Yes |
| Group All Questions: | No |

| | |
|-------------------------------------|-----------|
| Sub-Section Number: | 1 |
| Sub-Section Id: | 201298105 |
| Question Shuffling Allowed : | No |

Question Number : 77 Question Id : 2012981170 Question Type : TYPING TEST Display Question Number : Yes

Trekking and mountain climbing had always fascinated me. However, I did not know it was so amazing until I finally experienced it. I went for the Deoriatal to Chandrashila peak trek with two of my close friends and a group of complete strangers whom we soon befriended. Chandrashila peak trek is considered ideal for the beginners. The travel group that had arranged for this sport had given us prior information about the kind of weather and atmosphere we should expect, the kind of clothes to carry and other equipment that should form a part of our travel bags. We were extremely excited about experiencing this new adventure sport and packed all the stuff carefully. We reached the Sari village from our hometown, Haridwar. It took around ten hours to reach this village that was our base camp. We spent a night there and started our mountaineering experience early the next morning. Before starting with this adventure sport, we were explained about its nitty gritty. Our trek leader and his team were quite experienced. Our trek leader led us, while one of his team members moved in the middle and the other at the end of our group to ensure proper guidance and security. We were given trekking poles and taught how to use them. We began trekking from Sari to Deoriatal. The way was difficult and we would have slipped off and on had it not been for the trekking poles. The view on the way was amazing. We saw a variety of colourful birds flying freely in the sky. We also had an amazing view of the Kedarnath range. We reached Deoriatal in around four hours and stayed there for the day. The next morning we trekked from Deoriatal to Rohini Bugyal. It was a windy day and thus it became very chilly. We trekked through the forests and witnessed lush greenery all around. It was an eight km long trek. It was the month of December and the trek was all covered with snow. We were all tired on reaching Rohini Bugyal. We had our lunch, took some rest and roamed around to view the scenic beauty. On the third day we trekked from Rohini Bugyal to Chopta. It was a six km long trek covered with dry leaves and snow. We saw a beautiful waterfall on the way and sat by its side for some time. On day four, we trekked from Chopta to Tungnath to Chandrashila and back. This was the most challenging route. The trek from Tungnath to Chandrashila was especially very steep and scary. We stood on the Chandrashila peak for a while to see the picturesque view and clicked several pictures. It was pure bliss and a great experience.

Restricted/ Unrestricted: Unrestricted

Paragraph Display: Yes

Evaluation Mode: Non Standard

Keyboard Layout: Inscript

Show Details Panel: Yes

Show Error Count: Yes

Highlight Correct or Incorrect Words: Yes

Allow Back Space: Yes

Show Back Space Count: Yes