



Computer Proficiency Certification Test

Notations :

- Options shown in green color and with  icon are correct.
- Options shown in red color and with  icon are incorrect.

Question Paper Name :	ComputerProficiencyCertificationTest 11th Jul 2025 Shift1 QP1
Subject Name :	Computer Proficiency Certification Test
Creation Date :	2025-07-11 12:12:38
Duration :	120
Total Marks :	75
Display Marks:	Yes
Share Answer Key With Delivery Engine :	Yes
Actual Answer Key :	Yes
Change Font Color :	No
Change Background Color :	No
Change Theme :	No
Help Button :	No
Show Reports :	No
Show Progress Bar :	No

CPCT

Group Number :	1
Group Id :	2549895562
Group Maximum Duration :	75
Group Minimum Duration :	75
Show Attended Group? :	No
Edit Attended Group? :	No
Break time :	1
Mandatory Break time :	Yes
Group Marks :	75

COMPUTER PROFICIENCY AND PROFICIENCY IN GENERAL IT SKILLS AND NETWORKING

Section Id :	2549898920
Section Number :	1
Section type :	Online
Mandatory or Optional :	Mandatory
Number of Questions :	52
Number of Questions to be attempted :	52
Section Marks :	52
Display Number Panel :	Yes
Maximum Instruction Time :	0
Sub-Section Number :	1
Sub-Section Id :	2549898961
Question Shuffling Allowed :	Yes

Question Number : 1 Question Id : 2549896961 Question Type : MCQ Option Shuffling : Yes Display Question Number : Yes Correct Marks : 1 Wrong Marks : 0

CPU is an abbreviation for:

Options :

1. ❌ Central Programming Unit
2. ✔️ Central Processing Unit
3. ❌ Computer Processing Unit
4. ❌ Computer Protocol Unit

Question Number : 1 Question Id : 2549896961 Question Type : MCQ Option Shuffling : Yes Display Question Number : Yes Correct Marks : 1 Wrong Marks : 0

CPU का पूर्ण रूप क्या है?

Options :

1. ❌ Central Programming Unit (सेंट्रल प्रोग्रामिंग यूनिट)
2. ✔️ Central Processing Unit (सेंट्रल प्रोसेसिंग यूनिट)
3. ❌ Computer Processing Unit (कंप्यूटर प्रोसेसिंग यूनिट)
4. ❌ Computer Protocol Unit (कंप्यूटर प्रोटोकॉल यूनिट)

Question Number : 2 Question Id : 2549896963 Question Type : MCQ Option Shuffling : Yes Display Question Number : Yes Correct Marks : 1 Wrong Marks : 0

Which of the following is an example of freeware?

Options :

1. ✔️ Adobe PDF
2. ❌ Mozilla's Firefox web browser
3. ❌ PHP
4. ❌ Perl

Question Number : 2 Question Id : 2549896963 Question Type : MCQ Option Shuffling : Yes Display Question Number : Yes Correct Marks : 1 Wrong Marks : 0

निम्न में से कौन-सा फ्रीवेयर (freeware) का एक उदाहरण है?

Options :

1. ✔️ Adobe PDF
2. ❌ Mozilla's Firefox web browser
3. ❌ PHP
4. ❌ Perl

Question Number : 3 Question Id : 2549897032 Question Type : MCQ Option Shuffling : Yes Display Question Number : Yes Correct Marks : 1 Wrong Marks : 0

A _____ is a design tool that graphically shows the logic in a solution.

Options :

1. ✔️ flowchart
2. ❌ hierarchy chart
3. ❌ structure chart
4. ❌ context diagram

Question Number : 3 Question Id : 2549897032 Question Type : MCQ Option Shuffling : Yes Display Question Number : Yes
Correct Marks : 1 Wrong Marks : 0

_____ एक डिज़ाइन टूल है, जो एक सॉल्यूशन में लॉजिक को ग्राफिकल रूप में प्रदर्शित करता है।

Options :

1. फ्लो चार्ट
2. हायरार्की चार्ट
3. स्ट्रक्चर चार्ट
4. कॉन्टेक्ट डायग्राम

Question Number : 4 Question Id : 2549898330 Question Type : MCQ Option Shuffling : Yes Display Question Number : Yes
Correct Marks : 1 Wrong Marks : 0

Which of the following is an example of Proprietary Software?

Options :

1. Libre Office
2. MacOS
3. Linux
4. PHP

Question Number : 4 Question Id : 2549898330 Question Type : MCQ Option Shuffling : Yes Display Question Number : Yes
Correct Marks : 1 Wrong Marks : 0

निम्नलिखित में से कौन-सा प्रोप्राइटरी सॉफ्टवेयर का एक उदाहरण है?

Options :

1. Libre Office
2. MacOS
3. Linux
4. PHP

Question Number : 5 Question Id : 2549898713 Question Type : MCQ Option Shuffling : Yes Display Question Number : Yes
Correct Marks : 1 Wrong Marks : 0

Abacus, Pascaline, Analytical Engine are examples of _____.

Options :

1. Oldest computing devices
2. Search engines
3. Web browsers
4. Protocols

Question Number : 5 Question Id : 2549898713 Question Type : MCQ Option Shuffling : Yes Display Question Number : Yes
Correct Marks : 1 Wrong Marks : 0

अबेकस, पास्कलाइन, एनालिटिकल इंजन _____ के उदाहरण है।

Options :

1. सबसे पुराने कम्प्यूटिंग उपकरणों
2. सर्च इंजन
3. वेब ब्राउज़र
4. प्रोटोकॉल

Question Number : 6 Question Id : 2549899358 Question Type : MCQ Option Shuffling : Yes Display Question Number : Yes Correct Marks : 1 Wrong Marks : 0

Which of the following groups consists of only input devices?

Options :

- Mouse, Keyboard and Monitor
- Mouse, Keyboard and Printer
- Mouse, Keyboard and Plotter
- Mouse, Keyboard and Scanner

Question Number : 6 Question Id : 2549899358 Question Type : MCQ Option Shuffling : Yes Display Question Number : Yes Correct Marks : 1 Wrong Marks : 0

निम्न में से किस विकल्प-समूह में केवल इनपुट डिवाइस शामिल हैं?

Options :

- माउस, की-बोर्ड और मॉनिटर
- माउस, की-बोर्ड और प्रिंटर
- माउस, की-बोर्ड और प्लॉटर
- माउस, की-बोर्ड और स्कैनर

Question Number : 7 Question Id : 25498911580 Question Type : MCQ Option Shuffling : Yes Display Question Number : Yes

Correct Marks : 1 Wrong Marks : 0

Printed information is called _____, which exists physically and is a more permanent form of output than that presented on a display device.

Options :

- soft copy
- blind copy
- hard copy
- desk copy

Question Number : 7 Question Id : 25498911580 Question Type : MCQ Option Shuffling : Yes Display Question Number : Yes

Correct Marks : 1 Wrong Marks : 0

मुद्रित जानकारी _____ कहलाती है, जो भौतिक रूप से मौजूद होती है और डिस्पले डिवाइस पर प्रस्तुत करने की तुलना में आउटपुट का एक स्थायी रूप होता है।

Options :

- सॉफ्ट कॉपी
- ब्लाइंड कॉपी
- हार्ड कॉपी
- डेस्क कॉपी

Question Number : 8 Question Id : 25498922570 Question Type : MCQ Option Shuffling : Yes Display Question Number : Yes

Correct Marks : 1 Wrong Marks : 0

Which of the following is not a feature of system software?

Options :

- It is written in a low-level language
- It requires more storage space
- It is complex to understand
- It is present near hardware components

Question Number : 8 Question Id : 25498922570 Question Type : MCQ Option Shuffling : Yes Display Question Number : Yes

Correct Marks : 1 Wrong Marks : 0

निम्नलिखित में से कौन-सा सिस्टम सॉफ्टवेयर की विशेषता नहीं है?

Options :

1. ✖ यह एक निम्न-स्तरीय भाषा में लिखा जाता है
2. ✔ इसके लिए अधिक भंडारण स्थान की आवश्यकता होती है
3. ✖ यह समझने के लिए जटिल होता है
4. ✖ यह हार्डवेयर घटकों के पास मौजूद होता है

Question Number : 9 Question Id : 25498929864 Question Type : MCQ Option Shuffling : Yes Display Question Number : Yes

Correct Marks : 1 Wrong Marks : 0

Which of the following barcode types can hold as much as 7,000 digits or 4,000 characters of text, and can be deployed in healthcare facilities to monitor medication?

Options :

1. ✖ Bookland
2. ✖ Interleaved 2 of 5
3. ✖ CODE 128
4. ✔ QR Code

Question Number : 9 Question Id : 25498929864 Question Type : MCQ Option Shuffling : Yes Display Question Number : Yes

Correct Marks : 1 Wrong Marks : 0

निम्नलिखित में से कौन-से बारकोड प्रकार टेक्स्ट के 7,000 अंकों या 4,000 कैरक्टर को होल्ड कर सकते हैं, और इसको अस्पतालों में दवाओं की निगरानी के लिए काम में लिया जाता है?

Options :

1. ✖ Bookland
2. ✖ Interleaved 2 of 5
3. ✖ CODE 128
4. ✔ QR Code

Question Number : 10 Question Id : 25498930314 Question Type : MCQ Option Shuffling : Yes Display Question Number : Yes

Correct Marks : 1 Wrong Marks : 0

_____ is a media format design that supersedes the DVD format.

Options :

1. ✔ Blu-Ray
2. ✖ CD
3. ✖ Floppy Disk
4. ✖ Hard Disk

Question Number : 10 Question Id : 25498930314 Question Type : MCQ Option Shuffling : Yes Display Question Number : Yes

Correct Marks : 1 Wrong Marks : 0

_____ एक मीडिया प्रारूप डिज़ाइन है जिसने DVD प्रारूप का स्थान लिया।

Options :

1. ✔ ब्लू-रे
2. ✖ CD
3. ✖ फ्लॉपी डिस्क
4. ✖ हार्ड डिस्क

Question Number : 11 Question Id : 25498930725 Question Type : MCQ Option Shuffling : Yes Display Question Number : Yes

Correct Marks : 1 Wrong Marks : 0

Which of the following is not an example of a web application?

Options :

1. MS-Office
2. WhatsApp
3. GMail
4. Outlook

Question Number : 11 Question Id : 25498930725 Question Type : MCQ Option Shuffling : Yes Display Question Number : Yes

Correct Marks : 1 Wrong Marks : 0

निम्नलिखित में से कौन-सा वेब एप्लिकेशन का उदाहरण नहीं है?

Options :

1. एमएस-ऑफिस
2. व्हाट्सएप
3. जीमेल
4. आउटलुक

Question Number : 12 Question Id : 25498930902 Question Type : MCQ Option Shuffling : Yes Display Question Number : Yes

Correct Marks : 1 Wrong Marks : 0

Which of the following is FALSE with reference to flatbed plotters?

Options :

1. Flatbed plotter uses a table-like surface to draw images.
2. It is used to draw images with almost unlimited length.
3. A mechanical arm is used to hold pens.
4. The movement of pens depends on the software instructions.

Question Number : 12 Question Id : 25498930902 Question Type : MCQ Option Shuffling : Yes Display Question Number : Yes

Correct Marks : 1 Wrong Marks : 0

फ्लैटबेड प्लॉटर के संबंध में निम्नलिखित में से कौन-सा कथन गलत है?

Options :

1. फ्लैटबेड प्लॉटर में छवियों के मुद्रण के लिए मेज के समान तल का उपयोग किया जाता है
2. इसका उपयोग प्रायः असीमित लंबाई वाले चित्रों के मुद्रण के लिए होता है
3. इसमें पेनों को संभालने के लिए एक यांत्रिक भुजा का उपयोग किया जाता है
4. इसके पेनों की गति सॉफ्टवेयर द्वारा दिए जाने वाले निर्देश पर निर्भर करती है

Question Number : 13 Question Id : 25498930925 Question Type : MCQ Option Shuffling : Yes Display Question Number : Yes

Correct Marks : 1 Wrong Marks : 0

In which of the following plotters, the images are produced on paper by using raster graphics rather than vector graphics?

Options :

1. Pen
2. Electrostatic
3. Inkjet
4. Cutting

Question Number : 13 Question Id : 25498930925 Question Type : MCQ Option Shuffling : Yes Display Question Number : Yes

Correct Marks : 1 Wrong Marks : 0

निम्नलिखित में से किस प्लॉटर में वेक्टर ग्राफिक्स के बजाय रैस्टर (Raster) ग्राफिक्स का उपयोग करके छवियों को कागज पर निर्मित किया जाता है?

Options :

1. ✖ पेन
2. ✔ इलेक्ट्रोस्टैटिक
3. ✖ इंकजेट
4. ✖ कटिंग

Question Number : 14 Question Id : 25498931015 Question Type : MCQ Option Shuffling : Yes Display Question Number : Yes

Correct Marks : 1 Wrong Marks : 0

Identify whether the following statements are TRUE or FALSE.

- i) C++ is partially object-oriented programming language
- ii) Java language was developed by Microsoft

Options :

1. ✖ i) TRUE ii) TRUE
2. ✔ i) TRUE ii) FALSE
3. ✖ i) FALSE ii) FALSE
4. ✖ i) FALSE ii) TRUE

Question Number : 14 Question Id : 25498931015 Question Type : MCQ Option Shuffling : Yes Display Question Number : Yes

Correct Marks : 1 Wrong Marks : 0

निम्नलिखित में से सही और गलत कथनों का निर्धारण कीजिए।

- i) C++ आंशिक रूप से ऑब्जेक्ट ओरिएंटेड प्रोग्रामिंग लैंग्वेज है।
- ii) जावा लैंग्वेज को माइक्रोसॉफ्ट द्वारा विकसित किया गया था।

Options :

1. ✖ i) सही ii) सही
2. ✔ i) सही ii) गलत
3. ✖ i) गलत ii) गलत
4. ✖ i) गलत ii) सही

Question Number : 15 Question Id : 25498931063 Question Type : MCQ Option Shuffling : Yes Display Question Number : Yes

Correct Marks : 1 Wrong Marks : 0

Which of the following is not a type of USB connector?

Options :

1. ✖ USB Type-C
2. ✖ Mini-USB
3. ✖ Micro-USB
4. ✔ Broad USB

Question Number : 15 Question Id : 25498931063 Question Type : MCQ Option Shuffling : Yes Display Question Number : Yes

Correct Marks : 1 Wrong Marks : 0

निम्नलिखित में से कौन-सा एक प्रकार का USB कनेक्टर नहीं है?

Options :

1. ❌ यूएसबी टाइप-C
2. ❌ मिनी-यूएसबी
3. ❌ माइक्रो-यूएसबी
4. ✔️ ब्रॉड यूएसबी

Question Number : 16 Question Id : 25498910939 Question Type : MCQ Option Shuffling : Yes Display Question Number : Yes

Correct Marks : 1 Wrong Marks : 0

Identify the printing method that creates raised and coloured areas on paper and is often seen in wedding invitations, business cards and letterheads.

Options :

1. ❌ Gravure
2. ❌ Letterpress
3. ✔️ Thermography
4. ❌ Screen printing

Question Number : 16 Question Id : 25498910939 Question Type : MCQ Option Shuffling : Yes Display Question Number : Yes

Correct Marks : 1 Wrong Marks : 0

प्रिंटिंग विधि, जो कागज पर उभरे हुए और रंगीन क्षेत्रों को बनाती है, जो अक्सर शादी के निमंत्रण पत्र, बिज़नेस कार्ड और लेटरहेड में दिखाई देती है, कौन-सी है?

Options :

1. ❌ ग्रेव्योर (Gravure)
2. ❌ लेटरप्रेस (Letterpress)
3. ✔️ थर्मोग्राफी (Thermography)
4. ❌ स्क्रीन प्रिंटिंग (Screen printing)

Question Number : 17 Question Id : 25498911239 Question Type : MCQ Option Shuffling : Yes Display Question Number : Yes

Correct Marks : 1 Wrong Marks : 0

What happens by double clicking the left mouse button on an icon in Microsoft Windows?

Options :

1. ✔️ Opens the program or file
2. ❌ Highlights or drags the program
3. ❌ Selects a paragraph of text
4. ❌ Brings up the right-click menu with additional options

Question Number : 17 Question Id : 25498911239 Question Type : MCQ Option Shuffling : Yes Display Question Number : Yes

Correct Marks : 1 Wrong Marks : 0

Microsoft Windows में एक आइकन पर बाएं माउस बटन पर डबल क्लिक करने से क्या होता है?

Options :

1. ✔️ यह प्रोग्राम या फ़ाइल को खोलता है
2. ❌ यह कार्यक्रम को हाइलाइट या ड्रैग करता है
3. ❌ यह टेक्स्ट के एक पैराग्राफ का चयन करता है
4. ❌ यह अतिरिक्त विकल्पों के साथ राइट-क्लिक मेनू लाता है

Question Number : 18 Question Id : 25498913529 Question Type : MCQ Option Shuffling : Yes Display Question Number : Yes

Correct Marks : 1 Wrong Marks : 0

_____ of a grayscale image is the average intensity of all pixels in image.

Options :

1. ✖ Size
2. ✖ Colour
3. ✔ Brightness
4. ✖ Feature

Question Number : 18 Question Id : 25498913529 Question Type : MCQ Option Shuffling : Yes Display Question Number : Yes

Correct Marks : 1 Wrong Marks : 0

एक ग्रेस्केल इमेज की/का _____, इमेज में सभी पिक्सल की औसत तीव्रता होती है।

Options :

1. ✖ आकार
2. ✖ रंग
3. ✔ चमक
4. ✖ फीचर

Question Number : 19 Question Id : 25498913579 Question Type : MCQ Option Shuffling : Yes Display Question Number : Yes

Correct Marks : 1 Wrong Marks : 0

Which of the following refers to a process that requests services on the network?

Options :

1. ✖ Server
2. ✔ Client
3. ✖ Datagram
4. ✖ packet

Question Number : 19 Question Id : 25498913579 Question Type : MCQ Option Shuffling : Yes Display Question Number : Yes

Correct Marks : 1 Wrong Marks : 0

निम्नलिखित में से कौन-सा, एक प्रक्रिया को संदर्भित करता है जो नेटवर्क पर सेवाओं का अनुरोध करता है?

Options :

1. ✖ सर्वर
2. ✔ क्लाइंट
3. ✖ डेटाग्राम
4. ✖ पैकेट

Question Number : 20 Question Id : 25498913634 Question Type : MCQ Option Shuffling : Yes Display Question Number : Yes

Correct Marks : 1 Wrong Marks : 0

_____ is the lossless compression algorithm for the simplest image data.

Options :

1. ✔ Run length encoding
2. ✖ Kolakoski sequence
3. ✖ Look-and-say sequence
4. ✖ Golomb coding

Question Number : 20 Question Id : 25498913634 Question Type : MCQ Option Shuffling : Yes Display Question Number : Yes

Correct Marks : 1 Wrong Marks : 0

_____ सरलतम छवि डेटा (simplest image data) के लिए दोषरहित संपीड़न एल्गोरिथम है।

Options :

1. ✓ रन लेंथ एन्कोडिंग (Run length encoding)
2. ✘ कोलाकोस्की सीक्वेंस (Kolakoski sequence)
3. ✘ लुक-एंड-से सीक्वेंस (Look-and-say sequence)
4. ✘ गोलोम्ब कोडिंग (Golomb coding)

Question Number : 21 Question Id : 25498919415 Question Type : MCQ Option Shuffling : Yes Display Question Number : Yes

Correct Marks : 1 Wrong Marks : 0

Which of the following icons appear when you are not connected to Wi-Fi network in Windows 11?

Options :

1. ✓ 
2. ✘ 
3. ✘ 
4. ✘ 

Question Number : 21 Question Id : 25498919415 Question Type : MCQ Option Shuffling : Yes Display Question Number : Yes

Correct Marks : 1 Wrong Marks : 0

जब आप विंडोज 11 में वाई-फाई नेटवर्क से जुड़े नहीं होते हैं, तो निम्न में से कौन-सा आइकन दिखाई देता है?

Options :

1. ✓ 
2. ✘ 
3. ✘ 
4. ✘ 

Question Number : 22 Question Id : 25498922024 Question Type : MCQ Option Shuffling : Yes Display Question Number : Yes

Correct Marks : 1 Wrong Marks : 0

Which of the following is a security method that translates data into a code or ciphertext?

Options :

1. ✓ Data encryption
2. ✘ Data decryption
3. ✘ Data cloning
4. ✘ Data merging

Question Number : 22 Question Id : 25498922024 Question Type : MCQ Option Shuffling : Yes Display Question Number : Yes

Correct Marks : 1 Wrong Marks : 0

निम्नलिखित में से कौन-सी एक सुरक्षा विधि है जो डेटा को कोड या साएफरटेक्स्ट में अनुवादित करती है?

Options :

- डेटा एन्क्रिप्शन
- डेटा डिक्रिप्शन
- डेटा क्लोनिंग
- डेटा मर्जिंग

Question Number : 23 Question Id : 25498922605 Question Type : MCQ Option Shuffling : Yes Display Question Number : Yes

Correct Marks : 1 Wrong Marks : 0

Computer hardware refers to _____.

Options :

- software parts that make your computer.
- physical parts that make your computer.
- algorithms that make your computer.
- programs that make your computer.

Question Number : 23 Question Id : 25498922605 Question Type : MCQ Option Shuffling : Yes Display Question Number : Yes

Correct Marks : 1 Wrong Marks : 0

कंप्यूटर हार्डवेयर _____ संदर्भित करता है जो आपके कंप्यूटर को बनाते हैं।

Options :

- सॉफ्टवेयर भागों को
- भौतिक भागों को
- एल्गोरिदम को
- उन प्रोग्रामों को

Question Number : 24 Question Id : 25498922710 Question Type : MCQ Option Shuffling : Yes Display Question Number : Yes

Correct Marks : 1 Wrong Marks : 0

What may NOT cause problems in a hard disk?

Options :

- Viruses
- Power surges
- Heat
- Regulated power supply

Question Number : 24 Question Id : 25498922710 Question Type : MCQ Option Shuffling : Yes Display Question Number : Yes

Correct Marks : 1 Wrong Marks : 0

निम्न में से कौन-सा, हार्ड डिस्क में समस्या का कारण नहीं हो सकता है?

Options :

- वायरस
- पॉवर प्रोत्कर्ष
- गर्मी
- नियंत्रित शक्ति प्रदाय

Question Number : 25 Question Id : 25498924464 Question Type : MCQ Option Shuffling : Yes Display Question Number : Yes

Correct Marks : 1 Wrong Marks : 0

Cortana is an intelligent personal assistant included in which version of Windows?

Options :

1. ❌ Windows NT
2. ❌ Windows XP
3. ❌ Windows ME
4. ✔️ Windows 10

Question Number : 25 Question Id : 25498924464 Question Type : MCQ Option Shuffling : Yes Display Question Number : Yes

Correct Marks : 1 Wrong Marks : 0

Windows के किस संस्करण में एक इंटेलिजेंट पर्सनल असिस्टेंट, कॉर्टाना शामिल है?

Options :

1. ❌ Windows NT
2. ❌ Windows XP
3. ❌ Windows ME
4. ✔️ Windows 10

Question Number : 26 Question Id : 25498924510 Question Type : MCQ Option Shuffling : Yes Display Question Number : Yes

Correct Marks : 1 Wrong Marks : 0

What is the full form of AIF?

Options :

1. ❌ Audio Intra File Format
2. ❌ Audio Intra File Filter
3. ✔️ Audio Interchange File Format
4. ❌ Audio Interchange Filter File

Question Number : 26 Question Id : 25498924510 Question Type : MCQ Option Shuffling : Yes Display Question Number : Yes

Correct Marks : 1 Wrong Marks : 0

AIF का पूर्ण रूप क्या है?

Options :

1. ❌ Audio Intra File Format (ऑडियो इंट्रा फाइल फॉर्मेट)
2. ❌ Audio Intra File Filter (ऑडियो इंट्रा फाइल फिल्टर)
3. ✔️ Audio Interchange File Format (ऑडियो इंटरचेंज फाइल फॉर्मेट)
4. ❌ Audio Interchange Filter File (ऑडियो इंटरचेंज फिल्टर फाइल)

Question Number : 27 Question Id : 25498924606 Question Type : MCQ Option Shuffling : Yes Display Question Number : Yes

Correct Marks : 1 Wrong Marks : 0

Which of the following files has the extension TGA ?

Options :

1. ❌ System file
2. ✔️ Graphics File
3. ❌ Programming/Scripting related file
4. ❌ Hypertext Related File

Question Number : 27 Question Id : 25498924606 Question Type : MCQ Option Shuffling : Yes Display Question Number : Yes

Correct Marks : 1 Wrong Marks : 0

निम्नलिखित में से किस फाइल का एक्सटेंशन TGA होता है?

Options :

- ❌ सिस्टम फाइल
- ✅ ग्राफिक्स फाइल
- ❌ प्रोग्रामिंग/स्क्रिप्टिंग संबंधित फाइल
- ❌ हाइपरटेक्स्ट संबंधित फाइल

Question Number : 28 Question Id : 25498925390 Question Type : MCQ Option Shuffling : Yes Display Question Number : Yes

Correct Marks : 1 Wrong Marks : 0

Which of the following statements is NOT true about UPS?

Options :

- ❌ It is used to protect the hardware.
- ❌ It is used to provide emergency power.
- ❌ It is used to protect from input power interruptions.
- ✅ It cannot handle power surges.

Question Number : 28 Question Id : 25498925390 Question Type : MCQ Option Shuffling : Yes Display Question Number : Yes

Correct Marks : 1 Wrong Marks : 0

UPS के बारे में कौन-सा कथन सत्य नहीं है?

Options :

- ❌ इसका उपयोग हार्डवेयर की सुरक्षा के लिए किया जाता है।
- ❌ इसका उपयोग आपातकालीन शक्ति (बिजली) प्रदान करने के लिए किया जाता है।
- ❌ इसका उपयोग इनपुट पावर बाधाओं से बचाने के लिए किया जाता है।
- ✅ यह विद्युत् प्रोत्कर्ष को संभाल नहीं सकता है।

Question Number : 29 Question Id : 25498938502 Question Type : MCQ Option Shuffling : Yes Display Question Number : Yes

Correct Marks : 1 Wrong Marks : 0

Spyware may try to deceive users by _____ itself with desirable software.

Options :

- ❌ replicating
- ✅ bundling
- ❌ reproducing
- ❌ killing

Question Number : 29 Question Id : 25498938502 Question Type : MCQ Option Shuffling : Yes Display Question Number : Yes

Correct Marks : 1 Wrong Marks : 0

स्पाइवेयर वांछनीय सॉफ्टवेयर के साथ स्वयं की _____ द्वारा उपयोगकर्ताओं को धोखा देने का प्रयास कर सकता है।

Options :

- ❌ रेप्लिकेटिंग (replicating)
- ✅ बंडलिंग (bundling)
- ❌ रिप्रोड्यूसिंग (reproducing)
- ❌ किलिंग (killing)

Question Number : 30 Question Id : 25498940616 Question Type : MCQ Option Shuffling : Yes Display Question Number : Yes

Correct Marks : 1 Wrong Marks : 0

Which of the following is a computer program written to enter your computer and damage or alter your files and data?

Options :

1. ❌ Fix
2. ❌ Update
3. ✔️ Virus
4. ❌ Patch

Question Number : 30 Question Id : 25498940616 Question Type : MCQ Option Shuffling : Yes Display Question Number : Yes

Correct Marks : 1 Wrong Marks : 0

निम्नलिखित में से कौन-सा कंप्यूटर प्रोग्राम आपके कंप्यूटर में प्रवेश करने तथा आपकी फ़ाइलों और डेटा को नुकसान पहुंचाने या बदलने के लिए लिखा गया है?

Options :

1. ❌ फिक्स (Fix)
2. ❌ अपडेट (Update)
3. ✔️ वायरस (Virus)
4. ❌ पैच (Patch)

Question Number : 31 Question Id : 2549897028 Question Type : MCQ Option Shuffling : Yes Display Question Number : Yes

Correct Marks : 1 Wrong Marks : 0

_____ is a real-time telephone call between people made over the internet using computers.

Options :

1. ❌ A chat session
2. ❌ An E-mail
3. ❌ An instant message
4. ✔️ Internet telephony

Question Number : 31 Question Id : 2549897028 Question Type : MCQ Option Shuffling : Yes Display Question Number : Yes

Correct Marks : 1 Wrong Marks : 0

कंप्यूटर का उपयोग करते हुए इंटरनेट पर लोगों के बीच होने वाली रियल-टाइम टेलीफोन कॉल _____ कहलाती है।

Options :

1. ❌ चैट सेशन
2. ❌ ई-मेल
3. ❌ इंस्टेंट मैसेज
4. ✔️ इंटरनेट टेलीफोनी

Question Number : 32 Question Id : 2549899027 Question Type : MCQ Option Shuffling : Yes Display Question Number : Yes

Correct Marks : 1 Wrong Marks : 0

Which of the following internet services is used to connect to a remote computer that is connected to the internet?

Options :

1. ❌ VoIP
2. ✔️ Telnet
3. ❌ Usenet
4. ❌ E-Commerce

Question Number : 32 Question Id : 2549899027 Question Type : MCQ Option Shuffling : Yes Display Question Number : Yes

Correct Marks : 1 Wrong Marks : 0

निम्नलिखित में से कौन-सी इंटरनेट सेवा का उपयोग एक दूरस्थ कंप्यूटर से कनेक्ट करने के लिए किया जाता है जो इंटरनेट से जुड़ा है?

Options :

1. ✘ VoIP
2. ✔ टेलनेट
3. ✘ यूज़नेट
4. ✘ इ-कॉमर्स

Question Number : 33 Question Id : 2549899077 Question Type : MCQ Option Shuffling : Yes Display Question Number : Yes

Correct Marks : 1 Wrong Marks : 0

Which of the following is a software-based system or an application that runs on any connected device and stores your payment information and passwords of numerous payment methods and websites?

Options :

1. ✔ Digital Wallet
2. ✘ Debit Card
3. ✘ Data Card
4. ✘ Offline Wallet

Question Number : 33 Question Id : 2549899077 Question Type : MCQ Option Shuffling : Yes Display Question Number : Yes

Correct Marks : 1 Wrong Marks : 0

निम्नलिखित में से कौन सा सॉफ्टवेयर-आधारित सिस्टम या एक एप्लिकेशन है जो किसी भी कनेक्टेड डिवाइस पर चलता है और आपकी भुगतान जानकारी और कई भुगतान विधियों और वेबसाइटों के पासवर्ड को संग्रहीत करता है?

Options :

1. ✔ डिजिटल वॉलेट
2. ✘ डेबिट कार्ड
3. ✘ डेटा कार्ड
4. ✘ ऑफलाइन वॉलेट

Question Number : 34 Question Id : 2549899190 Question Type : MCQ Option Shuffling : Yes Display Question Number : Yes

Correct Marks : 1 Wrong Marks : 0

Which of the following is not a valid example of an email address?

Options :

1. ✘ abc.def@mail.com
2. ✘ abc_def@mail.com
3. ✘ abc@mail.com
4. ✔ 1@abc@mail.com

Question Number : 34 Question Id : 2549899190 Question Type : MCQ Option Shuffling : Yes Display Question Number : Yes

Correct Marks : 1 Wrong Marks : 0

निम्नलिखित में से कौन सा ईमेल पते (email address) का वैध उदाहरण नहीं है?

Options :

1. ✘ abc.def@mail.com
2. ✘ abc_def@mail.com
3. ✘ abc@mail.com
4. ✔ 1@abc@mail.com

Question Number : 35 Question Id : 25498912511 Question Type : MCQ Option Shuffling : Yes Display Question Number : Yes

Correct Marks : 1 Wrong Marks : 0

In MS-Excel 2019, if the cursor is located at column E and row 15 of a worksheet, the address of the cell will be:

Options :

1. ✘ 15E
2. ✔ E15
3. ✘ E:15
4. ✘ 15:E

Question Number : 35 Question Id : 25498912511 Question Type : MCQ Option Shuffling : Yes Display Question Number : Yes

Correct Marks : 1 Wrong Marks : 0

MS-EXCEL 2019 में, यदि कर्सर किसी वर्कशीट के कॉलम E और पंक्ति 15 पर स्थित है, तो सेल का एड्रेस क्या होगा?

Options :

1. ✘ 15E
2. ✔ E15
3. ✘ E:15
4. ✘ 15:E

Question Number : 36 Question Id : 25498913344 Question Type : MCQ Option Shuffling : Yes Display Question Number : Yes

Correct Marks : 1 Wrong Marks : 0

Which of the following keyboard shortcuts in MS-Word 2019 is used to insert an endnote?

Options :

1. ✔ Ctrl + Alt + D
2. ✘ Alt + Ctrl + F
3. ✘ Alt + Shift + X
4. ✘ Alt + Shift + F12

Question Number : 36 Question Id : 25498913344 Question Type : MCQ Option Shuffling : Yes Display Question Number : Yes

Correct Marks : 1 Wrong Marks : 0

MS-Word 2019 में निम्नलिखित में से किस कीबोर्ड शॉर्टकट का उपयोग एंडनोट डालने के लिए किया जाता है?

Options :

1. ✔ Ctrl + Alt + D
2. ✘ Alt + Ctrl + F
3. ✘ Alt + Shift + X
4. ✘ Alt + Shift + F12

Question Number : 37 Question Id : 25498919184 Question Type : MCQ Option Shuffling : Yes Display Question Number : Yes

Correct Marks : 1 Wrong Marks : 0

Alt+N short cut key in MS-Word 2019 is used to open _____.

Options :

1. ✘ File tab
2. ✘ Home tab
3. ✔ Insert tab
4. ✘ Design tab

Question Number : 37 Question Id : 25498919184 Question Type : MCQ Option Shuffling : Yes Display Question Number : Yes

Correct Marks : 1 Wrong Marks : 0

MS-Word 2019 में Alt+N शॉर्टकट कुंजी का उपयोग _____ को खोलने के लिए किया जाता है।

Options :

1. ❌ फ़ाइल टैब
2. ❌ होम टैब
3. ✔️ इंसर्ट टैब
4. ❌ डिज़ाइन टैब

Question Number : 38 Question Id : 25498919215 Question Type : MCQ Option Shuffling : Yes Display Question Number : Yes

Correct Marks : 1 Wrong Marks : 0

Which of the following options in the insert merge field dialogue box in the Mailings tab is used to see the list of fields that are in data source in MS-Word 2019?

Options :

1. ❌ Address block
2. ✔️ Data base fields
3. ❌ Item fields
4. ❌ Update fields

Question Number : 38 Question Id : 25498919215 Question Type : MCQ Option Shuffling : Yes Display Question Number : Yes

Correct Marks : 1 Wrong Marks : 0

एमएस-वर्ड 2019 में मेलिंग टैब में इन्सर्ट मर्ज फ़िल्ड डायलॉग बॉक्स में निम्नलिखित में से कौन-सा विकल्प डेटा स्रोत में मौजूद फ़िल्ड की सूची देखने के लिए उपयोग किया जाता है?

Options :

1. ❌ एड्रेस ब्लॉक
2. ✔️ डेटा बेस फ़िल्ड्स
3. ❌ आइटम फ़िल्ड्स
4. ❌ अपडेट फ़िल्ड्स

Question Number : 39 Question Id : 25498925243 Question Type : MCQ Option Shuffling : Yes Display Question Number : Yes

Correct Marks : 1 Wrong Marks : 0

Which layer is responsible for the process-to-process delivery in the OSI reference model?

Options :

1. ✔️ Transport layer
2. ❌ Data link layer
3. ❌ Session layer
4. ❌ Network layer

Question Number : 39 Question Id : 25498925243 Question Type : MCQ Option Shuffling : Yes Display Question Number : Yes

Correct Marks : 1 Wrong Marks : 0

OSI रेफ़रेंस मॉडल में, प्रोसेस-टू-प्रोसेस डिलीवरी के लिए निम्न में से कौन-सी लेयर उत्तरदायी होती है?

Options :

1. ✔️ ट्रांसपोर्ट लेयर
2. ❌ डेटा लिंक लेयर
3. ❌ सेशन लेयर
4. ❌ नेटवर्क लेयर

Question Number : 40 Question Id : 25498925282 Question Type : MCQ Option Shuffling : Yes Display Question Number : Yes

Correct Marks : 1 Wrong Marks : 0

Which of the following protocols is/are defined in application layer?

Options :

1. ✖ UDP
2. ✖ TCP
3. ✔ FTP
4. ✖ Both UDP and TCP

Question Number : 40 Question Id : 25498925282 Question Type : MCQ Option Shuffling : Yes Display Question Number : Yes

Correct Marks : 1 Wrong Marks : 0

निम्नलिखित में से कौन-सा/से प्रोटोकॉल एप्लीकेशन लेयर में परिभाषित है/हैं?

Options :

1. ✖ UDP
2. ✖ TCP
3. ✔ FTP
4. ✖ UDP और TCP दोनों

Question Number : 41 Question Id : 25498925481 Question Type : MCQ Option Shuffling : Yes Display Question Number : Yes

Correct Marks : 1 Wrong Marks : 0

Which of the following is an example of an invalid version number?

Options :

1. ✖ 5.3.0
2. ✖ 5.3.10
3. ✖ 5.3.40
4. ✔ 5_3_40

Question Number : 41 Question Id : 25498925481 Question Type : MCQ Option Shuffling : Yes Display Question Number : Yes

Correct Marks : 1 Wrong Marks : 0

निम्न में से कौन-सा अवैध संस्करण संख्या (invalid version number) का एक उदाहरण है?

Options :

1. ✖ 5.3.0
2. ✖ 5.3.10
3. ✖ 5.3.40
4. ✔ 5_3_40

Question Number : 42 Question Id : 25498933798 Question Type : MCQ Option Shuffling : Yes Display Question Number : Yes

Correct Marks : 1 Wrong Marks : 0

Which of the following refers to public or private sharing of computer data or space in a network with various levels of access privileges?

Options :

1. ✔ File sharing
2. ✖ Network sharing
3. ✖ Tool sharing
4. ✖ System sharing

Question Number : 42 Question Id : 25498933798 Question Type : MCQ Option Shuffling : Yes Display Question Number : Yes

Correct Marks : 1 Wrong Marks : 0

निम्नलिखित में से कौन-सा अभिगम विशेषाधिकारों (access privileges) के विभिन्न स्तरों वाले नेटवर्क में कंप्यूटर डेटा या स्पेस की सार्वजनिक या निजी शेयरिंग को संदर्भित करता है?

Options :

1. फ़ाइल शेयरिंग
2. नेटवर्क शेयरिंग
3. टूल शेयरिंग
4. सिस्टम शेयरिंग

Question Number : 43 Question Id : 25498938413 Question Type : MCQ Option Shuffling : Yes Display Question Number : Yes

Correct Marks : 1 Wrong Marks : 0

In which of the following internet services do systems allow two or more people who are generally in different locations to connect live and visually?

Options :

1. Video conferencing
2. Audio conferencing
3. Usenet
4. Telnet

Question Number : 43 Question Id : 25498938413 Question Type : MCQ Option Shuffling : Yes Display Question Number : Yes

Correct Marks : 1 Wrong Marks : 0

निम्नलिखित में से किस इंटरनेट सेवा में, सिस्टम दो या दो से अधिक लोगों को, जो आम तौर पर अलग-अलग स्थानों पर होते हैं, लाइव और विजुअल रूप से जुड़ने की सुविधा देता है?

Options :

1. वीडियो कॉन्फ्रेंसिंग
2. ऑडियो कॉन्फ्रेंसिंग
3. यूज़नेट
4. टेलनेट

Question Number : 44 Question Id : 25498942494 Question Type : MCQ Option Shuffling : Yes Display Question Number : Yes

Correct Marks : 1 Wrong Marks : 0

A _____ graph/chart is best suited for trend-based visualisations of data over a period of time, especially when you have many data points in MS-Excel 2019.

Options :

1. Bar
2. Pie
3. Line
4. Stock

Question Number : 44 Question Id : 25498942494 Question Type : MCQ Option Shuffling : Yes Display Question Number : Yes

Correct Marks : 1 Wrong Marks : 0

MS-Excel 2019 में _____ ग्राफ/चार्ट किसी समय अवधि में डेटा के रुझान-आधारित विजुअलाइज़ेशन के लिए सबसे उपयुक्त होता है, खासकर तब, जब आपके पास कई डेटा बिंदु हों।

Options :

1. बार
2. पाई
3. लाइन
4. स्टॉक

Question Number : 45 Question Id : 25498942498 Question Type : MCQ Option Shuffling : Yes Display Question Number : Yes

Correct Marks : 1 Wrong Marks : 0

In MS-Excel 2019, each slice in a pie chart represents a _____ of that slice.

Options :

1. percentage
2. title
3. source
4. legend

Question Number : 45 Question Id : 25498942498 Question Type : MCQ Option Shuffling : Yes Display Question Number : Yes

Correct Marks : 1 Wrong Marks : 0

MS-Excel 2019 में, पाई चार्ट में प्रत्येक स्लाइस उस स्लाइस के _____ का निरूपण करता है।

Options :

1. प्रतिशत
2. शीर्षक
3. स्रोत
4. आलेख

Question Number : 46 Question Id : 25498942514 Question Type : MCQ Option Shuffling : Yes Display Question Number : Yes

Correct Marks : 1 Wrong Marks : 0

Which of the following keyboard shortcut keys is used to make letters bold in MS-Excel 2019?

Options :

1. Ctrl + I
2. Ctrl + B
3. Ctrl + U
4. Ctrl + V

Question Number : 46 Question Id : 25498942514 Question Type : MCQ Option Shuffling : Yes Display Question Number : Yes

Correct Marks : 1 Wrong Marks : 0

MS-Excel 2019 में अक्षरों को बोल्ड करने के लिए निम्नलिखित में से किस की-बोर्ड शॉर्टकट का उपयोग किया जाता है?

Options :

1. Ctrl + I
2. Ctrl + B
3. Ctrl + U
4. Ctrl + V

Question Number : 47 Question Id : 25498942518 Question Type : MCQ Option Shuffling : Yes Display Question Number : Yes

Correct Marks : 1 Wrong Marks : 0

The _____ function key is used to open the Help task pane in MS-Excel 2019.

Options :

1. F1
2. F2
3. F4
4. F5

Question Number : 47 Question Id : 25498942518 Question Type : MCQ Option Shuffling : Yes Display Question Number : Yes

Correct Marks : 1 Wrong Marks : 0

MS Excel 2019 में, हेल्प टास्क पैन खोलने के लिए निम्न में से किस फंक्शन कुंजी (key) का उपयोग किया जाता है?

Options :

1. F1
2. F2
3. F4
4. F5

Question Number : 48 Question Id : 25498942539 Question Type : MCQ Option Shuffling : Yes Display Question Number : Yes

Correct Marks : 1 Wrong Marks : 0

Which of the following functions in MS-Excel 2019 returns a value you specify if a formula evaluates to an error; otherwise, it returns the result of the formula?

Options :

1. ERROR
2. IFERROR
3. SUM
4. AVG

Question Number : 48 Question Id : 25498942539 Question Type : MCQ Option Shuffling : Yes Display Question Number : Yes

Correct Marks : 1 Wrong Marks : 0

MS-Excel 2019 में, यदि कोई फॉर्मूला किसी त्रुटि का मूल्यांकन करता है, तो निम्न में से कौन-सा फंक्शन आपके द्वारा निर्दिष्ट मान प्रदान करता है; अन्यथा, यह फॉर्मूला का परिणाम देता है?

Options :

1. ERROR
2. IFERROR
3. SUM
4. AVG

Question Number : 49 Question Id : 25498942543 Question Type : MCQ Option Shuffling : Yes Display Question Number : Yes

Correct Marks : 1 Wrong Marks : 0

In MS-Excel 2019, the cell address that we use in the formula is known as the _____.

Options :

1. cell reference
2. excel address
3. workbook address
4. sheet address

Question Number : 49 Question Id : 25498942543 Question Type : MCQ Option Shuffling : Yes Display Question Number : Yes

Correct Marks : 1 Wrong Marks : 0

MS-Excel 2019 में, फॉर्मूला में हम जिस सेल एड्रेस का उपयोग करते हैं, उसे _____ के रूप में जाना जाता है।

Options :

1. सेल रेफरेंस
2. एक्सेल एड्रेस
3. वर्कबुक एड्रेस
4. शीट एड्रेस

Question Number : 50 Question Id : 25498942556 Question Type : MCQ Option Shuffling : Yes Display Question Number : Yes

Correct Marks : 1 Wrong Marks : 0

A _____ is used to plot the data in proportions in MS-Excel 2019.

Options :

1. ❌ Bar chart
2. ❌ Line graph
3. ✔️ Pie chart
4. ❌ Cone chart

Question Number : 50 Question Id : 25498942556 Question Type : MCQ Option Shuffling : Yes Display Question Number : Yes

Correct Marks : 1 Wrong Marks : 0

MS-Excel 2019 में डेटा को अनुपात में दर्शाने के लिए _____ का उपयोग किया जाता है।

Options :

1. ❌ बार चार्ट (bar chart)
2. ❌ लाइन ग्राफ (line graph)
3. ✔️ पाई चार्ट (pie chart)
4. ❌ कोन चार्ट (cone chart)

Question Number : 51 Question Id : 25498942559 Question Type : MCQ Option Shuffling : Yes Display Question Number : Yes

Correct Marks : 1 Wrong Marks : 0

Maya wants to find the highest value in a set of data. Which of the following functions should she use in MS-Excel 2019?

Options :

1. ✔️ MAX()
2. ❌ COUNT()
3. ❌ SUM()
4. ❌ AVG()

Question Number : 51 Question Id : 25498942559 Question Type : MCQ Option Shuffling : Yes Display Question Number : Yes

Correct Marks : 1 Wrong Marks : 0

माया डेटा के एक सेट में उच्चतम मान ज्ञात करना चाहती है। उसे निम्नलिखित में से किस फंक्शन का उपयोग करना होगा?

Options :

1. ✔️ MAX()
2. ❌ COUNT()
3. ❌ SUM()
4. ❌ AVG()

Question Number : 52 Question Id : 25498942563 Question Type : MCQ Option Shuffling : Yes Display Question Number : Yes

Correct Marks : 1 Wrong Marks : 0

Which of the following steps is used to open a pie chart in MS-Excel 2019?

Options :

1. ❌ Home->Charts->Pie chart symbol
2. ✔️ Insert->Charts->Pie chart symbol
3. ❌ File->Charts->Pie chart symbol
4. ❌ Design->Charts->Pie chart symbol

Question Number : 52 Question Id : 25498942563 Question Type : MCQ Option Shuffling : Yes Display Question Number : Yes

Correct Marks : 1 Wrong Marks : 0

MS-Excel 2019 में, पाई चार्ट खोलने के लिए निम्नलिखित में से किन चरणों का उपयोग किया जाता है?

Options :

1. ❌ Home->Charts->Pie chart symbol
2. ✔️ Insert->Charts->Pie chart symbol
3. ❌ File->Charts->Pie chart symbol
4. ❌ Design->Charts->Pie chart symbol

READING COMPREHENSION

Section Id :	2549898921
Section Number :	2
Section type :	Online
Mandatory or Optional :	Mandatory
Number of Questions :	1
Number of Questions to be attempted :	1
Section Marks :	5
Display Number Panel :	Yes
Maximum Instruction Time :	0
Sub-Section Number :	1
Sub-Section Id :	2549898962
Question Shuffling Allowed :	No

Question Id : 25498921451 Question Type : COMPREHENSION Sub Question Shuffling Allowed : Yes Group Comprehension Questions : No Question Pattern Type : NonMatrix

Question Numbers : (53 to 57)

Read the given passage and answer the questions that follow.

This is a story about an ancient city called Troy when it was at war with the Greeks. The Greeks had surrounded the city of Troy but could not break through the huge wall that protected Troy. There were strong gates in the wall which were kept locked in times of war. Soldiers guarding the city would shoot arrows at the enemies through holes in the wall.

The Trojan war continued for ten long years. The Greeks tried hard to break in through the walls but could not succeed. The Trojans also found it impossible to drive the Greeks away who were determined to enter the city and would not withdraw their forces. Then one day, the Greek general Odysseus made a clever plan. The Greeks would pretend to back out and sail away and, as was the custom then, leave behind a horse as a gift for the people of Troy. This would convey that the Greeks wanted peace and thus, the war would come to an end. The horse would be a marvellous piece of Greek art. So, Odysseus ordered a giant wooden horse to be built. However, he gave instructions that the horse should be hollow from inside. His plan was to hide thirty strong men from his army inside the huge horse.

When the horse was ready, the Greeks pretended to sail back and left the wooden horse outside the city of Troy. The Trojans believed that the Greeks were finally sailing back and rejoiced. They were completely deceived by the cunning plan of Odysseus. They opened the city gates and joyously dragged the wooden horse inside the city. At night, they made merry and celebrated their victory. When they fell asleep drunk and exhausted from the celebrations, the Greek soldiers hidden inside the horse sneaked out. They sent signals to their army to sail back and threw open the gates of the city of Troy. The Greek soldiers entered the city and killed the Trojan soldiers, who were caught unawares. The city of Troy was destroyed and the war ended with victory for the Greeks.

Sub questions

Question Number : 53 Question Id : 25498921452 Question Type : MCQ Option Shuffling : Yes Display Question Number : Yes

Correct Marks : 1 Wrong Marks : 0

The Greeks could not enter the city of Troy because they:

Options :

1. were few in number
2. could not break through the wall
3. were afraid of the Trojans
4. did not have enough weapons

Question Number : 54 Question Id : 25498921453 Question Type : MCQ Option Shuffling : Yes Display Question Number : Yes

Correct Marks : 1 Wrong Marks : 0

As the Greeks were _____, the Trojans found it difficult to drive them away.

Options :

1. a peace-loving people
2. very strong
3. very determined
4. very honest

Question Number : 55 Question Id : 25498921454 Question Type : MCQ Option Shuffling : Yes Display Question Number : Yes

Correct Marks : 1 Wrong Marks : 0

The Greeks leaving a horse behind signified that they:

Options :

1. had lost the war
2. had won the war
3. wanted to surrender
4. wanted to make peace

Question Number : 56 Question Id : 25498921455 Question Type : MCQ Option Shuffling : Yes Display Question Number : Yes

Correct Marks : 1 Wrong Marks : 0

The Trojans lost the war because they:

Options :

1. were not skilled fighters

2. ❌ fell asleep when attacked

3. ✅ were taken by surprise

4. ❌ ran out of ammunition

Question Number : 57 Question Id : 25498921456 Question Type : MCQ Option Shuffling : Yes Display Question Number : Yes

Correct Marks : 1 Wrong Marks : 0

Which characteristic enabled the Greeks to win the war?

Options :

1. ❌ Bravery

2. ❌ Luck

3. ❌ Patience

4. ✅ Cunning

Question Id : 25498921451 Question Type : COMPREHENSION Sub Question Shuffling Allowed : Yes Group

Comprehension Questions : No Question Pattern Type : NonMatrix

Question Numbers : (53 to 57)

दिए गए गद्यांश को पढ़िए और फिर निम्नलिखित प्रश्नों के उत्तर दीजिए।

यह कहानी एक प्राचीन शहर ट्रॉय की है जिसका यूनानियों के साथ युद्ध हुआ था। यूनानियों ने ट्रॉय शहर को घेर लिया था लेकिन ट्रॉय शहर की रक्षा करने वाली विशाल दीवार को वो भेद नहीं सके। किले की इन दीवारों में मजबूत द्वार थे जिन्हें युद्ध के दौरान बंद कर दिया गया था। शहर की रक्षा करने वाले सैनिक, दीवारों के छोटी-छोटी रिक्तियों से दुश्मनों पर तीरों की वर्षा कर रहे थे।

ट्रोजन युद्ध दस वर्षों तक लगातार जारी रहा। यूनानियों ने दीवारों को भेद अंदर जाने की बहुत कोशिश की लेकिन असफल रहे। ट्रोजन के लिए भी उसके शहर में घुसने के दृढसंकल्पी यूनानियों को भगाना असंभव हो गया था और वे अपनी सेना को वापस नहीं ले जा रहे थे।

फिर एक दिन, यूनानी सेनापति ओडिसीयस ने एक चतुराई भरी योजना बनाई। यूनानी लोग पीछे हटने और दूर जाने का नाटक करने वाले थे और जैसा कि उस समय की नीति थी, ट्रॉय के लोगों के लिए उपहार के रूप में एक घोड़ा छोड़कर जाना होता था। इससे यह सन्देश जायेगा कि यूनानी शांति चाहते हैं और इस प्रकार युद्ध समाप्त माना जाएगा। घोड़ा, यूनानी कला का एक अद्भुत नमूना होता था। अतः ओडिसीयस ने एक विशाल लकड़ी के घोड़े का निर्माण करने का आदेश दिया। हालांकि उसने निर्देश दिए कि घोड़ा अंदर से खोखला होना चाहिए। विशाल खोखले घोड़े के अंदर अपनी सेना के तीस मजबूत सैनिकों को छिपाने की योजना थी।

जब घोड़ा तैयार हो गया, तब यूनानियों ने पीछे हटने का नाटक किया और ट्रॉय शहर के बाहर लकड़ी के घोड़े को छोड़ दिया। ट्रोजन को विश्वास हो गया कि यूनानी सेना अंततः वापस चली गई है और वे जश्न मनाने लगे। वे ओडिसीयस की चतुर योजना से पूरी तरह परिचित नहीं थे। उन्होंने शहर के द्वार खोले और खुशी से लकड़ी के घोड़े को शहर के अंदर खींच लिया। रात में, उन्होंने अपनी जीत का उत्सव मनाया। जब वे उत्सव के पश्चात थक गए और नशे में धुत होकर सो गए, तो घोड़े के अंदर छिपे यूनानी सैनिक चुपके से बाहर निकल आये। उन्होंने अपनी सेना को वापस आने के लिए संकेत भेजे और ट्रॉय शहर के द्वार खोल दिए। यूनानी सैनिकों ने शहर में प्रवेश किया और ट्रोजन सैनिकों को मार डाला। ट्रॉय शहर नष्ट हो गया और युद्ध, यूनानियों की जीत के साथ समाप्त हुआ।

Sub questions

Question Number : 53 Question Id : 25498921452 Question Type : MCQ Option Shuffling : Yes Display Question Number : Yes

Correct Marks : 1 Wrong Marks : 0

यूनानी लोग ट्रॉय शहर में प्रवेश नहीं कर सके क्योंकि _____।

Options :

1. ❌ वे संख्या में कम थे
2. ✔️ वे दीवार नहीं भेद सके
3. ❌ वे ट्रोजन से डरते थे
4. ❌ उनके पास पर्याप्त हथियार नहीं थे

Question Number : 54 Question Id : 25498921453 Question Type : MCQ Option Shuffling : Yes Display Question Number : Yes

Correct Marks : 1 Wrong Marks : 0

चूंकि यूनानी _____ थे, इसलिए ट्रोजनों के लिए उन्हें भगाना मुश्किल हो गया था।

Options :

1. ❌ शांतिप्रिय लोग
2. ❌ शक्तिशाली
3. ✔️ बहुत दृढसंकल्पी
4. ❌ बहुत ईमानदार

Question Number : 55 Question Id : 25498921454 Question Type : MCQ Option Shuffling : Yes Display Question Number : Yes

Correct Marks : 1 Wrong Marks : 0

यूनानियों ने एक घोड़े को पीछे छोड़ते हुए यह संकेत दिया कि वे _____।

Options :

1. ❌ युद्ध हार गए थे
2. ❌ युद्ध जीत गए थे
3. ❌ आत्मसमर्पण करना चाहते थे
4. ✔️ शांति चाहते थे

Question Number : 56 Question Id : 25498921455 Question Type : MCQ Option Shuffling : Yes Display Question Number : Yes

Correct Marks : 1 Wrong Marks : 0

ट्रोजन युद्ध हार गए क्योंकि _____।

Options :

1. ❌ वे कुशल योद्धा नहीं थे
2. ❌ हमले के समय वे सो गए थे
3. ✔️ वे रणनीति से परिचित नहीं थे
4. ❌ उनके पास अस्त्र शस्त्र समाप्त हो गए थे

Question Number : 57 Question Id : 25498921456 Question Type : MCQ Option Shuffling : Yes Display Question Number : Yes

Correct Marks : 1 Wrong Marks : 0

यूनानियों की किस विशेषता के कारण वे युद्ध जीते?

Options :

1. ❌ वीरता
2. ❌ भाग्य
3. ❌ धीरज
4. ✔️ चतुराई

QUANTITATIVE APTITUDE

Section Id :	2549898922
Section Number :	3
Section type :	Online
Mandatory or Optional :	Mandatory
Number of Questions :	6
Number of Questions to be attempted :	6
Section Marks :	6
Display Number Panel :	Yes
Maximum Instruction Time :	0
Sub-Section Number :	1
Sub-Section Id :	2549898963
Question Shuffling Allowed :	Yes

Question Number : 58 Question Id : 25498928856 Question Type : MCQ Option Shuffling : Yes Display Question Number : Yes

Correct Marks : 1 Wrong Marks : 0

What should come in place of the question mark (?) in the following equation?

$$534.596 + 61.472 - 496.708 = ? + 27.271$$

Options :

1. ❌ 126.631
2. ❌ 62.069
3. ✔️ 72.089
4. ❌ 132.788

Question Number : 58 Question Id : 25498928856 Question Type : MCQ Option Shuffling : Yes Display Question Number : Yes

Correct Marks : 1 Wrong Marks : 0

निम्नलिखित समीकरण में प्रश्न चिह्न (?) के स्थान पर क्या आना चाहिए?

$$534.596 + 61.472 - 496.708 = ? + 27.271$$

Options :

1. ❌ 126.631
2. ❌ 62.069
3. ✔️ 72.089
4. ❌ 132.788

Question Number : 59 Question Id : 25498928995 Question Type : MCQ Option Shuffling : Yes Display Question Number : Yes

Correct Marks : 1 Wrong Marks : 0

Two equations numbered I and II are given. You have to solve both the equations and select the answer from the given options.

I. $2x^2 + 18x + 40 = 0$

II. $2y^2 + 15y + 27 = 0$

Options :

1. ✖ $x < y$

2. ✖ $x \geq y$

3. ✖ $x \leq y$

4. ✔ Relation cannot be established between x and y

Question Number : 59 Question Id : 25498928995 Question Type : MCQ Option Shuffling : Yes Display Question Number : Yes

Correct Marks : 1 Wrong Marks : 0

I और II क्रमांकित दो समीकरण दिए गए हैं। आपको दोनों समीकरणों को हल करना है और दिए गए विकल्पों में से उत्तर का चयन करना है।

I. $2x^2 + 18x + 40 = 0$

II. $2y^2 + 15y + 27 = 0$

Options :

1. ✖ $x < y$

2. ✖ $x \geq y$

3. ✖ $x \leq y$

4. ✔ x और y के बीच संबंध स्थापित नहीं किया जा सकता।

Question Number : 60 Question Id : 25498929040 Question Type : MCQ Option Shuffling : Yes Display Question Number : Yes

Correct Marks : 1 Wrong Marks : 0

The present age of Bob is equal to Abby's age 8 years ago. Four years later, the ratio of Abby's age to Bob's age will be 5 : 4. What is Bob's present age?

Options :

1. ✖ 24 years

2. ✖ 32 years

3. ✖ 40 years

4. ✔ 28 years

Question Number : 60 Question Id : 25498929040 Question Type : MCQ Option Shuffling : Yes Display Question Number : Yes

Correct Marks : 1 Wrong Marks : 0

बॉब की वर्तमान आयु 8 वर्ष पहले एबी की आयु के बराबर है। चार साल बाद, एबी की उम्र का बॉब की उम्र से अनुपात 5:4 होगा। बॉब की वर्तमान आयु क्या है?

Options :

1. ✖ 24 वर्ष

2. ✖ 32 वर्ष

3. ✖ 40 वर्ष

4. ✔ 28 वर्ष

Question Number : 61 Question Id : 25498929144 Question Type : MCQ Option Shuffling : Yes Display Question Number : Yes

Correct Marks : 1 Wrong Marks : 0

75% of a number is equal to three-seventh of another number. What is the ratio of the first number to the second number?

Options :

1. ✓ 4 : 7
2. ✗ 7 : 4
3. ✗ 12 : 7
4. ✗ 7 : 12

Question Number : 61 Question Id : 25498929144 Question Type : MCQ Option Shuffling : Yes Display Question Number : Yes

Correct Marks : 1 Wrong Marks : 0

एक संख्या का 75% किसी अन्य संख्या के $\frac{3}{7}$ वें भाग के बराबर है। पहली संख्या और दूसरी संख्या के बीच अनुपात ज्ञात करें।

Options :

1. ✓ 4 : 7
2. ✗ 7 : 4
3. ✗ 12 : 7
4. ✗ 7 : 12

Question Number : 62 Question Id : 25498929656 Question Type : MCQ Option Shuffling : Yes Display Question Number : Yes

Correct Marks : 1 Wrong Marks : 0

A school has 150 students who play in cricket, football and tennis teams. Some students play more than one game. If 115 students play tennis, 125 play cricket, 130 play football, 80 play tennis and cricket, 50 play tennis and football, and 100 play cricket and football. How many students play all three games?

Options :

1. ✗ 8
2. ✗ 9
3. ✓ 10
4. ✗ 12

Question Number : 62 Question Id : 25498929656 Question Type : MCQ Option Shuffling : Yes Display Question Number : Yes

Correct Marks : 1 Wrong Marks : 0

किसी स्कूल में 150 छात्र हैं जो क्रिकेट, फुटबॉल और टेनिस टीमों में खेलते हैं। कुछ छात्र एक से अधिक खेल खेलते हैं। यदि 115 छात्र टेनिस खेलते हैं, 125 क्रिकेट खेलते हैं, 130 फुटबॉल खेलते हैं, 80 टेनिस और क्रिकेट दोनों खेलते हैं, 50 टेनिस और फुटबॉल दोनों खेलते हैं और 100 क्रिकेट और फुटबॉल दोनों खेलते हैं, तो कितने छात्र तीनों खेल खेलते हैं?

Options :

1. ✗ 8
2. ✗ 9
3. ✓ 10
4. ✗ 12

Question Number : 63 Question Id : 25498929678 Question Type : MCQ Option Shuffling : Yes Display Question Number : Yes

Correct Marks : 1 Wrong Marks : 0

Let p and q be inversely proportional and positive. If p increases by 20%, then q decreases by:

Options :

1. ✖ 20%

2. ✖ $\frac{20}{21}\%$

3. ✖ 5%

4. ✔ $16\frac{2}{3}\%$

Question Number : 63 Question Id : 25498929678 Question Type : MCQ Option Shuffling : Yes Display Question Number : Yes

Correct Marks : 1 Wrong Marks : 0

मान लें कि p और q व्युत्क्रमानुपाती और धनात्मक हैं। यदि p को 20% बढ़ाया जाता है तो q कितना कम हो जायेगा?

Options :

1. ✖ 20%

2. ✖ $\frac{20}{21}\%$

3. ✖ 5%

4. ✔ $16\frac{2}{3}\%$

GENERAL MENTAL ABILITY AND REASONING

Section Id :	2549898923
Section Number :	4
Section type :	Online
Mandatory or Optional :	Mandatory
Number of Questions :	6
Number of Questions to be attempted :	6
Section Marks :	6
Display Number Panel :	Yes
Maximum Instruction Time :	0
Sub-Section Number :	1
Sub-Section Id :	2549898964
Question Shuffling Allowed :	Yes

Question Number : 64 Question Id : 25498910269 Question Type : MCQ Option Shuffling : Yes Display Question Number : Yes

Correct Marks : 1 Wrong Marks : 0

'Forfeit' is related to 'Surrender' in the same way as 'Remit' is related to:

Options :

1. ✖ Perceive

2. ✖ Confiscate

3. ✖ Exempt

4. ✔ Cancel

Question Number : 64 Question Id : 25498910269 Question Type : MCQ Option Shuffling : Yes Display Question Number : Yes

Correct Marks : 1 Wrong Marks : 0

'जब्ती' का 'आत्मसमर्पण' से वही संबंध है, जो 'परिहार करना' का _____ से संबंध है।

Options :

1. ✘ समझना
2. ✘ अधिहरण
3. ✘ छूट
4. ✔ रद्दीकरण

Question Number : 65 Question Id : 25498914064 Question Type : MCQ Option Shuffling : Yes Display Question Number : Yes

Correct Marks : 1 Wrong Marks : 0

Some letters are given below. Arrange them properly to make a meaningful word. Select the option that shows the last letter in the word.

C I R E T D

Options :

1. ✘ C
2. ✔ T
3. ✘ E
4. ✘ I

Question Number : 65 Question Id : 25498914064 Question Type : MCQ Option Shuffling : Yes Display Question Number : Yes

Correct Marks : 1 Wrong Marks : 0

कुछ अक्षर नीचे दिये गये हैं। एक सार्थक शब्द बनाने के लिए निम्नलिखित अक्षरों को व्यवस्थित करें। उस विकल्प का चयन करें जो शब्द का अंतिम अक्षर प्रदर्शित करता है।

C I R E T D

Options :

1. ✘ D
2. ✔ T
3. ✘ E
4. ✘ I

Question Number : 66 Question Id : 25498919857 Question Type : MCQ Option Shuffling : Yes Display Question Number : Yes

Correct Marks : 1 Wrong Marks : 0

Four words have been given, out of which three are alike in some manner and one is different. Select the one that is different.

Options :

1. ✘ Tricycle
2. ✘ Trident
3. ✔ Trifle
4. ✘ Tricolor

Question Number : 66 Question Id : 25498919857 Question Type : MCQ Option Shuffling : Yes Display Question Number : Yes

Correct Marks : 1 Wrong Marks : 0

नीचे चार शब्द दिए गए हैं। उनमें से तीन किसी तरह से एक जैसे हैं जबकि एक भिन्न है। भिन्न की पहचान करें।

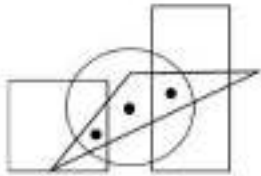
Options :

- ❌ त्रिचक्र (Tricycle)
- ❌ त्रिशूल (Trident)
- ✅ मामूली (Trifle)
- ❌ तिरंगा (Tricolour)

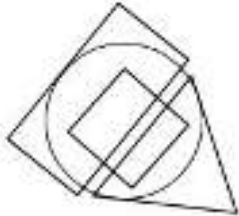
Question Number : 67 Question Id : 25498927405 Question Type : MCQ Option Shuffling : Yes Display Question Number : Yes

Correct Marks : 1 Wrong Marks : 0

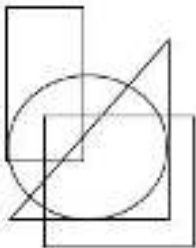
Select the option that satisfies the same conditions of the placement of the dots as shown in the given figure.



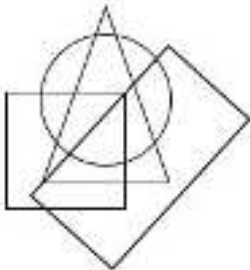
Options :



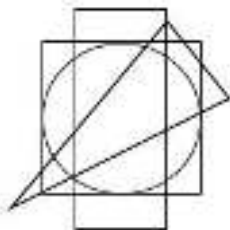
1. ❌



2. ❌



3. ✅

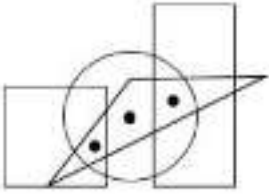


4. ❌

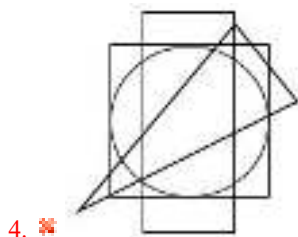
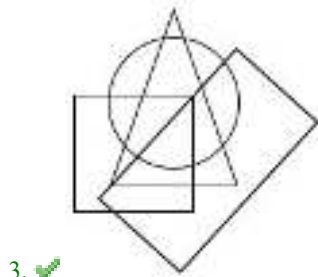
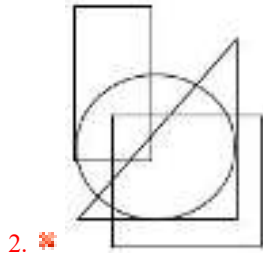
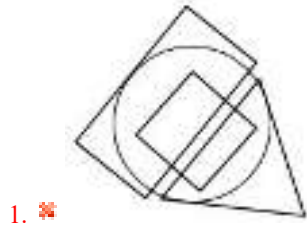
Question Number : 67 Question Id : 25498927405 Question Type : MCQ Option Shuffling : Yes Display Question Number : Yes

Correct Marks : 1 Wrong Marks : 0

उस विकल्प का चयन करें जो यहाँ दिखाई गई आकृति के अनुसार बिंदुओं के प्लेसमेंट की समान शर्तों को पूर्ण करता है।



Options :



Question Number : 68 Question Id : 25498928184 Question Type : MCQ Option Shuffling : Yes Display Question Number : Yes

Correct Marks : 1 Wrong Marks : 0

Four words have been given, out of which three are alike in some manner and one is different. Select the one that is different.

Options :

1. ✔ Outbreak
2. ✘ Obedience
3. ✘ Harmony
4. ✘ Calm

Question Number : 68 Question Id : 25498928184 Question Type : MCQ Option Shuffling : Yes Display Question Number : Yes

Correct Marks : 1 Wrong Marks : 0

नीचे चार शब्द दिए गए हैं। उनमें से तीन किसी तरह से एक जैसे हैं जबकि एक भिन्न है। भिन्न की पहचान करें।

Options :

1. प्रकोप
2. आज्ञापालन
3. सद्भाव
4. शांत

Question Number : 69 Question Id : 25498928704 Question Type : MCQ Option Shuffling : Yes Display Question Number : Yes

Correct Marks : 1 Wrong Marks : 0

Four letter-clusters have been given, out of which three are alike in some manner and one is different. Select the one that is different.

Options :

1. UAZF
2. SCXH
3. RDWJ
4. KBPG

Question Number : 69 Question Id : 25498928704 Question Type : MCQ Option Shuffling : Yes Display Question Number : Yes

Correct Marks : 1 Wrong Marks : 0

अक्षरों के चार समूह दिए गए हैं। उनमें से तीन किसी तरह से एक जैसे हैं जबकि एक भिन्न है। भिन्न की पहचान करें।

Options :

1. UAZF
2. SCXH
3. RDWJ
4. KBPG

GENERAL AWARENESS

Section Id :	2549898924
Section Number :	5
Section type :	Online
Mandatory or Optional :	Mandatory
Number of Questions :	6
Number of Questions to be attempted :	6
Section Marks :	6
Display Number Panel :	Yes
Maximum Instruction Time :	0
Sub-Section Number :	1
Sub-Section Id :	2549898965
Question Shuffling Allowed :	Yes

Question Number : 70 Question Id : 2549895389 Question Type : MCQ Option Shuffling : Yes Display Question Number : Yes

Correct Marks : 1 Wrong Marks : 0

Manganese deposits are found in almost all geological formations, however, it is mainly associated with _____ system.

Options :

1. Gondwana
2. Dharwar
3. Vindhya
4. Tertiary

Question Number : 70 Question Id : 2549895389 Question Type : MCQ Option Shuffling : Yes Display Question Number : Yes

Correct Marks : 1 Wrong Marks : 0

मैगनीज भंडार लगभग सभी भूवैज्ञानिक संरचनाओं में पाए जाते हैं, हालांकि, यह मुख्य रूप से _____ प्रणाली से जुड़ा हुआ है।

Options :

1. ✖ गोंडवाना
2. ✔ धारवाड़
3. ✖ विंध्य
4. ✖ तृतीय

Question Number : 71 Question Id : 25498912798 Question Type : MCQ Option Shuffling : Yes Display Question Number : Yes

Correct Marks : 1 Wrong Marks : 0

Who among the following is a football player?

Options :

1. ✖ Fernando Alonso
2. ✖ Kimi Raikkonen
3. ✖ Lewis Hamilton
4. ✔ Nicolas Anelka

Question Number : 71 Question Id : 25498912798 Question Type : MCQ Option Shuffling : Yes Display Question Number : Yes

Correct Marks : 1 Wrong Marks : 0

निम्नलिखित में से कौन एक फुटबॉल खिलाड़ी है?

Options :

1. ✖ फर्नांडो अलॉसो (Fernando Alonso)
2. ✖ किमि राइकोनेन (Kimi Raikkonen)
3. ✖ लुईस हैमिल्टन (Lewis Hamilton)
4. ✔ निकोलस अनेल्का (Nicolas Anelka)

Question Number : 72 Question Id : 25498932042 Question Type : MCQ Option Shuffling : Yes Display Question Number : Yes

Correct Marks : 1 Wrong Marks : 0

Greta Garbo is a name associated with _____.

Options :

1. ✖ journalism
2. ✖ literature
3. ✔ acting
4. ✖ classical dance

Question Number : 72 Question Id : 25498932042 Question Type : MCQ Option Shuffling : Yes Display Question Number : Yes

Correct Marks : 1 Wrong Marks : 0

ग्रेटा गार्बो (Greta Garbo) _____ से जुड़ा एक नाम है।

Options :

1. ✖ पत्रकारिता
2. ✖ साहित्य
3. ✔ अभिनय
4. ✖ शास्त्रीय नृत्य

Question Number : 73 Question Id : 25498935445 Question Type : MCQ Option Shuffling : Yes Display Question Number : Yes

Correct Marks : 1 Wrong Marks : 0

An increase in the bank rate generally indicates that the:

Options :

- market rate of interest is likely to fail
- Central Bank is no longer providing loans to commercial banks
- Central Bank is following an easy money policy
- Central Bank is following a tight money policy

Question Number : 73 Question Id : 25498935445 Question Type : MCQ Option Shuffling : Yes Display Question Number : Yes

Correct Marks : 1 Wrong Marks : 0

बैंक दर में वृद्धि आम तौर पर इंगित करती है कि _____।

Options :

- बाजार में ब्याज दर गिरने की संभावना है
- केंद्रीय बैंक अब वाणिज्यिक बैंकों को ऋण नहीं देगा
- केंद्रीय बैंक एक उदार आर्थिक नीति का पालन कर रहा है
- केंद्रीय बैंक एक सख्त आर्थिक नीति का पालन कर रहा है

Question Number : 74 Question Id : 25498935643 Question Type : MCQ Option Shuffling : Yes Display Question Number : Yes

Correct Marks : 1 Wrong Marks : 0

Adsorption is a phenomenon in which a substance:

Options :

- goes into the body of some other substance
- accumulates on the surface of some other substance
- remains close to some other substance
- does not accumulate on the surface of some other substance

Question Number : 74 Question Id : 25498935643 Question Type : MCQ Option Shuffling : Yes Display Question Number : Yes

Correct Marks : 1 Wrong Marks : 0

अधिशोषण एक प्रक्रिया है जिसमें एक पदार्थ, _____।

Options :

- किसी अन्य पदार्थ के निकाय में चला जाता है
- किसी अन्य पदार्थ की सतह पर एकत्रित हो जाता है
- किसी अन्य पदार्थ के करीब रहता है
- किसी अन्य पदार्थ की सतह पर एकत्रित नहीं होता है

Question Number : 75 Question Id : 25498935694 Question Type : MCQ Option Shuffling : Yes Display Question Number : Yes

Correct Marks : 1 Wrong Marks : 0

The first joint meeting of both the Houses of the Indian Parliament was held in connection with _____.

Options :

- certain amendments to the Dowry Prohibition Bill
- the Hindu Code bill
- the Bank Nationalisation Bill
- the Gold Control Bill

Question Number : 75 Question Id : 25498935694 Question Type : MCQ Option Shuffling : Yes Display Question Number : Yes

Correct Marks : 1 Wrong Marks : 0

भारतीय संसद के दोनों सदनों की पहली संयुक्त बैठक _____ के संबंध में आयोजित की गई थी।

Options :

1. दहेज उन्मूलन विधेयक में कुछ संशोधन
2. हिंदू कोड बिल
3. बैंक राष्ट्रीयकरण विधेयक
4. स्वर्ण नियंत्रण विधेयक

English Mock

Group Number :	2
Group Id :	2549895563
Group Maximum Duration :	5
Group Minimum Duration :	5
Show Attended Group? :	No
Edit Attended Group? :	No
Break time :	1
Mandatory Break time :	Yes
Group Marks :	0

English Mock

Section Id :	2549898925
Section Number :	1
Section type :	Typing Test
Mandatory or Optional :	Mandatory
Number of Questions :	1
Number of Questions to be attempted :	1
Section Marks :	0
Display Number Panel :	Yes
Maximum Instruction Time :	0
Sub-Section Number :	1
Sub-Section Id :	2549898966
Question Shuffling Allowed :	No
Is Section Default? :	Yes

Question Number : 76 Question Id : 25498946188 Question Type : TYPING TEST Display Question Number : Yes
Calculator : None

Summer camps are supervised camps conducted to entertain as well as equip students with various life skills such as teamwork, socializing, decision making, independent and responsible living and more. It aids the overall development of a child and children have fun during this process as they get to explore new arenas.

Restricted/ Unrestricted : Unrestricted

Paragraph Display : Yes

Keyboard Layout : Inscript

Show Details Panel : Yes

Show Error Count : Yes

Highlight Correct or Incorrect Words : Yes

Allow Back Space : Yes

Show Back Space Count : Yes

English Actual

Group Number :	3
Group Id :	2549895564
Group Maximum Duration :	15

Group Minimum Duration :	15
Show Attended Group? :	No
Edit Attended Group? :	No
Break time :	3
Mandatory Break time :	Yes
Group Marks :	0

English Typing Test

Section Id :	2549898926
Section Number :	1
Section type :	Typing Test
Mandatory or Optional :	Mandatory
Number of Questions :	1
Number of Questions to be attempted :	1
Section Marks :	0
Display Number Panel :	Yes
Maximum Instruction Time :	0
Sub-Section Number :	1
Sub-Section Id :	2549898967
Question Shuffling Allowed :	No
Is Section Default? :	Yes

Question Number : 77 Question Id : 25498942577 Question Type : TYPING TEST Display Question Number : Yes Calculator : None

A river is a stream of water that flows through a channel in the surface of the ground. The passage where the river flows is called the river bed and the earth on each side is called a river bank. A river begins on high ground or in hills or mountains and flows down from the high ground to the lower ground and it happens because of gravity. A river begins as a small stream and gets bigger the farther it flows. The start of a river is called the source or head water. The part of the river that is near the source is called a young river. A young river is often in a V shaped river bed and flows quickly downhill over stones and around big rocks. Young rivers often have lots of small waterfalls and rapids. As the rivers travel downhill they begin to erode the ground taking small bits of soft rock and soil. The source of a river may be a spring often on a hill and mountain or glacier or another high place. A spring is water that flows out from under the ground. The source of a river may be a lake where lots of water from small streams gathers when it rains or snows. A river may begin in mountains where there is snow. The melting snow runs together to form a small stream that runs down the mountain. As more little streams run in the main stream gets bigger until it forms a river. Some rivers flow from hills where there is no snow but lots of rain. Some rivers only flow after there has been rain near the head water. The middle part of a river is called a mature river. A mature river makes a riverbed that is U shaped. It might be very deep and run fast. It sweeps over small rocks and boulders and makes big turns around hills and mountains. It is much wider than a young river but not as wide as an old river. To cross over a mature river people use bridges. Many cities and towns are built on the banks of mature rivers. Many farms that keep animals such as dairy cows and sheep are along mature rivers because the animals can drink from the river every day. A river usually ends by flowing into an ocean or lake or a bigger river. The place where the river flows out into a bigger body of water is called the mouth of the river. As a river flows towards its mouth the countryside around the river often changes from hilly to flat. As it flows over the flat land the river becomes wider and slower. A wide slow river is called an old river. An old river often floods across the land after there is lots of rain at the headwaters. An old river slowly builds up its banks on either side the high banks are called levees. An old river often meander twists and turns and after a flood it leaves lakes behind which are called oxbows or billabongs. Old rivers are the most useful type of river for growing crops. Corn and rice and fruit and cotton and sugar are some of the crops that are grown near old rivers.

Restricted/ Unrestricted : Unrestricted

Paragraph Display : Yes

Keyboard Layout : Inscript

Show Details Panel : Yes

Show Error Count : Yes

Highlight Correct or Incorrect Words : Yes

Allow Back Space : Yes

Show Back Space Count : Yes

Hindi Mock

Group Number :	4
Group Id :	2549895565
Group Maximum Duration :	10

Group Minimum Duration :	10
Show Attended Group? :	No
Edit Attended Group? :	No
Break time :	5
Mandatory Break time :	Yes
Group Marks :	0

Hindi Mock

Section Id :	2549898927
Section Number :	1
Section type :	Typing Test
Mandatory or Optional :	Mandatory
Number of Questions :	1
Number of Questions to be attempted :	1
Section Marks :	0
Display Number Panel :	Yes
Maximum Instruction Time :	0
Sub-Section Number :	1
Sub-Section Id :	2549898968
Question Shuffling Allowed :	No
Is Section Default? :	Yes

Question Number : 78 Question Id : 25498946199 Question Type : TYPING TEST Display Question Number : Yes
Calculator : None

एक बार की बात है, अकबर और बीरबल शिकार पर जा रहे थे। अभी कुछ समय की उन्हें एक हिरण दिखा। जल्दबाजी में तीर निकालते हुए अकबर अपने हाथ पर घाव लगा बैठा। अब हालात कुछ ऐसे थे की अकबर बहुत दर्द में था और गुस्से में भी।

Restricted/ Unrestricted : Unrestricted

Paragraph Display : Yes

Keyboard Layout : Remington

Show Details Panel : Yes

Show Error Count : Yes

Highlight Correct or Incorrect Words : Yes

Allow Back Space : Yes

Show Back Space Count : Yes

Hindi Actual

Group Number :	5
Group Id :	2549895566
Group Maximum Duration :	15
Group Minimum Duration :	15
Show Attended Group? :	No
Edit Attended Group? :	No
Break time :	0
Group Marks :	0

Hindi Typing Test

Section Id :	2549898928
Section Number :	1
Section type :	Typing Test
Mandatory or Optional :	Mandatory
Number of Questions :	1
Number of Questions to be attempted :	1
Section Marks :	0
Display Number Panel :	Yes

Maximum Instruction Time :	0
Sub-Section Number :	1
Sub-Section Id :	2549898969
Question Shuffling Allowed :	No
Is Section Default? :	Yes

Question Number : 79 Question Id : 25498944409 Question Type : TYPING TEST Display Question Number : Yes
Calculator : None

यह विदित है कि हर दिन और तिथि और समय का अपना कोई न कोई अहमियत जरूर होती है। यह भी विदित है कि विशेष रूप से हमारे देश की हर तिथि और समय और दिन का संबंध लगभग किसी न किसी जरूरी विषय से जुड़ा हुआ है। यही कारण है कि हमारे देश में समय समय पर होने वाले आयोजन और प्रोग्राम किसी महान पुरुष के जीवन या किसी पौराणिक कथा व्रतांत या किसी ऐतिहासिक घटनाओं से जरूर ही संबंधित होते हैं। हम नवंबर में बाल दिवस नेहरू जयंती के रूप में मनाते हैं। बाल दिवस बालकों के दिन के रूप में मनाया जाता है। हमारे देश में चौदह नवंबर को हर साल बाल दिवस के रूप में मनाया जाता है। इस दिन को बाल दिवस के रूप में मनाने का विशेष कारण यही है कि हमारे देश के सबसे पहले प्रधानमंत्री पंडित जवाहरलाल नेहरू को बाल अतिशय प्रिय लगते थे और बाल भी उनको बड़े प्रेम से चाचा नेहरू कहा करते थे। उन के अपार प्रेम और लगाव का ही यह सुपरिणाम हुआ कि सभी बाल उनके जनम दिन बाल दिवस के रूप में मनाने लगे। पंडित जवाहरलाल नेहरू ने भी अपने जनम दिन को बालकों के असीम लगाव को अपने प्रति देखकर बाल दिवस के रूप में अपना लिया था। यूं तो आज भी बाल दिवस नवंबर को हर साल खूब धूमधाम से शिक्षालयों आदि में मनाया जाता है। तथापि सबसे पहले प्रधानमंत्री पंडित जवाहरलाल नेहरू के समय बनाये गए बाल दिवस की बात कुछ और ही थी। वह बाल दिवस सचमुच में हर प्रकार से अनूठा बाल दिवस हुआ करता था। उस समय बाल दिवस के शुभ अवसर पर आयोजित होने वाले सभी प्रोग्रामों में पंडित नेहरू खुद ही भाग लिया करते थे। उनके लिए विशेष प्रकार की योजनाएं सरकार लागू किया करती थी। वे बाल दिवस के दिन अपने सभी प्रोग्रामों को रद्द करके खुद को बाल दिवस के आयोजित प्रोग्रामों में लगा देते थे। उनको इस प्रकार अपने साथ पाकर बालक इस बाल दिवस को अपने जनम दिवस से कहीं अधिक समझकर खुशी से बाग बाग हो जाते थे। चाचा नेहरू भी बालकों को इस प्रकार खुशी से झूमते हुए देखकर फुले नहीं समाते थे। देखने वाले तो उस पल को देख देखकर खुशी से निहाल हो उठते थे। असल में उस समय मनाया जाने वाले बाल दिवस हर प्रकार से अनूठा और बेहद रोचक लगता था। बाल दिवस का दिन हमारे देश में सब जगह बड़ी धूमधाम से मनाया जाता है। इस दिन सारा देश खुशी की हिलोरे लेने लगता है। सबसे अधिक बालकों में ही खुशी का माहौल दिखाई देता है। बालकों की खुशी को देख कर जवान और बूढ़े भी बाल दिवस को और अधिक रोचक बनाने के लिए अपना पूरा पूरा योगदान दिया करते हैं। इसके लिए वे उनकी हर एक मांग को पूरी करने की कोशिश करते हैं। बालक भी अपने माता पिता और हितेषियों और अभिवावकों की हर शिक्षा आदेश का बड़े ही आदर से पालन किया करते हैं। इससे वे बाल दिवस का पूरा पूरा आनंद उठाकर अधिक संतोष का अनुभव महशूस करते हैं। यूं तो बाल दिवस साल में एक बार ही आता है। लेकिन यह हर साल अपना अलग ही अनुभव छोड़ जाता है। हर साल ऐसा लगता है मानो जैसे पहली बार मनाया जा रहा हो। बाल दिवस बालकों और सभी को बेहद प्रिय है।

Restricted/ Unrestricted : Unrestricted

Paragraph Display : Yes

Keyboard Layout : Remington

Show Details Panel : Yes

Show Error Count : Yes

Highlight Correct or Incorrect Words : Yes

Allow Back Space : Yes

Show Back Space Count : Yes